



一、连一连。(每题 8 分，共 16 分)

1.我会数，我会连。

a		4	e	
b		7	f	
c		10	g	
d		1	h	
		5		
		9		
		6		
		2		
		3		
		8		

2.把同样多的用线连起来。

①	②	③	④
a	b	c	d

二、圈一圈。(1 题 8 分，2 题 6 分，共 14 分)

1.看图圈数。

1 3 5	8 9 10	8 7 6	8 9 10
-------	--------	-------	--------

2.在后面三组图中，圈出与第一组图同样多的数量。

--	--	--	--

三、涂一涂。(1 题 6 分，2 题 8 分，共 14 分)

1.根据数字给下列图形涂上颜色。

6	4
---	---


2.照样子画一画。


_____	_____
_____	_____





四、比一比，在多的后面画“√”。(每题 3 分，共 9 分)

1. 

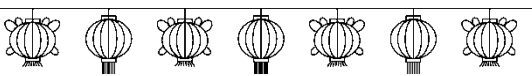



2. 

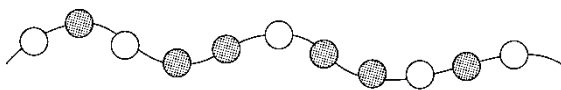



3. 


五、把不够的图形补上，把多余的图形划掉。(9 分)

9 △ △ △ _____
 4 ☆ ☆ ☆ _____
 5 ○ ○ ○ ○ ○ ○ ○ ○

六、在多的物体后面画“√”。(每题 3 分，共 6 分)



1. 
 







2. 
 



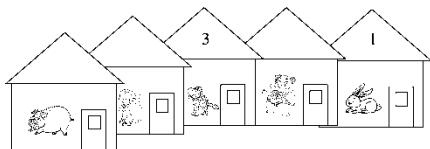


七、填一填。(每题3分, 共9分)



1. 第一行去掉()个 , 两行  同样多。
2. 第二行添上()个 , 两行  同样多。
3. 第一行移()个  到第二行, 两行  同样多。

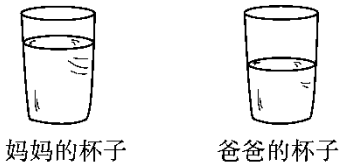
八、照样子把剩下的门牌号写上去。(9分)



九、(变式题)比一比, 最多的画“△”, 最少的画“○”。(8分)



十、两杯水原来一样多, 爸爸和妈妈谁喝的水多?(6分)



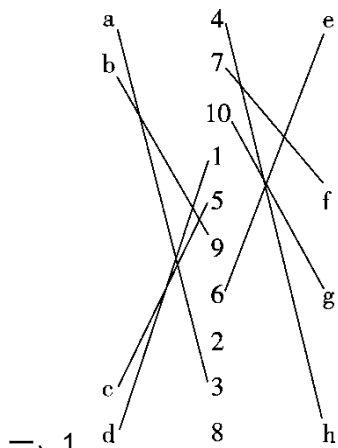
() 喝的水多。







答案



一、1.



2.

二、1. ③ ⑧ ⑥ ⑩

2. 略。

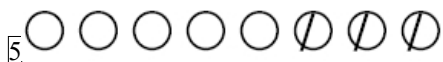
三、1. 略。

2.



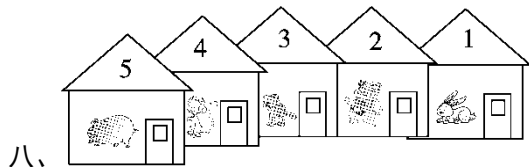
四、1. 2. 3.

五、1. 9△△△ △△△△△△



六、1. 2.

七、1. 4 2. 4 3. 2



八、

九、 (△)



十、爸爸

