



第七、八、九单元过关检测卷

一、填一填。(第9题3分, 其余每空1分, 共30分)

1. $40 \div 5 = 8$, 读作: (), 表示把()平均分成()份, 每份是(), 5是(), 商是()。
2. 36是4的()倍; 4的8倍是()。
3. 18是3的()倍, 表示()里面有()个()。
4. 30里面有()个5; ()里面有4个3。
5. 用八九七十二这句乘法口诀计算的除法算式有()和()。
6. 28个▲, 每4个分1份, 可以分成()份。
7. 8个6相加的和是(); 9个7相加的和是()。
8. 写出两道商是7的除法算式: ()和()。
9. 在()里填上合适的数。
() \times 6=54 7 \times ()=56 8 \times ()=64
() \times 6=42 5 \times ()=45 8 \times ()=40
10. 按规律填数。
(1)9、18、27、()、()、()。
(2)10、18、26、()、()、()。

二、辨一辨。(对的画“√”, 错的画“×”。每题1分, 共5分)

1. 12个苹果装2盘, 每盘一定装6个。()
2. 8是4的2倍, 是2的4倍。()
3. 5个4的和与4个5的和相等。()
4. 在乘法算式里, 积一定大于每个乘数。()

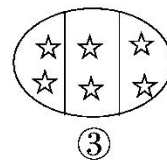
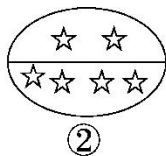
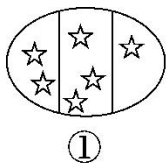




5. 一个星期 7 天, 四个星期 24 天。()

三、选一选。(将正确答案的序号填在括号里。每题 1 分, 共 5 分)

1. 下面的分法中, 是平均分的是()。



2. 不能用 7×6 表示的算式是()。

- ① $7+7+7+7+7+7$ ② $6+6+6+6+6+6+6$ ③ $6+7$

3. 商是 8 的算式是()。

- ① $8 \div 8$ ② $16 - 8$ ③ $16 \div 2$

4. 求 8 的 6 倍是多少, 正确的列式是()。

- ① 8×6 ② $8 + 6$ ③ $8 - 6$

5. 被除数是 36, 除数是 9, 商是()。

- ① 27 ② 4 ③ 3

四、算一算。(共 24 分)

1. 口算。(9 分)

$21 \div 7 =$ $35 \div 5 =$ $9 \times 8 =$

$16 + 8 =$ $32 \div 4 =$ $25 \div 5 =$

$7 \times 9 =$ $40 - 5 =$ $36 \div 4 =$

2. 在 \bigcirc 里填上“ $>$ ”“ $<$ ”或“ $=$ ”。(3 分)

$9 \times 2 \bigcirc 20$ $8 \times 9 \bigcirc 70$ $56 \bigcirc 7 \times 9$

$28 \div 4 \bigcirc 9$ $19 + 8 \bigcirc 3 \times 9$ $2 \times 8 \bigcirc 56 \div 7$

3. 在 \bigcirc 里填上“ $+$ ”“ $-$ ”“ \times ”或“ \div ”。(9 分)






$14 \bigcirc 2 = 7$ $8 \bigcirc 8 = 0$ $4 \bigcirc 2 = 6$
 $8 \bigcirc 2 = 16$ $8 \bigcirc 2 = 4$ $8 \bigcirc 2 = 10$
 $32 \bigcirc 4 = 8$ $8 \bigcirc 2 = 6$ $49 \bigcirc 7 = 7$

4. 括号里最大能填几? (3分)

$(\quad) \times 7 < 42$ $54 > 9 \times (\quad)$ $(\quad) \times 6 < 40$
 $(\quad) \times 8 < 65$ $(\quad) \times 7 < 45$ $36 > (\quad) \times 5$

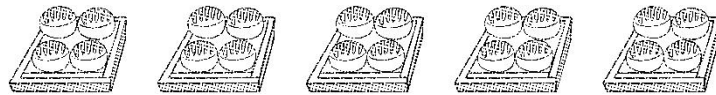
五、看图列式计算。(每题3分, 共12分)

1.



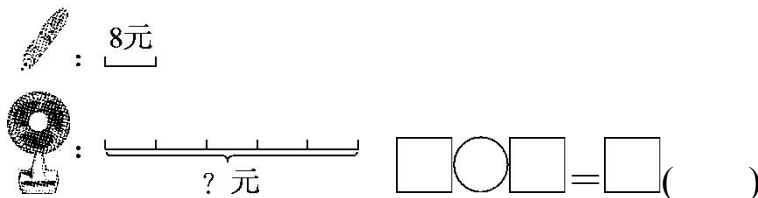
$\square \div \square = \square (\quad)$ $\square \div \square = \square (\quad)$

2.

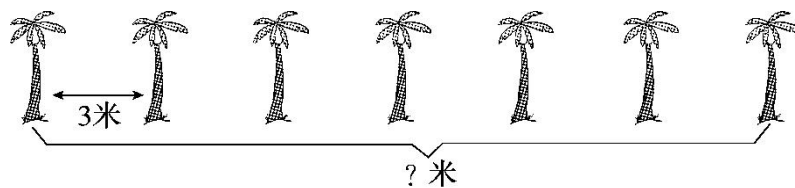


$\square \times \square = \square (\quad)$ $\square \times \square = \square (\quad)$

3.



4.






$$\square \bigcirc \square = \square (\quad)$$

六、画一画。(每题2分, 共4分)

1. ○的个数是  的4倍。

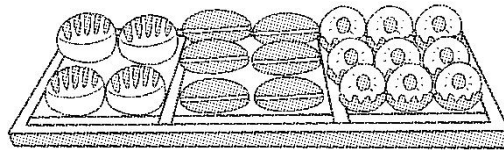


2.  的只数是□的3倍。



七、解决问题。(第1题12分, 第2题8分, 共20分)

1. 买面包。



每个7元	每个6元	每个?元
红枣面包	火腿面包	面包圈

(1)买6个红枣面包多少钱?


(2)东东用12元钱买了2个面包圈。每个面包圈多少钱?

(3)你还能提出其他用乘法或除法解决的问题并解答吗?





2.



(1)鸭有多少只？

(2)鹅有多少只？





答案

一、1.四十除以五等于八 40 5 8 除数 8

2.9 32 3.6 18 6 3 4.6 12

5. $72 \div 8 = 9$ $72 \div 9 = 8$

6.7 7.48 63

8.(答案不唯一) $7 \div 1 = 7$ $14 \div 2 = 7$

9.9 8 8 7 9 5

10.(1)36 45 54 (2)34 42 50

二、1. \times 2. $\sqrt{\quad}$ 3. $\sqrt{\quad}$ 4. \times 5. \times

三、1.③ 2.③ 3.③ 4.① 5.②

四、1.3 7 72 24 8 5 63 35 9

2. $<$ $>$ $<$ $<$ $=$ $>$

3. \div $-$ $+$ \times \div $+$ \div $-$ \div

4.5 5 6 8 6 7

五、1. $15 \div 3 = 5$ (枝) $15 \div 5 = 3$ (个)

2. $4 \times 5 = 20$ (个) $5 \times 4 = 20$ (个)

3. $8 \times 5 = 40$ (元)

4. $3 \times 6 = 18$ (米)

六、1.○○ ○○ ○○ ○○

2.□□□

七、1.(1) $6 \times 7 = 42$ (元) (2) $12 \div 2 = 6$ (元)

(3)(答案不唯一)





20 元可以买 4 个火腿面包吗？

$$4 \times 6 = 24(\text{元}) \quad 24 > 20$$

20 元不可以买 4 个火腿面包。

2.(1) $4 \times 9 = 36(\text{只})$

(2) $36 \div 6 = 6(\text{只})$

