



期末测试卷(2)

时间:60分钟 满分:100分 分数:_____

一、填空。(37分)

1. $\square \div 8 = 5 \dots \triangle$, \triangle 里最大能填(),最小能填();如果余数是3, \square 里是()。

2. 二(2)班有33名同学去划船,每条船能坐5人,要租()条船。

3. 在○里填上“>”“<”或“=”。

3厘米○3分米

5毫米○4厘米

10厘米○1米

1米○9分米

7毫米○1分米

10厘米○1分米

4. 5千米=()米 110毫米=()厘米 75厘米=()毫米

5. 接着写出2997后面的5个数()、()、()、()、()。

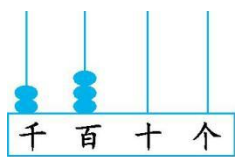
6. 一个四位数,最高位上是5,十位上是3,个位上是8,这个数写作(),读作()。

7. 在括号里填上合适的单位。

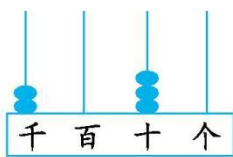
一张银行卡的厚度是1()。 教室的长度为9()。

1分硬币、1角硬币、5角硬币的厚度大约是2()。

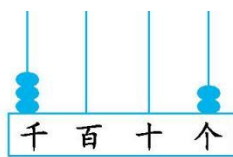
8. 写出下面各数,再把它们按从小到大的顺序排列。



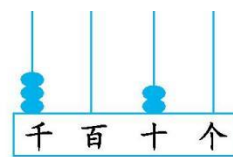
()



()



()



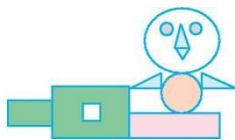
()

() < () < () < ()

9. 某玩具店有890个玩具车,上午卖出395个,下午卖出315个,还剩()个。

10. 张叔叔上周末出租车的里程表读数为569千米,本周末读数为968千米,张叔叔本周行驶的路程为()千米。(导学号 90692141)

11. 图中有()个长方形,()个正方形,()个三角形,()个圆。



二、判断。(对的在括号里画“√”,错的画“×”)(6分)

1. 一张长方形纸的四个角都是直角。 ()

2. 一只蚂蚁的身长有5厘米。 ()

3. 在有余数的除法中,除数是3,余数一定是1。 ()

4. 五边形有五条边、五个角,六边形有六条边、六个角。 ()

5. 一个数与298相加,和是645,求这个数,列式为 $298+645$ 。 ()





6. 做笔算减法时,哪一位上的数不够减,从前一位退1当10再减。 ()

三、选择。(把正确答案的序号填在括号里)(5分)

1. 在有除法和加减法的算式中,要先算()。

A. 依次计算 B. 除法 C. 加减法

2. 在一个有余数的除法算式里,余数最大是6,则除数是()。

A. 5 B. 6 C. 7

3. 写数时,把计数单位按一定的顺序排列起来,它们所占的位置叫()。

A. 位数 B. 数位 C. 计数单位

4. 小刚家到学校的距离是250米,小娟家到学校的距离是700米,他们两家与学校在同一条直线上,这两家之间相距()。(导学号 90692142)

A. 450米 B. 950米 C. 450米或950米

5. 下面四个数中,只读一个零的数是()。(导学号 90692143)

A. 5320 B. 4008 C. 5200

四计算。(19分)

1. 直接写出得数。(4分)

$$\begin{array}{lll} 4700+600= & 46+22= & 390+104\approx \\ 33\div 4= & 45\div 9= & 607-397\approx \end{array}$$

2. 用竖式计算,带☆的要验算。(9分)

$$65\div 8= \qquad \qquad \qquad \star 540-365= \qquad \qquad \qquad \star 453+369=$$

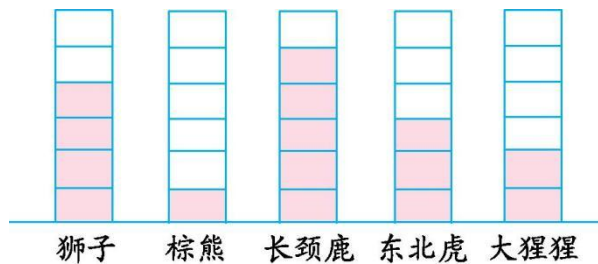
3. 脱式计算。(6分)

$$860-427-279 \qquad \qquad \qquad 642-486+365 \qquad \qquad \qquad 422+333+195$$





五. 动物园的管理人员根据动物的数量做了一次统计, 下面是几种动物数量的统计情况。(11分)



1. 画一画。(画“正”字)(5分)

| 狮子 | 棕熊 | 长颈鹿 | 东北虎 | 大猩猩 |
|----|----|-----|-----|-----|
| | | | | |



2. 填一填。(6分)

| 合计 | 狮子 | 棕熊 | 长颈鹿 | 东北虎 | 大猩猩 |
|------|------|------|------|------|------|
| ()只 | ()只 | ()只 | ()只 | ()只 | ()只 |



六. 解决问题。(22分)

1. 有 45 人坐车出去旅游, 每辆车能坐 7 人, 6 辆车够不够? 如果不够, 还需要几辆车?(3分)

2. 买电器。(11分)(导学号 90692144)



电饭煲
328元



电视
708元



手机
670元



电话
215元

(1) 妈妈买一部手机和一部电话, 共需支付多少元?(3分)





(2)一台电视比一个电饭煲贵多少元?(4分)

(3)用1000元可以购买哪些商品,还剩多少钱?(4分)

3. 小灰兔采了30个蘑菇,小白兔采了3篮蘑菇,每篮9个。小灰兔和小白兔共采了多少个蘑菇?(4分)(导学号 90692145)

4. 赵阿姨在商场给她的爸爸买了一部手机498元,买了一件衣服105元,买了一台电子琴506元,赵阿姨一共花了多少元?(4分)(导学号 90692146)





答案：

- 一、1. 7 1 43 2. 7 3. < < < > < = 4. 5000 11 750
5. 2998 2999 3000 3001 3002 6. 5038 五千零三十八
7. 毫米 米 毫米 8. 2300 2030 3002 3020 2030 2300 3002 3020
9. 180 10. 399 11. 3 1 4 4
二、1. √ 2. × 3. × 4. √ 5. × 6. ×
三、1. B 2. C 3. B 4. C 5. B
四、1. 5300 68 500 8.....1 5 200
2. $65 \div 8 = 8 \dots 1$ ☆ $540 - 365 = 175$

$$\begin{array}{r} 8 \\ 8 \overline{)65} \\ \underline{64} \\ 1 \end{array} \quad \begin{array}{r} 540 \\ - 365 \\ \hline 175 \end{array} \quad \begin{array}{r} 175 \\ + 365 \\ \hline 540 \end{array}$$

☆ $453 + 369 = 822$

$$\begin{array}{r} 453 \\ + 369 \\ \hline 822 \end{array} \quad \text{验算:} \quad \begin{array}{r} 369 \\ + 453 \\ \hline 822 \end{array}$$

3. $860 - 427 - 279 = 433 - 279 = 154$ $642 - 486 + 365 = 156 + 365 = 521$ $422 + 333 + 195 = 755 + 195 = 950$

五、1.

| | | | | |
|----|----|-----|-----|-----|
| 狮子 | 棕熊 | 长颈鹿 | 东北虎 | 大猩猩 |
| 正 | — | 正 | 下 | 下 |

□

2. 15 4 1 5 3 2
六、1. $45 \div 7 = 6(\text{辆}) \dots 3(\text{人})$ $6 + 1 = 7(\text{辆})$ $7 > 6$ 答:不够,还需要 1 辆车。
2. (1) $670 + 215 = 885(\text{元})$ 答:共需支付 885 元。
(2) $708 - 328 = 380(\text{元})$ 答:一台电视比一个电饭煲贵 380 元。
(3) ①可以购买一个电饭煲和一部手机,
 $328 + 670 = 998(\text{元})$ $1000 - 998 = 2(\text{元})$
②可以购买一个电饭煲和一部电话,
 $328 + 215 = 543(\text{元})$ $1000 - 543 = 457(\text{元})$
③可以购买一部手机和一部电话,
 $670 + 215 = 885(\text{元})$ $1000 - 885 = 115(\text{元})$
④可以购买一台电视和一部电话,
 $708 + 215 = 923(\text{元})$ $1000 - 923 = 77(\text{元})$
3. $3 \times 9 = 27(\text{个})$ $27 + 30 = 57(\text{个})$
答:小灰兔和小白兔共采了 57 个蘑菇。
4. $498 + 105 + 506 = 1109(\text{元})$
答:赵阿姨一共花了 1109 元。

