



第七单元演练

一、填空题。

1. 一个角有()个顶点和()条边。
2. 一个六边形有()个角, 一个梯形有()个角。
3. 一个三角尺上有()个角, 其中有()个直角, ()个锐角。
4. 2时整时, 钟面上时针和分针所成的角是()角。5时整时, 钟面上时针和分针所成的角是()角。
5. 一块手帕有()个角, 它们都是()角。
6. 直角比()角大, 比()角小。

二、在你认为合适的答案后面画“√”。

1. 三角尺上的直角和黑板上的直角相比, 哪个大?

三角尺上的直角大 ☐ 黑板上的直角大 ☐ 两个直角一样大 ☐

2. 钟面上几时整时, 时针和分针形成的角是直角?

1时和7时 ☐ 3时和9时 ☐ 6时和12时 ☐

3. 下面钟面上的指针一共形成了几个角?



1个 ☐

2个 ☐

3个 ☐

4. 红领巾上都有什么角?

1个直角、2个锐角 ☐ 1个直角、2个钝角 ☐ 1个钝角、2个锐角 ☐

5. 用两根小棒最多可以摆出几个直角?

1个 ☐

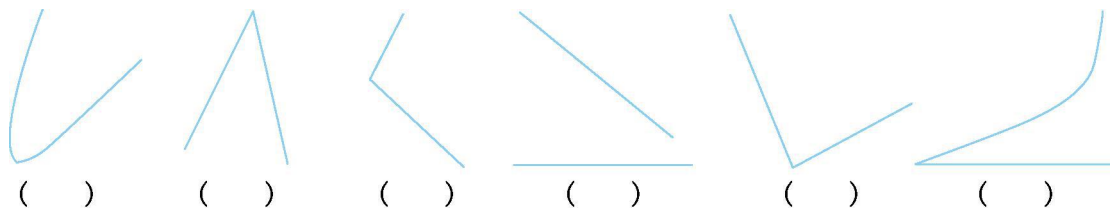
2个 ☐

4个 ☐

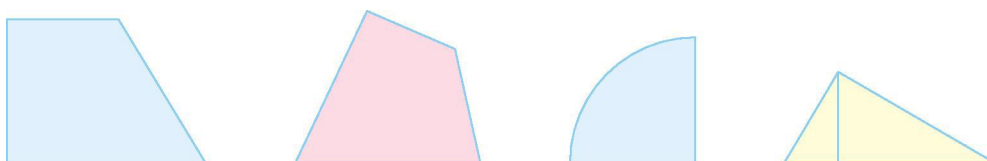




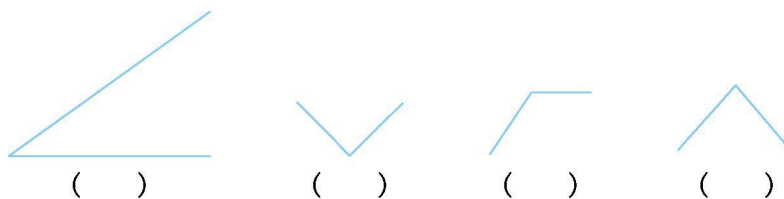
三、下面的图形中是角的在括号里画“ ”。



四、用直角符号标出下面图形中的直角。




五、在下图中最大角下面的括号里画“□”，在最小角下面的括号里画“○”。




六、画一画。

1. 在方格图上画一个直角、一个锐角和一个钝角。



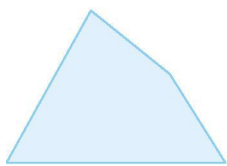
2. 在下面的图形中添上一条线段,使它增加三个直角。






七、数一数, 填一填。

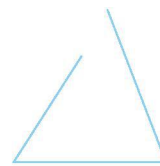
1. 数一数下面的图形中各有几个角。



() 个




() 个



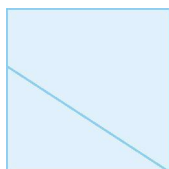
() 个

2.



角的名称	锐角	直角	钝角	合计
个 数	()	()	()	()

3. 下面的图形中一共有()个直角,()个锐角,()个钝角。





第七单元答案

一、1. 一 两 2. 6 4 3. 3 1 2 4. 锐 钝 5. 4 直 6. 锐 钝

二、1. ☐ ☐ ☒ 2. ☐ ☒ ☐

3. ☐ ☐ ☒ 4. ☐ ☐ ☒ 5. ☐ ☐ ☒

三、() (☒) (☒) () (☒)

四、略

五、(☐) () (☐) ()

六、1. 略 2. 答案不唯一,如:



七、1. 4 4 2

2. 4 3 2 9

3. 4 3 1

