



第九单元跟踪检测卷

一、填一填。(9题6分, 其余每空1分, 共24分)

1. 被除数和除数都是8, 商是(), 算式是()。

2. 64 里面有()个8, ()里面有3个9。

3. (1) 一框苹果, 刺猬想6次运完, 那么它平均每次需运()个。




(2) 36 个轮子可以组装()辆车。



4. $72 \div 9 = ()$, 用的口诀是(), 同样用这句口诀的另一道除法算式是()。

5. 右图中一共有()架玩具飞机, 列式计算是(); 每6架玩具飞机一组, 可分成()组, 列式计算是()。



6. 8 的5倍是(), 45 是9 的()倍。

7. 一个星期有7天, ()个星期有56天, 49天是()个星期。

8. 小明买了8支铅笔, 正好是小红买的铅笔数的一半, 小红买了()支铅笔。

9.

$$\boxed{9} \times \boxed{4} = \boxed{\quad}$$

$$\boxed{\quad} \times \boxed{\quad} = \boxed{\quad}$$

$$\boxed{\quad} \times \boxed{\quad} = \boxed{\quad}$$

36											
9	9	9	9								
6	6	6	6	6	6						
4	4	4	4	4	4	4	4	4	4	4	4

$$\boxed{36} \div \boxed{4} = \boxed{\quad}$$

$$\boxed{\quad} \div \boxed{\quad} = \boxed{\quad}$$

$$\boxed{\quad} \div \boxed{\quad} = \boxed{\quad}$$





二、辨一辨。(对的在括号里画“√”, 错的画“×”)(每题 1 分, 共 5 分)

1. 8 个 4 是多少, 列式为 $8 \div 4 = 2$ 。 ()
2. “ $54 \div 6 = 9$ ”读作 54 除以 9 等于 6。 ()
3. $54 \div 6 = 9$ 和 $54 \div 9 = 6$ 表示的意义是一样的。 ()
4. 4 的 9 倍比 9 的 4 倍大。 ()
5. 有 49 块糖, 7 块 7 块地拿, 7 次可以全部拿完。 ()

三、选一选。(把正确答案的序号填在括号里)(每题 2 分, 共 10 分)

1. 下列算式中, 商最大的算式是()。
① $16 \div 2$ ② $30 \div 5$ ③ $81 \div 9$
2. 得数不是 9 的算式是()。
① 9×1 ② $9 + 1$ ③ $9 \div 1$
3. 32 个苹果平均分给()个小朋友, 刚好可以分完。
① 8 ② 5 ③ 6
4. 有 42 个苹果, 每盒装 6 个, ()? 括号里填哪个选项可以用除法算式解决?
① 3 盒可以装几个苹果 ② 可以装几盒 ③ 以上都不对
5. 一道除法算式中, 被除数是除数的 6 倍, 被除数是商的 8 倍, 这道除法算式是()。
① $48 \div 6 = 8$ ② $48 \div 8 = 6$ ③ 以上都不对

四、计算挑战。(共 32 分)

1. 看谁算得又对又快。(每题 1 分, 共 12 分)


$72 \div 8 =$ $6 \times 8 =$ $45 - 5 =$ $64 + 8 =$





$56 \div 7 =$ $35 \div 7 =$ $70 - 15 =$ $7 + 5 =$

$48 - 8 =$ $63 \div 7 =$ $8 \times 2 =$ $49 \div 7 =$

2.  遮住的数是几? (每题 2 分, 共 8 分)

$7 \times \text{cloud} = 28$

$\text{cloud} \div 9 = 9$

$\text{cloud} \div \text{cloud} = 7$

$45 \div \text{cloud} = 9$

3. 括号里最大能填几? (每题 2 分, 共 12 分)

$() \times 3 < 14$

$9 \times () < 48$

$72 > () \times 9$

$() \times 7 < 33$

$4 \times () < 36$

$59 > 8 \times ()$

五、走进生活, 解决问题。(2 题 5 分, 其余每题 6 分, 共 29 分)

1. 54 人玩老鹰捉小鸡的游戏。




(1) 按右图所示分组, 可以分成几组?

(2) 如果平均分成 9 组, 每组有几人?






2. 做一件花标本需要 6 朵花，做一件树叶标本需要 8 片树叶。



3. 小兔收白菜。



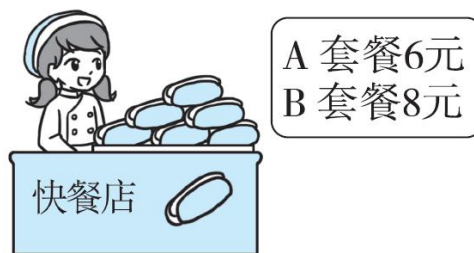
(1) 装在 4 个篮子里，平均每个篮子里装几棵？

(2) 运走 2 个篮子后，还剩几棵？



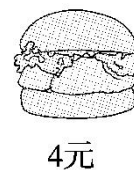


4. (1)妈妈买了 4 份 A 套餐，一共花了多少元？



(2)如果用这些钱买 B 套餐，能买几份？

5. (1)小新买了 2 个汉堡包，花了多少元？



(2)小丽花了 72 元，她花的钱是上题中小新的几倍？

(3)36 元可以买几个汉堡包？





答案

一、1.1 $8 \div 8 = 1$

2. 8 27

3. (1)8 (2)9

4. 8 八九七十二 $72 \div 8 = 9$

5. 36 $9 \times 4 = 36$ (架)

6. $36 \div 6 = 6$ (组) 【点拨】注意带上单位。

6. 40 5

7. 8 7

8. 16 【点拨】小明买的铅笔数是小红买的一半, 那么小红买的铅笔数是小明买的2倍。

9. 36 6 6 36 4 9 36

9 36 6 6 36 9 4

二、1.× 2.× 3.× 4.× 5.√

三、1.③ 2.② 3.① 4.② 5.②

四、1.9 48 40 72 8 5 55 12 40

9 16 7

2. 4 81 14 2(该题答案不唯一) 5

3. 4 5 7 4 8 7

五、1.(1) $54 \div 6 = 9$ (组)

答: 可以分成9组。

(2) $54 \div 9 = 6$ (人)





答：每组有 6 人。

2. $42 \div 6 = 7(\text{件})$ $56 \div 8 = 7(\text{件})$

答：这些花能做 7 件标本，这些树叶能做 7 件标本。

3. (1) $24 \div 4 = 6(\text{棵})$

答：平均每个篮子里装 6 棵。

(2) $4 - 2 = 2(\text{个})$ $2 \times 6 = 12(\text{棵})$

答：还剩 12 棵。

4. (1) $4 \times 6 = 24(\text{元})$

答：一共花了 24 元。

(2) $24 \div 8 = 3(\text{份})$

答：能买 3 份。

5. (1) $4 \times 2 = 8(\text{元})$

答：花了 8 元。

(2) $72 \div 8 = 9$

答：她花的钱是上题中小新的 9 倍。

(3) $36 \div 4 = 9(\text{个})$

答：36 元可以买 9 个汉堡包。

