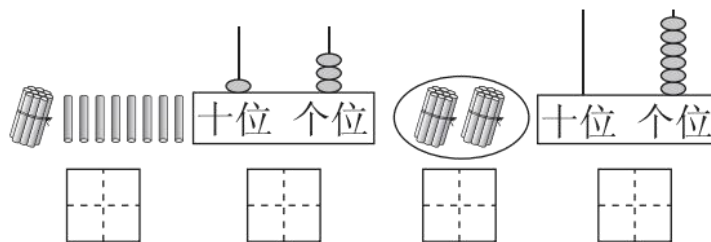




## 期末检测卷

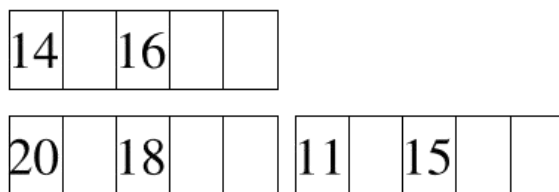
一、填一填。(每空 1 分, 共 24 分)

1. 看图写数。



2. 我是( )年级的学生, 今年( )岁了。

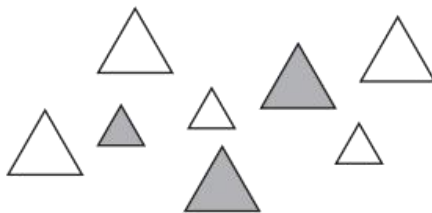
3. 找规律填数。



4. ( )里面有 9 个一和 1 个十, 20 里面有( )个十。

5. ( )在 17 的前面, 17 在( )和( )的中间。

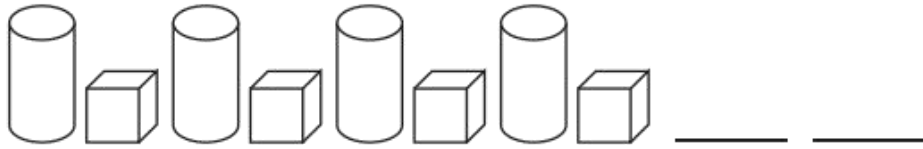
6.



可以按( )分, 也可以按( )分。

7. 按规律画一画。





二、算一算。(18分)

$4+7=$        $8-6=$        $6+9=$

$8+4=$        $9-0=$        $8+2=$

$7+5=$        $9+9=$        $14-3=$

$12-2=$        $3+8=$        $6+5=$

$5+7+2=$        $8+8-2=$

$19-10+8=$        $6+8-4=$

$15-5-6=$        $7+7-2=$

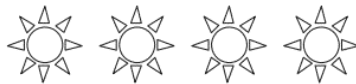
三、按要求解决问题。(1题2分, 2题4分, 3题3分, 共9分)

1. 在△的左边画2个□, 右边画4个○。



2. 画一画。

(1)画○, 与  同样多。

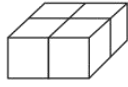


(2)画△, 比☆少2个。

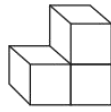




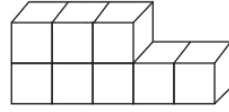
3. 数一数，填一填。



( )个



( )个



( )个

四、在  $\bigcirc$  里填上 “>” “<” 或 “=”。(6分)

10  $\bigcirc$  15-10

9+8  $\bigcirc$  6+8


9-3  $\bigcirc$  9


19-8  $\bigcirc$  11


3+6  $\bigcirc$  6+3


10  $\bigcirc$  5+6


五、猜灯谜，填一填。(6分)


 + 9 = 13

8 +  = 15

2 +  = 8

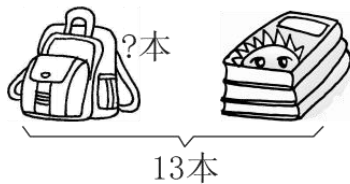
 + 7 = 12

6 +  = 12

 + 7 = 7

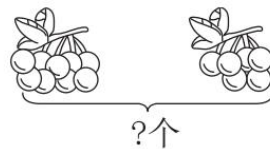
六、看图列式计算。(每题3分，共12分)

1.



$\square \bigcirc \square = \square$

2.

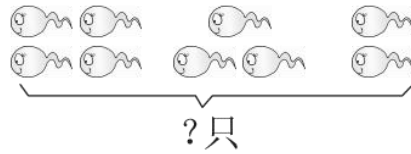


$\square \bigcirc \square = \square$



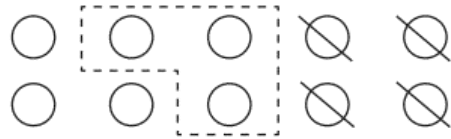


3.



$$\square \bigcirc \square \bigcirc \square = \square$$

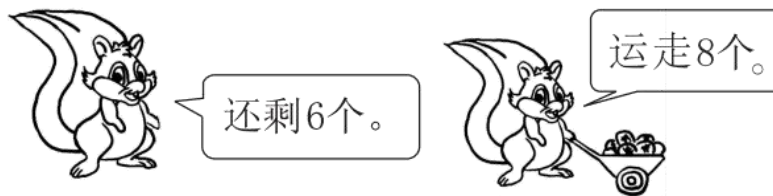
4.



$$\square \bigcirc \square \bigcirc \square = \square$$

七、解决问题。(6题5分，其余每题4分，共25分)

1.



原来有多少个松果?

$$\square \bigcirc \square = \square \text{ (个)}$$

2. 妈妈一共摘了18个苹果。




还剩多少个苹果?

$$\square \bigcirc \square = \square$$






3. 湖里共有 12 只天鹅，飞走了 5 只，湖里现在有多少只天鹅？



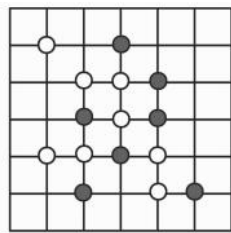
$$\square \bigcirc \square = \square$$

4. 两个花坛一共有多少朵花？



$$\square \bigcirc \square = \square$$

5. 小东和小明都是围棋迷。



你知道棋盘上一共有多少枚棋子吗？



$$\square \bigcirc \square = \square$$

6. 车上原来有 9 人，到站后，下去了 2 人，上来了 3 人。车上现在有多少人？

$$\square \bigcirc \square \bigcirc \square = \square$$





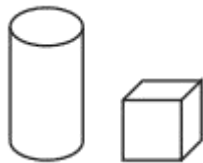
## 答案

一、1. 18 13 20 6 2. 略

3. 15 17 18 19 17 16 13 17 19

4. 19 2 5. 16 16 18 6. 颜色 大小

7.



二、11 2 15 12 9 10 12 18 11 10 11 11

14 14 17 10 4 12

三、1. □□△○○○○

2. (1)○○○○ (2)△△△

3. 4 3 8

四、> > < = = <

五、4 7 6 5 6 0

六、1.  $13-3=10$  2.  $9+6=15$

3.  $4+3+2=9$  4.  $10-4-3=3$

七、1.  $6+8=14$  2.  $18-8=10$

3.  $12-5=7$  4.  $8+8=16$

5.  $8+7=15$  6.  $9-2+3=10$

