

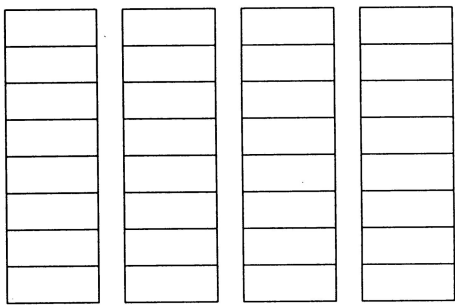


第八单元检测卷

一、先涂色，再填数。

“环保小卫士”评比	
兵兵	*** **
元元	**
兰兰	*** **
丁丁	***

姓名	兵兵	元元	兰兰	丁丁
奖励小花				



兵兵 ()个 元元 ()个 兰兰 ()个 丁丁 ()个





- 填统计表。
- 涂统计图。
- () 获得最多，() 获得最少。
- 兵兵比丁丁多 () 个，元元比兰兰少 () 个。

二、把整理的结果填在统计表里。

小猫:	正正
小熊猫:	正正正
小猴:	正正
小狗:	正





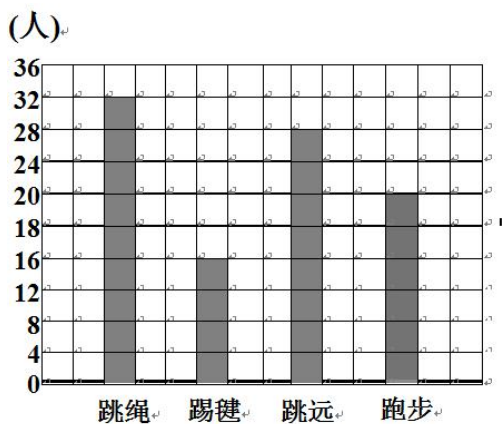
最喜欢的动物				
数量				

- 喜欢（ ）的人数最多。
- 喜欢（ ）和（ ）的人数是一样的。
- 喜欢小熊猫的比喜欢小狗的多几人？

三、看统计图回答问题。

三年级参加校运动会项目情况

（每人限一项，每人都参加校运动会）



项目	人数
跳绳	
踢毽	
跳远	
跑步	

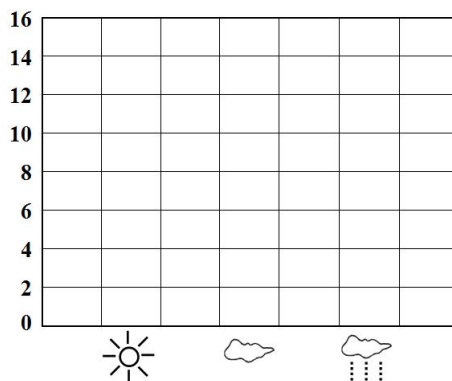
- 完成表格。
- 每格代表（ ）人。
- 参加（ ）的人最多，参加（ ）的人最少。
- 三年级一共有多少人？
- 跳绳比跑步的多几人？





四、根据下表提供的天气情况，回答问题。

1	2	3	4	5	6	7	8	9	10
11	12	13	14	15	16	17	18	19	20
21	22	23	24	25	26	27	28	29	30



1、画统计图。

2、() 的天数最多，它比 的天数多 () 天。

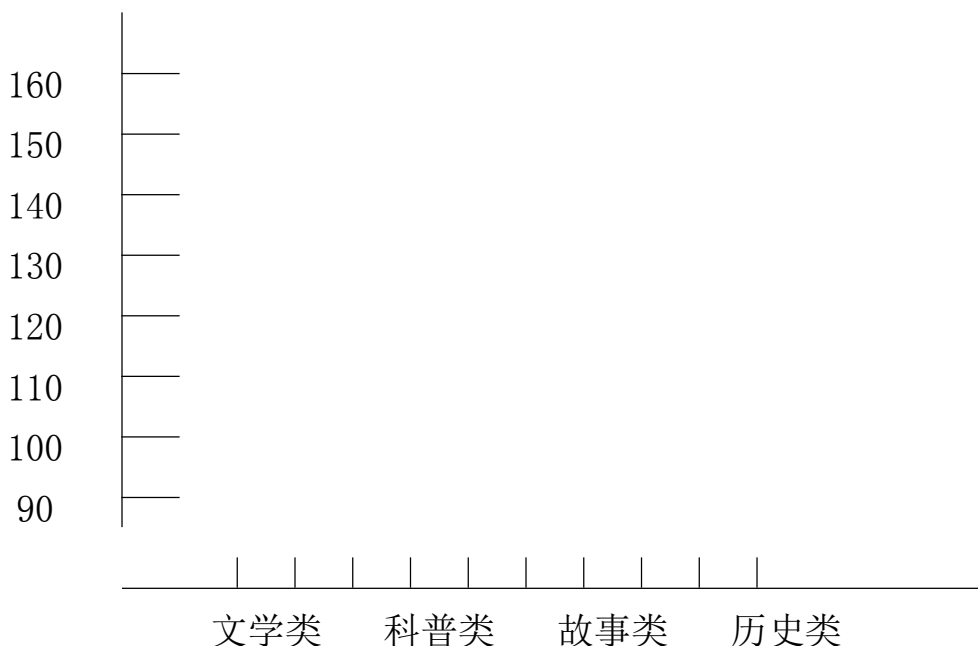
3、你还能提出什么数学问题？

五、下面是光明小学图书室上周借阅图书情况统计表。

种类	文学类	科普类	故事类	历史类
数量/本	105	160	130	120

(1) 请根据统计表完成统计图。

光明小学图书室上周借阅图书情况统计图





(2) 看统计图回答问题。

① 从统计表你得到了哪些信息？

② 图书室要购买一批新图书，你帮他建议怎样购买？





答案:

一、

姓名	兵兵	元元	兰兰	丁丁
奖励小花	6	3	8	4

(3) 兰兰最多元元最少

(4) 兵兵比丁丁多 2 元元比兰兰少 5

二、1、小熊猫

2、小猫小猴

3、10

三、1、略

2、4

3、跳绳 踢毽

4、 $32+16+28+20=96$ (人)

5、 $32-20=12$ (人)

四、略五、略

