

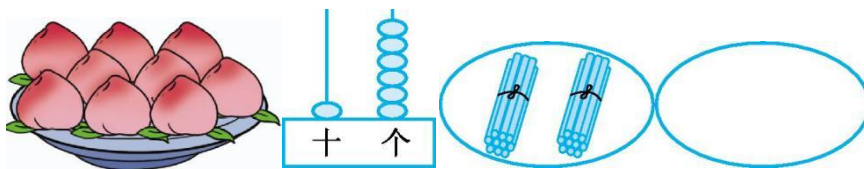


期末测试（二）

时间：60 分钟 满分：100 分 分数：_____

一、我会填。（19 分）

1. 看图写数。




() () () ()



2. 16 里面有()个十和()个一;8 个一和 1 个十合起来是()。


3. 与 19 相邻的两个数是()和()。


4.



(1) 西瓜在最()面, 苹果在最()面。(填“左”或“右”)

(2) 从右往左数,  排在第()位; 从左往右数,  排在第()位。

(3)  左面有()种水果, 右面有()种水果。

(4) 把  左面的水果用笔圈出来。

5. 在数量最多的下面画“√”。



() () ()





二、我会算。(28分)

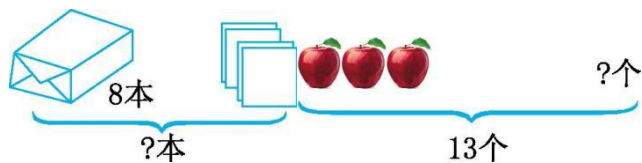
1. 直接写得数。(20分)

$$\begin{array}{ccccc}
 3+9= & 5+9= & 4+7= & 4+2= & 8+9-3= \\
 12-10= & 8+8= & 18-3= & 5+7= & 14-4-3= \\
 2+8= & 4+3= & 0+10= & 8-0= & 4+0+6= \\
 6+9= & 3+9= & 8+6= & 18-7= & 16-10+4=
 \end{array}$$

2. 在○里填上“>”“<”或“=”。(8分)


$$\begin{array}{cccc}
 15 \bigcirc 6+10 & 9+5 \bigcirc 13 & 16-6 \bigcirc 15 & 6-6 \bigcirc 1 \\
 10 \bigcirc 3+7 & 11+2 \bigcirc 16 & 17-5 \bigcirc 12+5 & 7 \bigcirc 6+3
 \end{array}$$

三、看图写算式。(9分)



$$\square \bigcirc \square = \square \text{ (本)}$$

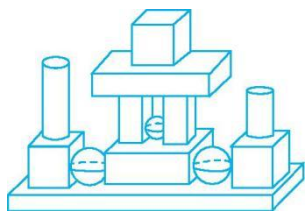
$$\square \bigcirc \square = \square \text{ (个)}$$



现在有 \square 只鹅。

$$\square \bigcirc \square \bigcirc \square = \square \text{ (只)}$$

四、我会数一数。(8分)



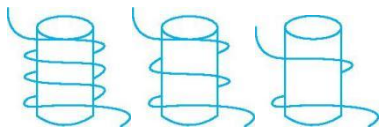
	() 个
	() 个
	() 个
	() 个





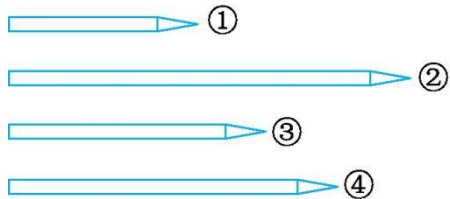
五、比一比。(7分)

1. 在最长的下面的()里面画“△”，在最短的下面的()里面画“○”。
(3分)




() () ()

2. 按从短到长的顺序排队。(4分)



() < () < () < ()

六、把每行中不同类的圈起来。(6分)



七、生活中的数学。(23分)

1. 原来有()个足球，小明又拿来()个，现在一共有()个。(7分)



$$\square \bigcirc \square = \square \text{ (个)}$$

2. (7分)



$$\square \bigcirc \square = \square \text{ (个)}$$





3. 有 16 个小朋友，每人送 1 朵花，够吗？在□中画“√”。（9 分）



够 不够

你是怎么算的？

$$\square \bigcirc \square = \square \text{ (朵)}$$





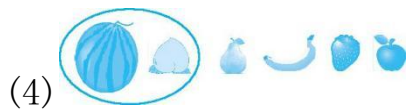
参考答案：

一、1. 9 16 20 0

2. 1 6 18

3. 18 20

4. (1)左 右 (2)6 5 (3)3 2



5. () () ()

二、1. 12 14 11 6 14 2 16 15 12 7 10 7 10 8 10 15 12 14

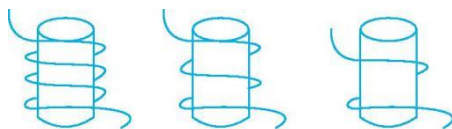
11 10

2. < > < < = < < <

三、 $8+4=12$ $13-3=10$ 13 $11+4-2=13$

四、


	(5)个
	(3)个
	(2)个
	(3)个



五、

1. (Δ) () (\circ)

2. (①)<(③)<(④)<(②)



六、

七、1. 9 5 14 $9+5=14$

2. $16-10=6$

3. 够 $8+9=17$

