




第五单元达标测试卷

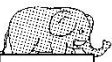
一、填一填。(每空 1 分，共 22 分)


1. 笔算加法时，()要对齐，从()位算起。
2. 68 减 5 个十是()，4 个十加 5 个一是()。
3. $45+23=()$ ，想一想： $40+()=60$ ，
()+()=8， $60+8=68$ 。
4. $37+61=()$ ，37 和 61 都叫()，和是()。
5. 被减数是 38，减数是 11，差是()。
6. 在 里填上“>”“<”或“=”。


$66-5$ <input type="text"/> $66-4$	$33+55$ <input type="text"/> $99-11$
$68-6$ <input type="text"/> $68-60$	$45+10$ <input type="text"/> $54+10$
$75+12$ <input type="text"/> $87-6$	$22+46$ <input type="text"/> $30+50$
7. 比 69 少 16 的数是()，比 42 多 20 的数是()。
8. ()比 26 少 12，()比 55 多 20。

二、圈出正确的得数。(6 分)



 $47-5$
 52 42 17


 $32+5$
 82 37 47


 $59-27$
 29 22 32


 $46+31$
 15 75 77


 $57-0$
 50 57 7


 $68-60$
 60 8 62





三、连一连。(8 分)

$$20+11$$

$$75-30$$

$$55-10$$

$$30+30$$

$$31$$

$$45$$

$$60$$

$$25+20$$

$$80-20$$

$$38-7$$

$$15+30$$

四、数学门诊。(每题 2 分，共 4 分)

$$\begin{array}{r} 43 \\ -31 \\ \hline 14 \end{array}$$

1. ()

改正:

$$\begin{array}{r} 74 \\ +2 \\ \hline 94 \end{array}$$

2. ()

改正:

五、用竖式计算。(12 分)

$$64+5=$$

$$37-6=$$

$$73+26=$$

$$95-44=$$

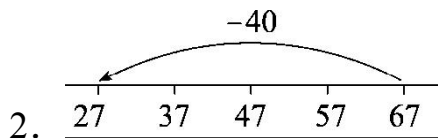
六、看图列式计算。(每题 2 分，共 8 分)



1.

?根


$$\square \bigcirc \square = \square \text{ (根)}$$




2.

$$\square \bigcirc \square = \square$$





$$\square \bigcirc \square = \square$$



$$\square \bigcirc \square = \square$$

七、算一算，填一填。(6分)

$+ 40 = 67$

$78 -$ $= 26$

$5 +$ $= 46$

$- 11 = 58$

$- 3 = 45$

$37 -$ $= 22$

八、猜猜我是谁。(4分)

我比最大的两位数少8。

()

我加8得39。

()

42比我少30。

()

我比52多25。

()

九、(变式题)生活中的数学。(1题6分，2题6分，3题9分，共21分)



我们班有49人。
语文书差多少本？
数学书差多少本？



1. 30本 40本

语文书: $\square \bigcirc \square = \square$ (本) 数学书: $\square \bigcirc \square = \square$ (本)



(1)二班有多少名同学？





$$\square \bigcirc \square = \square ()$$

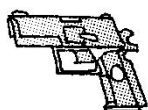
(2)两个班共有多少名同学？

$$\square \bigcirc \square = \square ()$$

3. 购物。



20元



38元



10元

(1)一把雨伞比一把玩具手枪便宜多少元？

$$\square \bigcirc \square = \square (\text{元})$$

(2)哪两种物品合起来最接近 50 元？

$$\square \bigcirc \square = \square (\text{元})$$

答：_____和_____合起来最接近 50 元。

(3)用 70 元钱买这三种物品，够吗？

$$\square \bigcirc \square \bigcirc \square = \square (\text{元}) \quad \square \bigcirc 70$$

够 ☐ 不够 ☐ (在合适的 ☐ 里画“√”)

十、把下面的竖式写完整。(6 分)

$$\begin{array}{r} \square \ 5 \\ + \ 2 \ \square \\ \hline 6 \ 8 \end{array}$$

$$\begin{array}{r} 6 \ \square \\ - \ \square \ 3 \\ \hline 5 \ 1 \end{array}$$

$$\begin{array}{r} \square \ \square \\ + \ \square \ \square \\ \hline 5 \ 5 \end{array}$$





十一、做游戏，每个空中只能填 7、8、9 中的一个，使每一横行，每一竖行的数字不重复。(3 分)

		8
	8	
8	9	





答案

一、1. 相同数位 个

2. 18 45 3. 68 20 5 3

4. 98 加数 98 5. 27

6. $<$ $=$ $>$ $<$ $>$ $<$

7. 53 62

8. 14 75

二、

52 (42) 17 82 (37) 47 29 22 (32)
15 75 (77) 50 (57) 7 60 (8) 62

三、

$20+11$ $75-30$ $55-10$ $30+30$
 31 45 60
 $25+20$ $80-20$ $38-7$ $15+30$

四、

1. (×) 改正:

$$\begin{array}{r} 43 \\ - 31 \\ \hline 12 \end{array}$$

2. (×) 改正:

$$\begin{array}{r} 74 \\ + 2 \\ \hline 76 \end{array}$$

五、69 31 99 51 竖式略。





六、1. $34+30=64$ 2. $67-40=27$

3. $46+30=76$ 4. $56-30=26$

七、27 52 41 69 48 15

点拨： $67-40=27$ $78-26=52$

$46-5=41$ $58+11=69$

$45+3=48$ $37-22=15$

八、91 点拨：最大的两位数是 99， $99-8=91$ 。

31 点拨： $39-8=31$

72 点拨：42 比我少 30，即“我”比 42 多 30， $42+30=72$ 。

77 点拨： $52+25=77$

九、1. $49-30=19$ $49-40=9$

2. (1) $47-6=41$ (名)

(2) $47+41=88$ (名)

3. (1) $38-20=18$

(2) $38+10=48$ 玩具手枪 熊猫玩具

(3) $20+38+10=68$ 68 < 够 ☒

$$\begin{array}{r} \boxed{4} \ 5 \\ + \ 2 \ \boxed{3} \\ \hline 6 \ 8 \end{array}$$

$$\begin{array}{r} 6 \ \boxed{4} \\ - \ \boxed{1} \ 3 \\ \hline 5 \ 1 \end{array}$$

$$\begin{array}{r} \boxed{1} \ \boxed{1} \\ + \ \boxed{4} \ \boxed{4} \\ \hline 5 \ 5 \end{array} \quad (\text{最后一题答案不唯一})$$

十、

十一、





9	7	8
7	8	9
8	9	7

