



期末检测卷

一、我会填。(每空 1 分, 共 22 分)

1. 在计算有余数的除法时, () 必须比() 小。
2. 用五九四十五这句口诀计算的两道除法算式是() 和 () 。
3. 72 支铅笔, 平均分给 9 个小朋友, 每个小朋友分() 支。
4. 一个四位数, 千位和十位都是 8, 其余数位是 0, 这个数读作: () , 写作: () 。
5. 在() 里填上合适的质量单位。

一块橡皮约重 6()

一袋面粉重 50()

一只鸭重 2000()

一袋盐重 250()

6. 按规律填数。

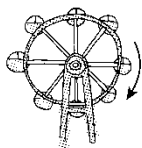
(1) 5680、5690、()、()。

(2) 14、21、()、35、()。

(3) 6600、6400、()、()。

(4) 1780、2780、()、()。

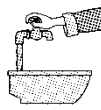
7. 下列现象是平移的在() 里画“○”, 是旋转的画“△”。



()



()



()





二、我是小法官。(对的画“√”, 错的画“×”)(每题 1 分, 共 5 分)

1. 32 个篮球分给 4 个年级, 每个年级分 8 个。 ()
2. 荡秋千是平移现象。 ()
3. 一个梨重 250 克, 4 个梨重 1 千克。 ()
4. 读 8009 时, 中间的零都不读。 ()
5. 某大桥长 2058 米, 约 2000 米。 ()

三、我会选。(每题 2 分, 共 10 分)

1. 电脑小组共有 27 人, 如果每 3 人合用一台电脑, 需要()台。
A. 9 B. 8 C. 7
2. 4080 的两个“0”()。
A. 都读出来 B. 只读一个零 C. 都不读
3. 下面字母中有()个是轴对称图形。

HAPPY

- A. 2 B. 3 C. 4
4. 989 最接近()。
A. 1000 B. 900 C. 800
5. 用算盘记数的时候, 一个上珠表示()。
A. 1 B. 0 C. 5

四、我会算。(每题 8 分, 共 24 分)

1. 直接写出得数。

$5 \times 6 =$	$32 \div 8 =$	$98 - 45 =$
$63 \div 7 =$	$81 \div 9 =$	$40 \div 5 =$





$96+25=$

$8\times 7=$

$900+700=$

$6000+600=$

$150+40=$

$4000-900=$

$4300-3000=$

$650+80=$

$300+900=$

$2800-600=$

2. 竖式计算。

$45\div 9=$

$76\div 8=$

$35\div 6=$

$56\div 8=$

3. 计算下列各题。

$68+5\times 5$

$98-27\div 3$

=

=

=

=

$(16+38)\div 6$

$8\times(24\div 3)$

=

=

=

=

五、下面是二(1)班同学喜欢的运动项目统计情况。(1题4分，其余





每题 3 分，共 13 分)

足球	正下
篮球	正正
排球	正正T
踢毽子	正正正正正正

1.把上面的统计结果填入下表中。

项目	足球	篮球	排球	踢毽子
人数				

2.喜欢哪种运动项目的人最多？喜欢哪种运动项目的人最少？

3. 如果让你给学校买体育器材，你会多买什么器材？为什么？

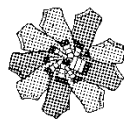
4. 你还能提出其他数学问题吗？

六、解决问题。(4 题 6 分，其余每题 5 分，共 26 分)

1. 哪一种袜子较便宜？



5双25元



9双36元





2. 买一辆自行车和一个电饭锅，爸爸带 600 元够吗？




413元



208元

3. 有 68 千克苹果，如果每筐苹果 9 千克，至少需要装多少筐？



4. 灯笼按下面的方式排列。



(1)第 19 个灯笼是什么颜色的？

(2)第 36 个灯笼是什么颜色的？

5. 小松鼠采了 43 个松果，他准备吃 9 天，还要采几个才够它每天吃 5 个？





答案

一、1. 余数 除数 2. $45 \div 5 = 9$ $45 \div 9 = 5$ 3. 8

4. 八千零八十 8080 5. 克 千克 克 克

6. (1)5700 5710 (2)28 42

(3)6200 6000 (4)3780 4780

7. \triangle \circ \triangle

二、1. \times 2. \times 3. \checkmark 4. \times 5. \checkmark

三、1. A 2. B 3. B 4. A 5. C

四、1. 30 4 53 9 9 8 121

56 1600 6600 190 3100

1300 730 1200 2200

2. $45 \div 9 = 5$

$76 \div 8 = 9 \dots 4$

$$\begin{array}{r} 5 \\ 9 \overline{) 45} \\ \underline{45} \\ 0 \end{array}$$

$$\begin{array}{r} 9 \\ 8 \overline{) 76} \\ \underline{72} \\ 4 \end{array}$$

$35 \div 6 = 5 \dots 5$

$56 \div 8 = 7$

$$\begin{array}{r} 5 \\ 6 \overline{) 35} \\ \underline{30} \\ 5 \end{array}$$

$$\begin{array}{r} 7 \\ 8 \overline{) 56} \\ \underline{56} \\ 0 \end{array}$$

3. $68 + 5 \times 5$

$98 - 27 \div 3$

$= 68 + 25$

$= 98 - 9$

$= 93$

$= 89$





$$\begin{aligned}(16+38)\div 6 & \quad 8\times(24\div 3) \\ =54\div 6 & \quad =8\times 8 \\ =9 & \quad =64\end{aligned}$$

五、1. 8 10 12 30

2. 喜欢踢毽子的人最多，喜欢足球的人最少。
3. 我会多买毽子，因为喜欢踢毽子的人最多。
4. 略。

六、1. $25\div 5=5(\text{元})$ $36\div 9=4(\text{元})$ $5>4$

答：9双装便宜。

2. 413元超过400元，208元超过200元，
 $200+400=600(\text{元})$ $413+208$ 大于600

答：爸爸带600元不够。

3. $68\div 9=7(\text{筐})\dots\dots 5(\text{千克})$ $7+1=8(\text{筐})$

答：至少需要装8筐。

4. (1) $19\div 5=3(\text{次})\dots\dots 4(\text{个})$

答：第19个灯笼是红色的。

- (2) $36\div 5=7(\text{次})\dots\dots 1(\text{个})$

答：第36个灯笼是黄色的。

5. $5\times 9-43=2(\text{个})$

答：还要采2个才够它每天吃5个。

