



第2单元过关检测卷

一、比一比。(1, 2题每题8分, 其余每题4分, 共24分)

1. 在高的下面画“√”。



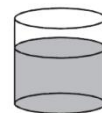

聪聪



明明



2. 在多的下面画“△”。



3. 在重的下面画“○”。



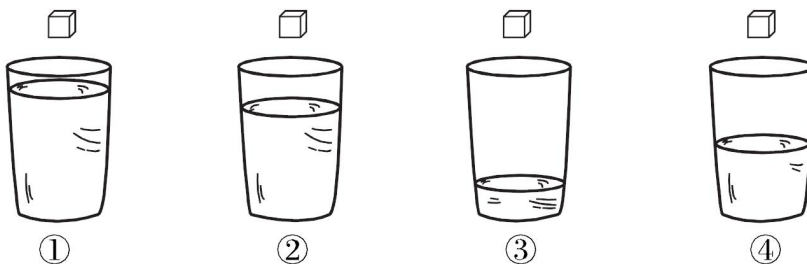
4. 在最厚的下面画“√”。



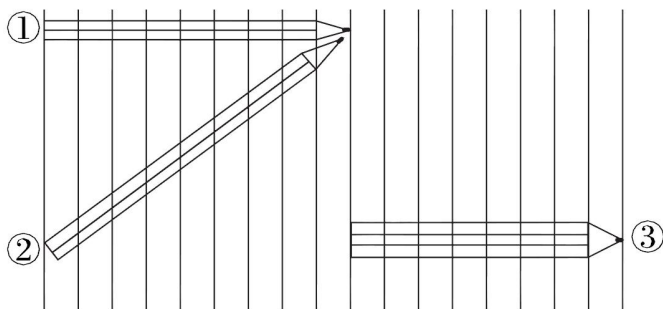
二、选一选。(每题4分, 共20分)

1. 把同样的糖放进下面的杯子里, 最甜的是哪一杯? ()。

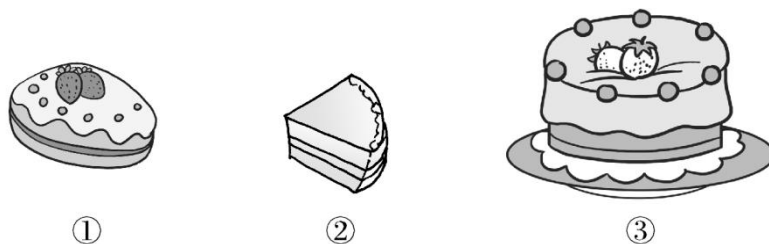




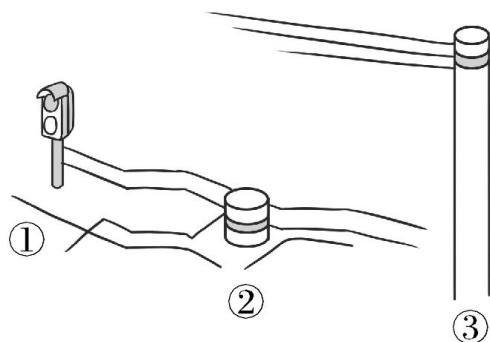
2. 哪支铅笔最长? ()。



3. 哪个蛋糕最大? ()。



4. 哪个最高? ()。


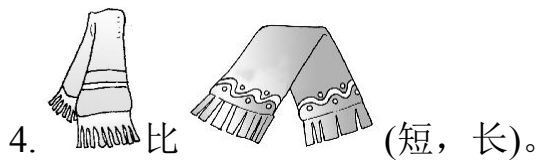
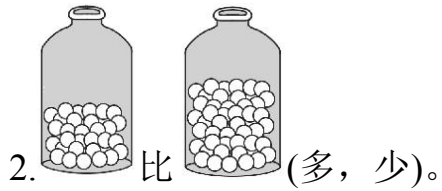



5. 哪个最重? ()。






三、圈一圈。(每题 4 分，共 20 分)



四、排一排。(1 题 8 分，其余每题 6 分，共 20 分)

1. 按从矮到高的顺序编号。






2. 哪艘船上的货物最重？请按从轻到重排一排。

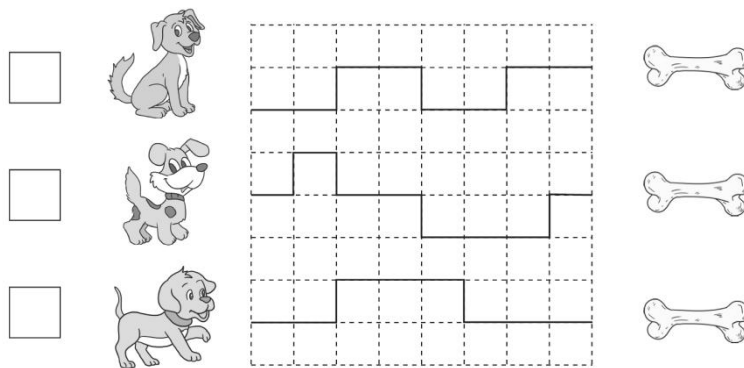


3. 观察下图，从高到矮排一排。

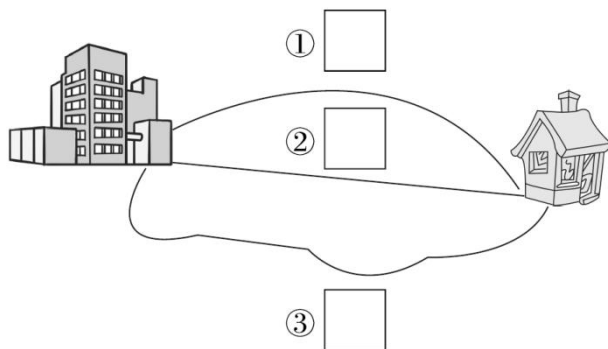


五、解决问题。(3题4分，其余每题6分，共16分)

1. 3只小狗跑得一样快，哪只小狗最先吃到骨头？在 里画“√”。




2. 哪条路最近？画“√”。



3. 汽车能从杆子下通过吗？画“√”。





能

不能





答案

- 一、1.
2.
3.
4.

- 二、1.③ 2.② 3.③
4.③ 5.②

- 三、1. (重) 2. (少) 3. (矮)
4. (长) 5. (小)

- 四、1. 3 5 4 2
2.② ③①②
3.兵兵、松松、红红

- 五、1.第3只小狗 ✓
2.② ✓
3.能 ✓

