



期末测试卷(四)

时间:60分钟 满分:100分 分数:_____

一、用竖式计算。(8分)

$5 \times 8 =$

$6 \times 9 =$

$56 \div 7 =$

$36 \div 4 =$

二、填空。(32分)

1. $6+6+6+6=() \times ()$ $9 \times 3=()+()+()$

2. $48 \div 6=()$, 读作()。

3. 写出乘法算式或除法算式。

4个6相加(), 5乘3(), 被除数是35, 除数是5()。

4. 把56个☆平均分给7个小朋友, 每个小朋友分()个☆。

5. 根据口诀填空。

四()二十四 ()七四十二 ()九六十三

$4 \times () = 20$ $30 \div () = 6$ $() \times () = 24$

6. 小亮面向南, 他的后面()面, 左面是()面, 右面是()面。

7. 画○, 使○的个数是△的3倍。

△△△△△

8. ■■■■■■■■■■

□□□□□□□□□□□□

(1)再添上()个■, 就和□同样多。





(2) 从第二行拿()个□摆到第一行, 两行的方块就同样多了。

9. 在○里填上“>”“<”或“=”。

$$3 \times 3 \bigcirc 3 \div 3 \quad 8 \times 4 \bigcirc 8 + 4 \quad 28 \bigcirc 5 \times 7 - 7$$

$$8 + 8 + 8 \bigcirc 8 \times 4 \quad 5 \times 3 + 5 \bigcirc 5 \times 4 \quad 45 \div 5 \bigcirc 9 \times 0$$

10. 括号里最大能填几?

$$() \times 4 < 26 \quad 6 \times () < 32 \quad 68 > 9 \times ()$$

三、判断。(对的在括号里画“√”, 错的画“×”) (10分)

1. 计算 $2 \times 9 = 18$ 和 $3 \times 6 = 18$ 用的是同一句乘法口诀。 ()

2. 钝角比直角大。 ()

3. 一个角的两条边越长, 这个角就越大。 ()

4. 6个7相加的和是13。 ()

5. 20是4的5倍。 ()

四、选择。(将正确答案的序号填在括号里) (10分)

1. 一条脚踏船最多可以坐2人, 一个旅游团有15名游客, 至少需要()条这样的脚踏船。

①8

②7

③15

2. 二年级(一)班种了6行花, 每行8棵; 二年级(二)班种了8行花, 每行6棵, ()。

①二年级(一)班种的棵数多

②二年级(二)班种的棵数多

③两班种的棵数同样多

3. 求6个4的和, 写成加法算式是()。





- ① $4+4+4+4+4+4$ ② 6×4 ③ $6+4$

4. $4+4+4+4$ 改写成乘法算式是()。

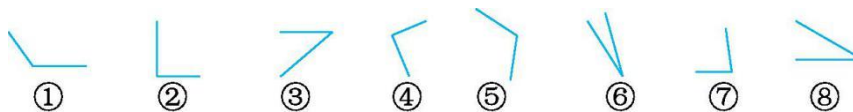
- ① 4×3 ② 4×4 ③ 4×5

5. 与 $5+5+5+10$ 的得数相等的乘法算式是()。

- ① 5×4 ② 10×4 ③ 5×5

五、动手操作。(7分)

1. 分一分。



锐角有(); 直角有(); 钝角有()。

2. 动物乐园。



小猫家在小松鼠家的()面, 小猴家的西面是()家, 东面是()家,
小 狗家在小兔家的()面。

六、解决问题。(33分)

1. 做这些裙子一共用布 24 米, 平均每条裙子用布多少米?(6分)





2. (20 分)




8元



4元




9元

(1) 28 元可以买几本  ? (5 分)

(2) 买 6 个  和 1 个 , 一共要花多少元钱? (5 分)

(3)  的价钱是  的几倍? (5 分)

(4) 小明买了 5 个 , 付了 50 元, 应找回多少元? (5 分)

3. 有 40 个同学去划船, 每条船可以坐 6 人, 租 7 条船够坐吗? (7 分)





参考答案:

一、 $5 \times 8 = 40$ $6 \times 9 = 54$ $56 \div 7 = 8$ $36 \div 4 = 9$

二、1. 4(6) 6(4) 9 9 9

2. 8 48除以6等于8

3. 4×6 或 6×4 5×3 $35 \div 5$

4. 8

5. 六 六 七 5 5 3(4) 8(6)

6. 北 东 西

7. ○○○○○ ○○○○○ ○○○○○

8. (1) 4

(2) 2

9. $>$ $>$ $=$ $<$ $=$ $>$

10. 6 5 7

三、1. \times

2. \checkmark

3. \times

4. \times

5. \checkmark

四、1. ①

2. ③

3. ①

4. ②

5. ③

五、1. 锐角:③⑥⑦⑧ 直角:②④ 钝角:①⑤

2. 北 小松鼠 小兔 北

六、1. $24 \div 8 = 3$ (米)

2. (1) $28 \div 4 = 7$ (本)

(2) $6 \times 8 + 9 = 57$ (元)

(3) $8 \div 4 = 2$

(4) $5 \times 8 = 40$ (元) $50 - 40 = 10$ (元)

3. $6 \times 7 = 42$ (人) $42 > 40$ 够

