



## 三年级上册期中检测卷

班级:                      姓名:                      满分: 100 分      考试时间: 90 分钟

### 一、填空题。(10 分)

1. 口算  $300 \times 7$  时, 想:(     )个百和 7 相乘得(     )个百, 就是(     )。
2. 长方形的周长就是(     )条边长的总和。
3.  $800 \times 5$  的积的末尾共有(     )个 0。
4. 给一个边长 20 分米的正方形桌布四周缝上花边, 花边的总长是(     )分米。长方形相邻两条边的和是 50 厘米, 它的周长是(     )厘米。
5.  $218 \times 8$  的积是(     )位数,  $314 \times 3$  的积是(     )位数。
6. 把两个边长都是 3 厘米的正方形拼成一个长方形, 它的周长是(     )厘米。

### 二、在(     )里填上“千克”或“克”。(8 分)



15(     )    1(     )    10(     )    18(     )

### 三、在○里填上“>”“<”或“=”。(12 分)

$$46 \times 2 \bigcirc 33 \times 3 \quad 512 \times 4 \bigcirc 413 \times 5$$

$$207 \times 3 \bigcirc 3 \times 207 \quad 5300 \text{ 千克} \bigcirc 5300 \text{ 克}$$

$$8 \text{ 千克} \bigcirc 9000 \text{ 克} \quad 1 \text{ 千克} \bigcirc 530 \text{ 克}$$

### 四、计算题。(27 分)

1. 直接写出得数。(9 分)

$$32 \times 3 = \quad 0 \times 711 = \quad 110 \times 8 =$$

$$7 \times 100 = \quad 16 \times 6 = \quad 9 \times 80 =$$

$$5 \times 22 = \quad 500 \times 9 = \quad 121 \times 4 =$$

2. 列竖式计算。(18 分)

$$59 \times 6 = \quad 345 \times 7 = \quad 612 \times 5 =$$





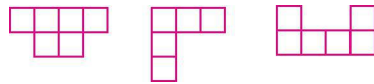
$768 \div 6 =$

$903 \div 3 =$


$723 \div 8 =$

### 五、按要求做题。(14分)

1. 下列3个图形中, 小正方形的边长是1厘米, 哪个图形的周长最大?(6分)



2. 计算下面各个图形的周长。(8分)



### 六、解决问题。(29分)

1. 学校图书室有125本工具书, 故事书的数量是工具书的6倍。学校图书室有故事书多少本?(5分)

2. 一列火车从甲站到乙站每小时行203千米, 行了4小时后离乙站还有440千米。从甲站到乙站有多远?(5分)







3.一块长方形菜地的宽是 20 米, 比长少 5 米, 这块菜地的周长是多少米? (5 分)


4.用两个长 8 厘米、宽 4 厘米的长方形, 拼成一个长方形和一个正方形, 它们的周长分别是多少厘米?(5 分)


5.王大妈沿着一面墙围一个长 25 米、宽 10 米的长方形菜地, 最少需要准备多长的篱笆? (5 分)

6.(4 分)



 = 2 千克

 = ( ) 克

 = ( ) 克





## 参考答案

一、 1.3 21 2100 2.4

3.3 4.80 100

5.四 三 6.18

二、克 克 克 千克

三、< < = > < >

四、1.96 0 880 700 96 720 110 4500 484

2.354 2415 3060 128 301 90……3

五、1.第三个图形的周长最大

2.38 厘米 40 分米

六、 $1.125 \times 6 = 750$ (本)

$2.203 \times 4 = 812$ (千米)  $812 + 440 = 1252$ (千米)

$3.20 + 5 = 25$ (米)  $25 + 20 = 45$ (米)

$45 \times 2 = 90$ (米)

4.长方形: $8 + 8 + 4 = 20$ (厘米)  $20 \times 2 = 40$ (厘米)

正方形: $8 \times 4 = 32$ (厘米)

5.  $10 + 10 + 25 = 45$ (米)

6.500 250

