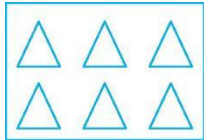






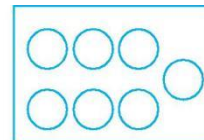




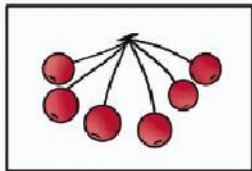

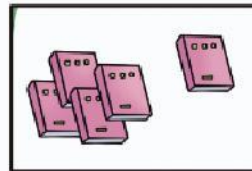




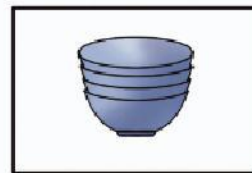
期中测试卷（二）

时间:60分钟 满分:100分 分数:_____

一、看图写数字。(8分)

			
<input type="text"/>	<input type="text"/>	<input type="text"/>	<input type="text"/>
			
<input type="text"/>	<input type="text"/>	<input type="text"/>	<input type="text"/>

二、把同样多的连起来。(8分)

三、我会比较。(12分)

1. 在多的下面的括号里画“√”，在少的下面的括号里画“○”。


(2分)

	<input type="text"/>	<input type="text"/>
	()	()







2. (1) 在最短的后面的 () 里画“√”。(2分)




(2) 在长的后面的 () 里画“√”。(2分)



3. (1) 在最高的下面的□里画“√”，在最矮的下面的□里画“○”。
 (2分)



(2) 在最大的下面的□里画“√”，在最小的下面的□里画“○”。
 (2分)

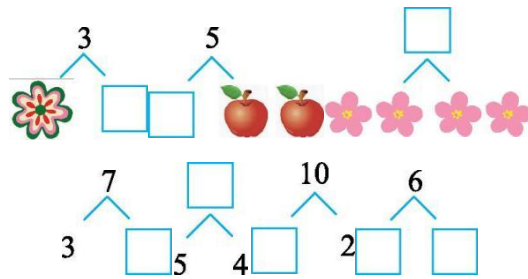


4. 在最轻的右面的□里画“○”，在最重的右面的□里画“√”。
 (2分)






四、填一填。(8分)



五、看图计算。(8分)



$$\square \bigcirc \square = \square \text{ (个)}$$

$$\square \bigcirc \square = \square \text{ (只)}$$


六、直接写得数。(20分)

- | | | | | |
|--------|---------|--------|--------|---------|
| 7+3= | 9-4= | 4+5= | 0+4= | 9-8= |
| 6+1= | 2+8= | 7-0= | 9-9= | 10-3= |
| 5-3= | 10-5+4= | 8-4+3= | 5+1+2= | 6+4-4= |
| 7-5+2= | 8+1-3= | 7-6+4= | 3+2+5= | 10-2-8= |

七、在○里填上“>”“<”或“=”。(10分)

- | | | | | |
|-------|----------|-------|--------|---------|
| 4-3○4 | 6-2○7 | 0+5○5 | 7+3○10 | 2-2○2+2 |
| 5+5○8 | 10-4+3○8 | 3+6○5 | 7○3+3 | 8-3○6 |

八、把每行中不同类的圈起来。(10分)





九、解决问题。(12分)

1. (6分)



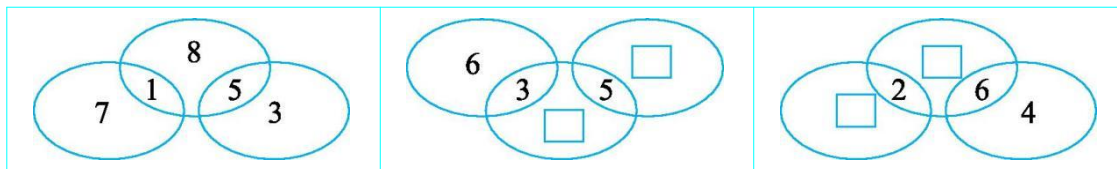
$$\square \bigcirc \square = \square$$

2. (6分)



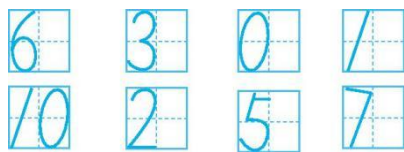
$$\square \bigcirc \square \bigcirc \square = \square$$

十、找规律，在□里填数。(4分)



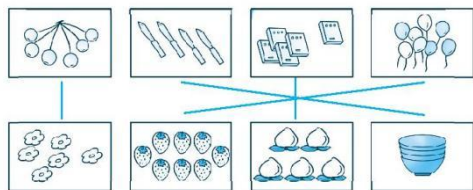


参考答案：



一、

解析：本题主要考查的知识点是认识 10 以内的数。解决这道题的关键是会数数和写数。写数时把 0、1、2、3、4、5、6、7、8、9 写在左半格中。



二、

解析：本题主要考查的知识点是数数的方法。数数时要按顺序数，以免遗漏，先数完，再连线。



三、1.

() (○)

解析：本题主要考查的知识点是比多少的方法。解决这道题的关键是先数出小猫的只数。左边有 5 只，右边有 3 只， $5 > 3$ ，所以左边的多，右边的少。



2. (1) ()

()

()


解析：本题主要考查的知识点是比长短的方法。图中的三支铅笔，起始点是相同的，所以一眼就能看出最短的是第三支。




(2)

解析：本题主要考查的知识点是比长短的方法。图中第二条线是曲线，伸直后比第一条线长。

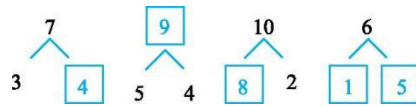
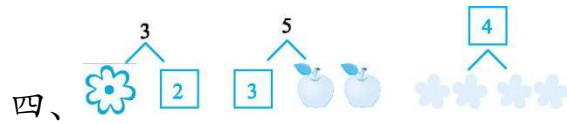




√ ○



√ ○




(最后两空答案不唯一)

五、 $3+4=7$ $5+4=9$

六、10 5 9 4 1 7 10 7 0 7 2 9 7 8

6 4 6 5 10 0

七、< < = = < > > > > <



九、1. $10-3=7$

2. $8-2+3=9$

十、

