





## 5 单元跟踪检测卷

一、填一填。(每空 2 分，共 34 分)



日记本有( )本，笔记本有( )本，笔记本的本数是日记本的( )倍。



(1)  的只数是  的( )倍。

(2)  的只数是  的( )倍。

3.  的个数是  的 5 倍，草莓有( )个。

4. 一朵花有 5 片花瓣，3 朵这样的花有( )片花瓣。

5. 6 个 3 的和可以说成 3 的( )倍，7 的 4 倍可以说成( )个( )的和。

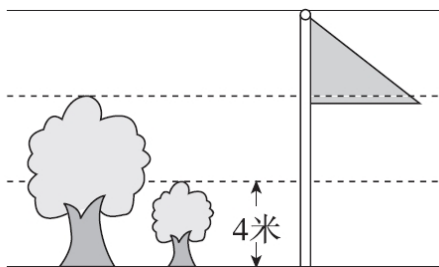
6. 同学们进行拍球比赛，冬冬拍了 8 下，明明拍了 24 下，明明拍的下数是冬冬的( )倍。

7. 48 里面有( )个 8，48 是 8 的( )倍。

8. 比高度。

(1) 大树的高度约是小树的( )倍，约是( )米。

(2) 旗杆的高度约是小树的( )倍，约是( )米。




二、辨一辨。(对的画“√”，错的画“×”)(每题 1 分，共 5 分)





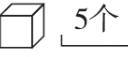
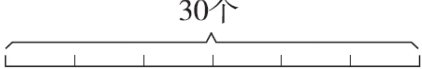


1. 红花有 6 朵, 黄花的朵数是红花的 2 倍, 黄花有 8 朵。 ( )

2. 求 4 的 6 倍是多少, 就是求 4 个 6 是多少。 ( )

3.  桃子的个数是西红柿的 3 倍。 ( )

4.  求梨有多少个, 就是求 3 个 6 是多少, 也就

是求 6 的 3 倍是多少, 列式是  $6 \times 3$ 。 ( )

5.  5个  30个  的个数是  的 6 倍。 ( )

三、选一选。(把正确答案的序号填在括号里)(每题 2 分, 共 10 分)

1. 求 7 的 6 倍是多少, 正确的列式是( )。

- A.  $7+6$       B.  $7-6$       C.  $7 \times 6$

2.  $4 \times 8$  表示的含义不正确的是( )。


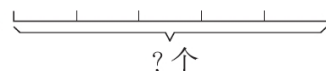
- A. 表示 4 的 8 倍      B. 表示 4 个 8 是多少  
C. 表示 8 个 4 是多少      D. 表示 4 与 8 的和

3. 一桶油重 9 千克, 下面( )的质量是油的质量的 3 倍。


- A. 一袋大米(重 36 千克)  
B. 一袋面粉(重 45 千克)  
C. 一桶水(重 27 千克)

4. 右图中, 苹果和梨一共有( )个。

:  9个

:  ?个

铅笔:  5角  
是铅笔价格的?倍

钢笔: 





A. 45      B. 36      C. 54

5. 解决右图中问题正确列式是( )。

A.  $3 \times 5$       B.  $30 \div 5$       C.  $5 \times 6$

四、按要求解决。(共 21 分)

1. 我会操作。(每题 4 分, 共 8 分)

(1)画○, 使○的个数是△的 3 倍, 并填一填。

第一排:  $\triangle\triangle\triangle\triangle$

第二排: \_\_\_\_\_

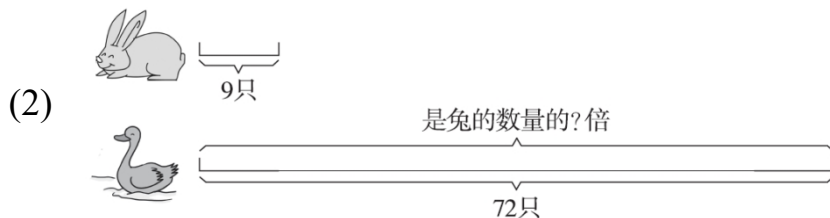
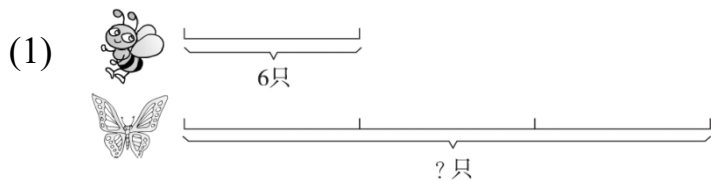
第二排 4 个○为一组, 要画( )组, 一共要画( )个○。

(2)照样子圈一圈, 填一填。



的个数里有 ( ) 个 2, 的个数是 的 ( ) 倍。

2. 看图列式计算。(4 分+4 分+5 分=13 分)





(3)

五、解决问题。(每题 6 分，共 30 分)

1. 六一儿童节，学校操场插了 8 面黄旗，红旗的数量是黄旗的 6 倍。  
一共插了多少面旗？

2. 掂球比赛。

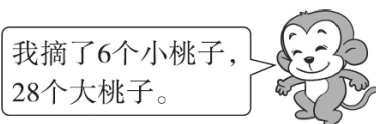
(1)小浩第一次掂了多少个？



(2)小浩第二次掂了 36 个，是小军第一次掂的个数的几倍？

3. 小猴子上山摘桃子，如果要摘的大桃子的个数是小桃子的 6 倍。


小猴子不想再摘小桃子了，那么它还要再摘多少个大桃子？



4. 做南瓜灯。

(1)爸爸做了多少个南瓜灯？





(2)珍妮和爸爸每人送给汤姆 1 个南瓜灯，现在爸爸的南瓜灯的个数是珍妮的几倍？



(1)豆豆今年多少岁？

(2)明年爷爷的年龄是豆豆的几倍？





## 答案

一、1. 3 6 2 2. (1)2 (2)2

3. 15 4. 15

5. 6 4 7 [点拨] 7的4倍只能说成4个7的和, 不能说成7个4的和。

6. 3 7. 6 6 8. (1)2 8 (2)3 12

二、1.  $\times$  2.  $\times$  3.  $\times$  4.  $\sqrt{\quad}$  5.  $\sqrt{\quad}$

三、1. C 2. D 3. C

4. C [点拨] 别忘了还要加上9个苹果。

5. B

四、1. (1) ○○○○ ○○○○ ○○○○

3 12

(2)   


8 8

2. (1) $6 \times 3 = 18$ (只) (2) $72 \div 9 = 8$

(3) $8 \times 4 + 3 = 35$ (岁)

五、1.  $6 \times 8 + 8 = 56$ (面) 答: 一共插了56面旗。

2. (1) $6 \times 5 = 30$ (个)

答: 小浩第一次掂了30个。

(2) $36 \div 6 = 6$

答: 是小军第一次掂的个数的6倍。

[点拨] “倍”不是单位, 它表示的是两个量之间的关系。





3.  $6 \times 6 - 28 = 8$ (个)

答：它还要再摘 8 个大桃子。

4. (1)  $5 \times 5 = 25$ (个)

答：爸爸做了 25 个南瓜灯。

(2)  $5 - 1 = 4$ (个)  $25 - 1 = 24$ (个)

$$24 \div 4 = 6$$

答：现在爸爸的南瓜灯的个数是珍妮的 6 倍。

5. (1)  $63 \div 9 = 7$ (岁) 答：豆豆今年 7 岁。

(2)  $63 + 1 = 64$ (岁)  $7 + 1 = 8$ (岁)

$$64 \div 8 = 8$$

答：明年爸爸的年龄是豆豆的 8 倍。

