



第五单元测试卷(一)

一、填空题。

- 口算 $320 \div 4$, 可以用 32 个()除以 4 等于()个十, 是()。
- 从 572 里面连续减 4, 最多能减()次。
- 由算式 $121 \times 7 + 6 = 853$, 可以判定 $853 \div 7$ 的商是(), 余数是()。
- 根据 $39 \div 3 = 13$, 写出下面各题的商。
 $390 \div 3 = ()$ $3900 \div 3 = ()$
- $\square 42 \div 5$, 商是三位数, \square 里最小填()。
- $675 \div 5$, 要使商增加 1, 被除数应增加()。
- 算式 $\square \div 9 = \square \dots \square$ 中, 商和余数相等, 那么被除数最大是(), 商和余数都是()。

二、判断题。(对的画“ ”, 错的画“×”)

- $76 \div 8 = 9 \dots 4$ 也可以写成 $76 \div 9 = 8 \dots 4$ 。()
- 一个数除以 9 的商是 8, 有余数, 那么这个数最大是 80。()
- 0 除以任何数都得 0。()
- 两个数相除的商一定小于这两个数相乘的积。()
- 三位数除以一位数, 商一定是三位数。()

三、计算题。

1. 直接写出得数。

$0 \div 18 =$ $180 \div 6 =$ $270 \div 9 =$

$80 \times 7 =$ $80 \div 2 =$ $150 \div 5 =$

$630 \div 9 =$ $50 \times 6 =$ $600 \div 6 =$

$90 \div 9 =$ $400 \div 5 =$ $560 \div 7 =$

2. 用竖式计算, 带★的要验算。

$98 \div 7 =$

$795 \div 7 =$

$785 \div 5 =$

$\star 345 \div 3 =$

$236 \div 2 =$

$605 \div 5 =$





$870 \div 8 =$

$\star 593 \div 5 =$

四、在○里填上“>”“<”或“=”。

$682 \div 6 \bigcirc 855 \div 5$

$234 \div 2 \bigcirc 468 \div 4$

$24 \times 6 \bigcirc 576 \div 4$

$471 \div 3 \bigcirc 160$

$123 \times 5 \bigcirc 615 \div 5$

$513 \div 5 \bigcirc 503 \div 5$

五、括号里最大能填多少？

$() \times 5 < 351$

$() \times 6 < 478$

$8 \times () < 500$

$9 \times () < 456$

$587 > 7 \times ()$

$304 > () \times 6$

六、解决问题。

1. 走进书店。



120元/套

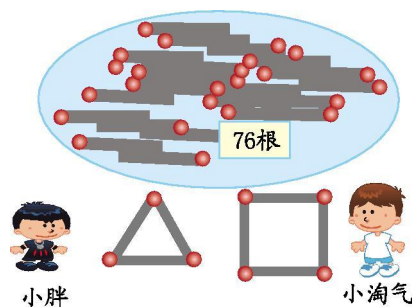


4元/本

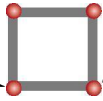
(1) 一套《少年百科》的价钱是一本《小猕猴》的多少倍？

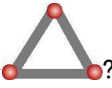
(2) 王老师带了732元，买了6套《少年百科》，剩余的钱可以买多少本《小猕猴》？

2. 小游戏。





(1) 用上面那些火柴，小淘气最多能拼成多少个  ?

(2) 用上面那些火柴，小胖最多能拼成多少个  ?

3. 小明买了4套《童话故事丛书》，付给营业员阿姨500元，找回4元，每套《童话故事丛书》多少钱？

4. “十一”黄金周。

华联超市
牛奶7元1盒，
买5盒送1盒。

宝福邻超市
牛奶原价7元1盒，
现降价为6元1盒。

两家超市的牛奶质量一样。要买6盒牛奶，去哪家超市合算些？





参考答案

一、1. 十 8 80 2. 143 3. 121 6 4. 130 1300

5. 5 6. 5 7. 80 8

二、1. 2. 3. × 4. × 5. ×

三、1. 0 30 30 560 40 30 70 300 100 10

80 80

2. 14 113……4 157 115 118 121

108……6 118……3 验算略

四、< = = < > >

五、70 79 62 50 83 50

六、1. (1) $120 \div 4 = 30$

(2) $6 \times 120 = 720$ (元) $732 - 720 = 12$ (元)

$12 \div 4 = 3$ (本)

2. (1) $76 \div 4 = 19$ (个)

(2) $76 \div 3 = 25$ (个)……1 (根)

3. $500 - 4 = 496$ (元) $496 \div 4 = 124$ (元)

4. 华联超市: $5 \times 7 = 35$ (元) 宝福邻超市: $6 \times 6 = 36$ (元)

35 元 < 36 元 华联超市合算些。

