



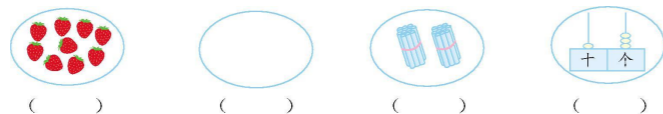
青岛六三制上学期一年级期末检测卷

班级: _____ 姓名: _____ 满分: 100 分 考试时间: 90 分钟

题序	第一题	第二题	第三题	第四题	第五题	第六题	第七题	第八题	总分
得分									

一、想一想, 填一填。(15 分)

1. 看图写数。



2. 18 里面有()个十和()个一; 20 里面有()个十。



3. 一共有()颗星, 从左起第()颗星是红色。

4. 一只蚂蚁有 6 只脚, 两只蚂蚁有()只脚。



5. 苹果比梨多()个; 桃比苹果少()个; 梨比桃多()个; 去掉()个苹果, 苹果和梨同样多。

6. 同学们做操, 小红前面有 8 个同学, 后面有 4 个同学, 这一队一共有()个同学。

二、按要求做一做。(10 分)

1. (4 分)




(1) 把上图中不同类的划掉。

(2) 把右边的 3 个圈出来; 从左边数, 在第 3 个物体的下面画“√”。


2. 比一比, 猜一猜。(6 分)

(1) 小动物们要到小猫家玩, 谁走得路最短? 在 里画“√”。



(2) 在最多的下面画“√”。

(3) 在最短的下面画“×”。




三、算一算。(12 分)

$10-8=$	$9+7=$	$13-3=$	$4+9=$
$7-6+5=$	$10-4-4=$	$2+7+6=$	$2+6-4=$
$14-3=$	$8+5=$	$5+6=$	$9-4=$

四、在 里填上“>”“<”或“=”。(12 分)

$16-5$ <input type="checkbox"/> 10	$5+9$ <input type="checkbox"/> 15	$6+8$ <input type="checkbox"/> $8+6$
14 <input type="checkbox"/> $8+7$	$12+0$ <input type="checkbox"/> $12-0$	$11-5-2$ <input type="checkbox"/> 9

五、辨一辨, 填一填。(6 分)



苹果在 的()面; 葡萄在 的()面; 在 的()面。

班级: _____

姓名: _____


准考证号: _____

密





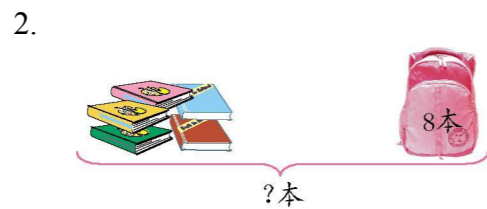
六、数一数, 填一填。(8分)



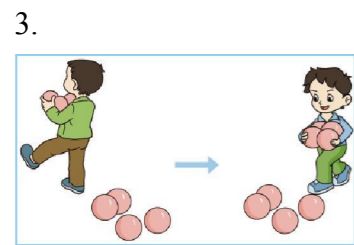
七、看图列式计算。(12分)




$$\square \bigcirc \square = \square \text{ (支)}$$



$$\square \bigcirc \square = \square \text{ (本)}$$



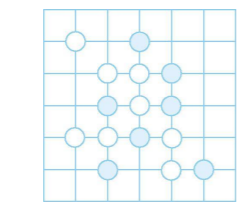
$$\square \bigcirc \square \bigcirc \square = \square \text{ (个)}$$



$$\square \bigcirc \square \bigcirc \square = \square \text{ (只)}$$

八、解决问题。(25分)

1. 一共有多少枚棋子?(5分)



$$\square \bigcirc \square = \square \text{ (枚)}$$

2. 小黄猫钓了几条鱼?(5分)



$$\square \bigcirc \square = \square \text{ (条)}$$

3. (5分)



$$\square \bigcirc \square = \square \text{ (个)}$$

4. 两个花坛一共有多少朵花?(5分)



$$\square \bigcirc \square = \square \text{ (朵)}$$

5. (5分)



$$\square \bigcirc \square \bigcirc \square = \square \text{ (人)}$$



○ : : : : : 密 : : : : : 封 : : : : : 线 : : : : : 内 : : : : : 不 : : : : : 要 : : : : : 答 : : : : : 题 : : : : : ○

