



## 二年级第二学期数学期末测试卷(2)

一、填空题。(每空 1 分, 共 22 分)

1. 6 个一和 9 个百组成的数是( ), 与这个数相邻的两个数是( )  
和( )。

2. 小明身高是 1( )35( ), 体重约 25( ), 每天睡  
9( ), 早上刷牙需要 3( )。

3. 35 名同学去公园划船, 每条船坐 4 人, 租( )条船合适。

4. 计算有余数的除法时, ( )数一定比( )数小。

5. 3 时 5 分=( )分

100 秒=( )分( )秒

400 厘米=( )米

5 千克=( )克

6. 明明拿 100 元, 买了一顶 25 元的帽子和一条 45 元的围巾, 还剩  
( )元。

7. 烧一壶开水需要 18 分钟, 如果张阿姨 9: 55 开始烧水, 水烧开的  
时刻是( )时( )分。

8.      这几件衣服, 共有( )种搭配方式。

9. 根据  $485 - 120 = 365$  写出两个相关的算式:( )、  
( )。

二、判断题。(每题 1 分, 共 5 分)

1. 正方形 4 条边相等, 4 个角也相等。 ( )





2. 45 人一起吃饭, 每桌 8 人, 至少需要 5 张桌子。 ( )
3. 厘米可以用字母“dm”表示。 ( )
4. 小明跑 100 米用了 18 秒, 小白用了 19 秒, 小明跑得快。 ( )
5. 用 3、0、8 组成的三位数中, 最大的是 803。 ( )

三、选择。(每题 2 分, 共 10 分)

1. 服装店中有两款上衣, 定价分别为 60 元和 100 元, 妈妈在店里买了三件上衣, 妈妈可能花了( )元。
- A. 400                      B. 220                      C. 150
2. 东风小学的 3 名男教师与 2 名女教师握手。每名男教师分别和每名女教师握一次手, 一共要握( )次手。
- A. 12                      B. 9                      C. 6
3. 把 32 个礼物平均装在相同的盒子里, 不能有剩余, 应选( )盒子。



每盒装 5 个

A



每盒装 7 个

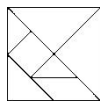
B

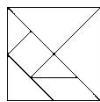


每盒装 8 个

C

4. 在一张长 20 cm, 宽 15 cm 的长方形纸上剪下一个最大的正方形, 正方形的边长是( )。
- A. 15 cm                      B. 5 cm                      C. 10 cm



5. 七巧板  里没有( )。
- A. 正方形                      B. 长方形                      C. 平行四边形

四、计算。(1、2 题每题 8 分, 5 题 4 分, 其余每题 6 分, 共 32 分)

1. 直接写得数。





$390 - 170 =$        $500 - 160 - 140 =$        $145 + 78 + 22 =$        $65 \div 7 =$

$822 + 146 =$        $78 + (56 - 22) =$        $150 - (56 + 94) =$        $88 \div 9 =$

2. 在  里填上合适的数。

$$\begin{array}{r} 5 \quad \square \quad 8 \\ + \quad \square \quad 6 \quad \square \\ \hline 7 \quad 4 \quad 7 \end{array}$$

$$\begin{array}{r} 6 \quad 4 \quad 3 \\ - \quad \square \quad \square \quad \square \\ \hline 4 \quad 9 \end{array}$$

$$\begin{array}{r} 7 \quad \square \quad 8 \\ + \quad \square \quad 9 \quad 7 \\ \hline 9 \quad 0 \quad \square \end{array}$$

$$\begin{array}{r} 9 \quad \square \quad 4 \\ - \quad \square \quad 5 \quad 6 \\ \hline 3 \quad 6 \quad \square \end{array}$$

3. 在  里填上“>”“<”或“=”。

109 克  100 千克

60 秒  60 分

6 米  99 厘米

535 克  749 克

2 千克  2000 克

1 时  100 分

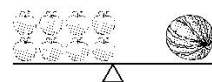
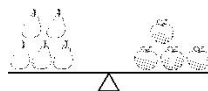
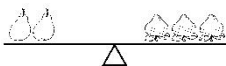
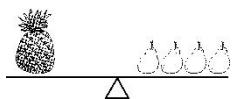
4. 脱式计算。

$467 - 278 - 121$

$412 - 112 + 89$

$568 - (218 + 182)$

5. 巧妙推算。



1 个菠萝的质量 = (      ) 个

3 个西瓜的质量 = (      ) 个

桃子的质量

梨的质量





五、量一量，画一画。(1 题 2 分， 2 题 3 分， 共 5 分)

1. 用直尺测量下面线段的长度。



2. 按要求画一画。

(1)画一条直线，将长方形分成两个完全一样的三角形



(2)画一条直线，将长方形分成一个正方形和一个长方形



(3)画一条直线，将长方形分成两个完全一样的小长方形



六、解决生活中的问题。(5 题 6 分， 其余每题 5 分， 共 26 分)

1. 自行车超市有 827 辆自行车，一个星期卖了 435 辆，又运进 374 辆，现在有多少辆自行车？

2. 李老师准备了一些铅笔送给同学们，如果每人分 6 支，可以分给 9 人，还剩 3 支，李老师一共准备了几支铅笔？





3. 妈妈早上 8:00 上班, 中午休息 1 小时 30 分钟, 下午 5:30 下班,  
妈妈一天工作多长时间?

4. 每根装饰带长 7 分米, 5 米长的彩带最多能剪成多少根装饰带?

5. 下面是建胜小学一至三年级同学制作爱心卡情况的统计表。

年级	一	二	三	合计
张数	162	237		660

(1) 三年级同学制作了多少张爱心卡?

(2) 一年级同学制作的爱心卡比二、三年级的总和少多少张?





## 答案

一、1. 906 905 907

2. 米 厘米 千克 小时 分钟

3. 9

4. 余 除

5. 185 1 40 4 5000

6. 30

7. 10 13

8. 6

9.  $485 - 365 = 120$   $120 + 365 = 485$

二、1.  $\sqrt{\quad}$  2.  $\times$  3.  $\times$  4.  $\sqrt{\quad}$

5.  $\times$  点拨: 用 3、0、8 组成的三位数中, 最大的是 830。

三、1. B 点拨:  $60 + 60 + 100 = 220$ (元)。

2. C 3. C 4. A 5. B

四、1. 220 200 245  $9 \cdots \cdots 2$  968 112 0  $9 \cdots \cdots 7$

2.

$\begin{array}{r} 5 \boxed{7} 8 \\ + \boxed{1} \boxed{6} \boxed{9} \\ \hline 7 \ 4 \ 7 \end{array}$	$\begin{array}{r} 6 \ 4 \ 3 \\ - \boxed{5} \boxed{9} \boxed{4} \\ \hline 4 \ 9 \end{array}$
$\begin{array}{r} 7 \ \boxed{0} \ 8 \\ + \boxed{1} \ 9 \ 7 \\ \hline 9 \ 0 \ \boxed{5} \end{array}$	$\begin{array}{r} 9 \ \boxed{2} \ 4 \\ - \boxed{5} \ 5 \ 6 \\ \hline 3 \ 6 \ \boxed{8} \end{array}$

3.  $<$   $<$   $>$   $<$   $=$   $<$





$$4. \quad 467 - 278 - 121 \qquad 412 - 112 + 89$$

$$= 189 - 121 \qquad = 300 + 89$$

$$= 68 \qquad = 389$$

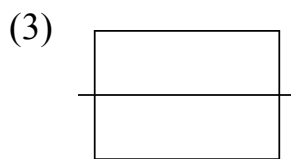
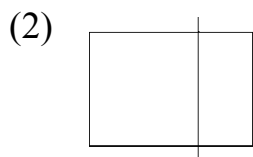
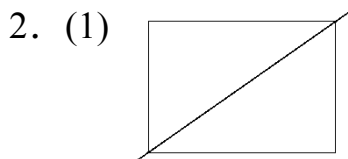
$$568 - (218 + 182)$$

$$= 568 - 400$$

$$= 168$$

5. 6 30 **点拨：**4个苹果的质量=5个梨的质量，1个西瓜的质量=8个苹果的质量=10个梨的质量，所以3个西瓜的质量=30个梨的质量。

五、1. 3 4



(答案不唯一)

六、1.  $827 - 435 + 374 = 766$ (辆)

答：现在有 766 辆自行车。

2.  $6 \times 9 = 54$ (支)  $54 + 3 = 57$ (支)

答：李老师一共准备了 57 支铅笔。

3. 从早上 8:00 到下午 5:30 经历 9 小时 30 分钟





$$9 \text{ 小时 } 30 \text{ 分} - 1 \text{ 小时 } 30 \text{ 分} = 8 \text{ 小时}$$

答: 妈妈一天工作 8 小时。

4.  $5 \text{ 米} = 50 \text{ 分米}$

$$50 \div 7 = 7(\text{根}) \cdots \cdots 1(\text{分米})$$

答: 5 米长的彩带最多能剪成 7 根装饰带。

5. (1)  $660 - 162 - 237 = 261(\text{张})$

答: 三年级同学制作了 261 张爱心卡。

(2)  $237 + 261 - 162 = 336(\text{张})$

答: 一年级同学制作的爱心卡比二、三年级的总和少 336 张。

