



二年级第二学期数学期末测试卷(1)

一、填空题。(每空 1 分, 共 19 分)

1. 986 是由()个百, ()个十和()个一组成的。
2. 790 读作(), 与它相邻的两个数分别是()和()。
3. 一个四位数, 它的最低位是()。
4. 用 6, 0, 7 这三个数字可以组成()个不同的三位数, 可以组成()个不同的两位数。
5. 8 米=()分米 2 米 5 分米=()厘米
2 分 4 秒=()秒
6. 长方形的对边(), 每个角都是()角。
7. 在一张长 10 厘米, 宽 8 厘米的长方形纸上剪一个最大的正方形, 这个正方形的边长是()厘米, 剩下的长方形的长是()厘米, 宽是()厘米。
8. $\square \div 8 = 3 \cdots \square$, 余数最大是()。
9. 小刚、小方、小明三人参加乒乓球比赛, 比赛结果可能有()种。

二、判断题。(每题 2 分, 共 10 分)

1. 最大的三位数加上 1, 就是最小的四位数。 ()
2. 笔算完加法后, 可以用减法验算, 也可以用加法验算。()
3. 一根旗杆高 10 厘米。 ()
4. 随着平行四边形形状的改变, 边的长短也在变化。 ()
5. 60 根棒棒糖, 至少拿出 6 根, 剩下的才能平均分给 9 个小朋友。





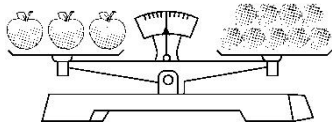
()

三、选择。(每题 2 分, 共 10 分)

- 下面这三个数中最接近 900 的是()。
A. 869 B. 905 C. 923
- 在一道有余数的除法算式中, 除数是 6, 则余数不可能是()。
A. 3 B. 5 C. 7
- 1 桶水约重()。
A. 15 克 B. 18 千克 C. 150 千克



- 1 个  和()个  同样重。

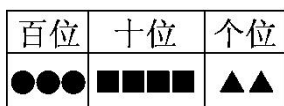


- A. 9 B. 4 C. 3
- 小军有 148 张画片, 比小红多 76 张, 两人一共有()张画片。
A. 224 B. 220 C. 72

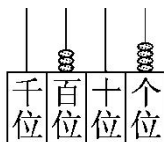
四、填一填, 算一算, 画一画。(1 题 2 分, 2 题 3 分, 3 题 5 分, 共 10 分)

- 画一条比 1 分米短 6 厘米的线段。

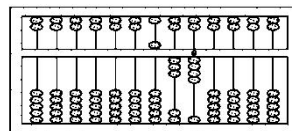
- 写出下列各数。



()



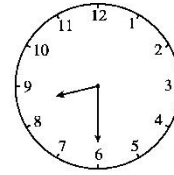
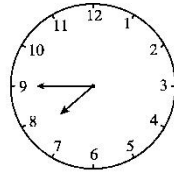
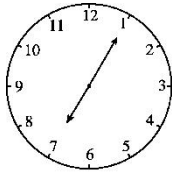
()



()

- 写出钟面上的时刻及经过的时间。





经过()分钟 经过()分钟

五、我是小小神算手。(1 题 12 分, 2 题 9 分, 共 21 分)

1. 用竖式计算。(带*的验算)

$46 \div 7 =$

$*513 - 338 =$

$*298 + 126 =$

2. 用你喜欢的方法计算。

$258 - 117 - 58$

$657 - (146 + 245)$

$127 + 186 + 238$

六、走进生活, 解决问题。(每题 6 分, 共 30 分)

1. 同学们排队检查身体, 王新排在第 45 个, 如果体检室每次进 6 个人, 王新第几次才能进去?

2. 果园里种了 183 棵桃树, 比苹果树少 81 棵, 果园里一共种了多少棵树?






3. 学校买来一根 650 米长的绳子，第一次用去 150 米，第二次比第一次多用 100 米，还剩多少米？

4. 母亲节到了，同学们买来了康乃馨 37 枝、郁金香 33 枝、百合 29 枝，准备扎一些鲜花束送给敬老院的老奶奶们。一束鲜花需要康乃馨 5 枝、郁金香 4 枝、百合 3 枝。同学们能扎多少束鲜花？

5. 超市的货架上每层的质量都是 9 千克。



=4 千克



=() 千克



=() 千克





答案

一、1. 9 8 6

2. 七百九十 789 791

3. 个位

4. 4 4

5. 80 250 124

6. 相等 直

7. 8 8 2

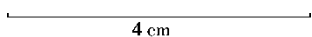
8. 7

9. 6

二、1. $\sqrt{\quad}$ 2. $\sqrt{\quad}$ 3. \times 4. \times 5. $\sqrt{\quad}$

三、1. B 2. C 3. B 4. C 5. B

四、1. 1 分米=10 厘米 $10-6=4$ (厘米)



2. 342 304 534

3. 7: 05 $\xrightarrow{\text{经过(40)分钟}}$ 7: 45 $\xrightarrow{\text{经过(45)分钟}}$ 8: 30

五、1. $46 \div 7 = 6 \cdots 4$

$$\begin{array}{r} 6 \\ 7 \overline{)46} \\ \underline{42} \\ 4 \end{array}$$

$$513 - 338 = 175$$

$$\begin{array}{r} 513 \\ - 338 \\ \hline 175 \end{array} \quad \text{验算: } \begin{array}{r} 175 \\ + 338 \\ \hline 513 \end{array}$$

$$298 + 126 = 424$$

$$\begin{array}{r} 298 \\ + 126 \\ \hline 424 \end{array} \quad \text{验算: } \begin{array}{r} 424 \\ - 126 \\ \hline 298 \end{array}$$

2. $258 - 117 - 58$

657 —

(146+245)





$$=258-58-117$$

$$=200-117$$

$$=83$$

$$127+186+238$$

$$=313+238$$

$$=551$$

$$=657-391$$

$$=266$$

六、1. $45\div 6=7(\text{次})\cdots\cdots 3(\text{人})$

$$7+1=8(\text{次})$$

答: 王新第 8 次才能进去。

2. $183+81=264(\text{棵})$

$$183+264=447(\text{棵})$$

答: 果园里一共种了 447 棵树。

3. $150+100=250(\text{米})$

$$650-150-250=250(\text{米})$$

答: 还剩 250 米。

4. $37\div 5=7(\text{束})\cdots\cdots 2(\text{枝})$

$$33\div 4=8(\text{束})\cdots\cdots 1(\text{枝})$$

$$29\div 3=9(\text{束})\cdots\cdots 2(\text{枝})$$

答: 同学们能扎 7 束鲜花。

点拨: 扎成的鲜花束应是这三种花中能扎成的束数中最小的一个。

5. 2 3

点拨: 由题意知三桶油重 4 千克, 所以 1 袋面粉+1 袋米=5 千克, 3 袋面粉+1 袋米=9 千克。

由上式不难看出 2 袋面粉重 4 千克, 所以 1 袋面粉重 2 千克, 进而求出 1 袋米重 3 千克。

