



周测培优卷 5

万以内的加法和减法(二)的应用能力检测卷

一、我会填。(每空 2 分, 共 18 分)

- 286 比 400 少多少, 列式是(), 结果是()。
- 576 比一个数少 245, 求这个数, 列式是(), 结果是()。
- 一道减法算式中, 被减数、减数、差的和是 200, 被减数是()。

4. 手机促销活动:

大约降价()元

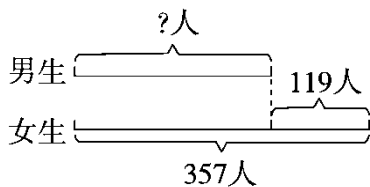
实际降价()元



- 本届“梦之蓝杯”绘画大赛共有 425 幅作品获奖, 比上届少了 49 幅。
要求两届共有多少幅作品获奖, 一定先要求出(), 列式计算是()。

二、我会辨。(每题 3 分, 共 9 分)

- 最大的三位数加最大的两位数的和是 1099。 ()



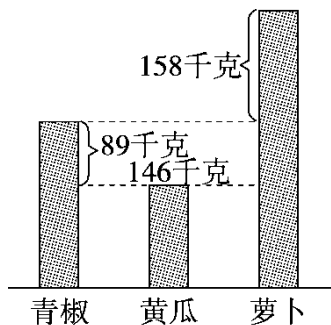
- 上面线段图中求男生人数, 列式是 $357 + 119$ 。 ()
- $549 - () > 253$, 括号里最大能填几, 思路是 $549 - 253 + 1$ 。 ()

三、我会选。(每题 3 分, 共 9 分)





- 估算 $787+196$ ，下面说法正确的是()。
 - 它们的和比 1000 大些
 - 它们的和比 900 小些
 - 它们的和比 900 大些，比 1000 小些
- 从蔬菜的销售情况可知，萝卜卖了多少千克，正确列式是()。



- $146+89$
 - $146+158$
 - $146+98+158$
 - $146+89+158$
- 张叔叔和他的一位同事乘坐 G384 次列车出差，他们去时买的都是特等座，回来时买的都是一等座。他们一共花了多少钱，列式正确的是()。

车次	发站/ 到站	时间	特等座	一等坐
G384	长春 - 北京南	16: 45 ~ 22: 53	823 元	669 元

- $823+669$
- $823+823$
- $823+669+823+669$

四、我会算。(共 14 分)

- 列竖式计算，带■的要验算。(每题 3 分，共 6 分)





$58+429=$

$600-119=$

2.计算下面各题。(每题4分，共8分)

$1000-262+138$

$(561-489)\div 9$

五、我会应用。(每题10分，共50分)

- 1.下面是“我要上春晚”海选报名选手统计表。请提出一个数学问题，并选择合适的方法解答。

歌舞类	355名
语言类	297名
杂技类	148名

□





我的网店今天预计
接880个订单。




2.

上午接了 397 个订单，下午比上午多接了 126 个订单。

(1)今天一共接了多少个订单？

(2)实际比预计多接了多少个订单？

3. 学校运动场上正在进行 800 米比赛。



(1)小明和小乐分别离终点有多少米？

(2)小华落后小明多少米？





4. 下面是小明家和小红家的汽车仪表盘上的行驶路程读数统计表。

(单位：千米)

所属家庭	上月底读数	本月底读数
小明家	312	721
小红家	235	592

这一个月他们两家的汽车行驶路程相差多少千米？

5. 同学们要给植物园的 800 棵小树浇水。一组浇了 268 棵，二组比一组多浇了 107 棵。

(1)二组浇了多少棵小树？

(2)两个小组一共浇了多少棵小树？

(3)还剩下多少棵小树没有浇？





答案

一、 $1.400-286$ 114 $2.576+245$ 821

3. 100 [点拨]因为减数+差=被减数，所以200相当于两个被减数的和。

4. 200 213

5. 上届有几幅作品获奖

$$425+49=474(\text{幅})$$

二、1.× 2.×

3. × [点拨] 如果 $549-253+1$ 是减数，那么 $549-$ 减数所得差小于253。

三、1.C 2.D 3.C

四、1.487 481(验算略) 2.876 8

五、1.略。

2. (1) $397+126=523(\text{个})$

$$523+397=920(\text{个})$$

答：今天一共接了920个订单。

(2) $920-880=40(\text{个})$

答：实际比预计多接了40个订单。

3. (1)小明： $800-758=42(\text{米})$

$$\text{小乐：} 800-569=231(\text{米})$$

答：小是和小乐分别离终点有42米，231米。

(2) $758-509=249(\text{米})$





答：小华落后小明 249 米。

4. 小明家： $721-312=409$ (千米)

小红家： $592-235=357$ (千米)

相差： $409-357=52$ (千米)

答：这一个月他们两家的汽车行驶路程相差 52 行米。

[点拨] 本月底的读数和上月底的读数之差是这个一个月汽车行驶的路程。

5. (1) $268+107=375$ (棵)

答：二组浇了 375 棵小树。

(2) $375+268=643$ (棵)

答：两个小组一共浇了 643 棵小树。

(3) $800-643=157$ (棵)

答：还剩下 157 棵小树没有浇。

