



## 周测培优卷 4

### 万以内的加法和减法(二)的计算能力检测卷

一、我会填。(每空 1 分，共 18 分)

1. 笔算加法和减法，都要把相同( )对齐，从( )位算起。

2. 计算 
$$\begin{array}{r} 746 \\ + 268 \\ \hline \end{array}$$

个位上  $6+8$  得( )，在个位上写( )，向( )位进 1，十位上算  $4+6+( )$ ，得( )，在十位上写( )，向( )位进 1。

3. 计算

个位上算( )减 8 得( )，十位上算( )减 5 得( )，百位上算( )减 1 得( )。

4. 一块手表原价 802 元，现价 699 元，现在比原来大约便宜( )元。

5. ( )加上 87 得 246；比 518 多 193 的数是( )。

二、我会辨。(每题 3 分，共 9 分)

1. 如果  $271 + \square 1$  的和的百位上是 3，那么  $\square$  里最小填 4。( )

2. 多位数加减多位数，都是从最高位算起。( )

3. 三位数减三位数，差不可能是一位数。( )

三、我会选。(每题 3 分，共 9 分)

1.  $\star - 128 = 427$ ， $\star = ( )$ 。

A. 555                      B. 299                      C. 655

2. 估算  $598 + 302 - 399$  的结果大约是( )。

A. 600                      B. 500                      C. 400

3. 得数大于 300 的算式是( )。







A.  $248+96$                       B.  $979-688$

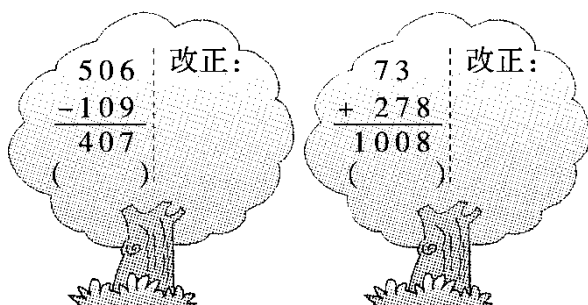
C.  $103+176$                       D.  $400-101$

四、计算挑战。(共 46 分)

1. 把相加得 1000 的两个数连起来。(4 分)



2. 下面的计算对吗? 不对的请改正过来。(6 分)



3. 列竖式计算。(带△的要验算)(每题 3 分, 共 18 分)

$624+167=$

$\triangle 435+385=$

$217-168=$

$\triangle 802-349=$





$$732 - 89 =$$

$$1000 - 402 =$$

4. 计算。(每题 3 分，共 12 分)

$$196 + 42 \div 7$$

$$683 - (171 + 269)$$

$$206 - 7 \times 9$$

$$(461 - 398) \div 9$$

5. 我会填表。(6 分)

(1)

加数	237	469	
加数	305		326
和		753	600

(2)

被减数	703		690
-----	-----	--	-----






减数	478	645	
差		135	512

五、我会应用。(每题 6 分，共 18 分)

1. 李叔叔和王阿姨每天早上到广场跑 900 米。今天早上到现在，两人谁跑得多，多多少？



2. 上午公园内有 386 名游客，中午走了 198 名游客，下午又来了 259 名游客。公园内全天来了多少名游客？这时公园内还有多少名游客？
3. 水果店有 350 筐苹果，上午卖出 145 筐，下午比上午少卖 58 筐。这一天一共卖了多少筐？





## 答案


一、1. 数位 个 2. 14 4 十 1 11 1 百

3. 13 5 9 4 3 2 4. 100 5. 159 711

二、1.  $\times$  [点拨] 最小应填 3,  $3+7=10$ 。

2.  $\times$  3.  $\times$

三、1. A 2. B 3. A



四、1.

$$\begin{array}{r} 506 \\ -109 \\ \hline 397 \end{array}$$

2. ( $\times$ )改正:

$$\begin{array}{r} 73 \\ + 278 \\ \hline 351 \end{array}$$

( $\times$ )改正:

3. 791 820(验算略) 49 453(验算略) 643 598

4. 202 243 143 7

加数	237	469	274
加数	305	284	326
和	542	753	600

5. (1)

被减数	703	780	690
减数	478	645	178
差	225	135	512

(2)

[点拨] 求被减数，用差加上减数。

五、 $1.900-185=715$ (米)





$$715 > 568 \quad 715 - 568 = 147(\text{米})$$

答：王阿姨跑得多，多 147 米。

2.  $386 + 259 = 645(\text{名})$

$$386 - 198 + 259 = 447(\text{名})$$

或  $645 - 198 = 447(\text{名})$

答：公园内全天来了 645 名游客。这时公园内还有 447 名游客。

[点拨] 上午来的游客 + 下午又来的游客 = 全天来的游客；全天来的游客 - 中午走的游客 = 这时公园内还有的游客。

3.  $145 - 58 = 87(\text{筐}) \quad 87 + 145 = 232(\text{筐})$

答：这一天一共卖了 232 筐。

[点拨] “水果店有 350 筐苹果”是多余条件。

