







第九单元测试卷（2）

时间:60分钟 满分:100分 分数:_____

一、分一分。(12分)

 ①	 ②	 ③	 ④
8岁	9岁	8岁	9岁
学习委员	班长	班长	学习委员

第一种分法:()

第二种分法:()

第三种分法:()

二、精挑细选。(28分)



蔬菜

动物

交通工具

三、动物乐园。(32分)



1. 画一画。(用“正”字画)(10分)

兔子	
猴子	
老虎	
公鸡	
小猫	

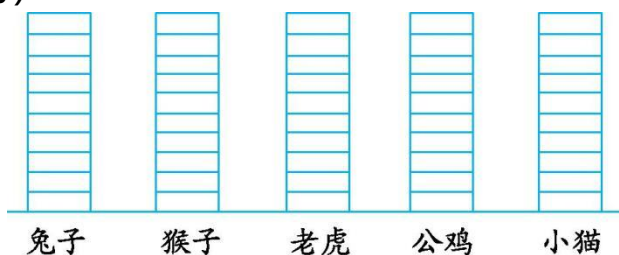
2. 填一填。(12分)

合计	兔子	猴子	老虎	公鸡	小猫
()只	()只	()只	()只	()只	()只






3. 涂一涂。(10分)



四、摆一摆,说一说。(12分)



1. 请把图中的图形分成两类,说说你是怎么分的。(8分)

2. 自己选择一个标准,说说还可以怎么分。(4分)

五、根据下表回答问题。(16分)

展区	5月开园	9—11月开园	3—4月开园	1—9月开园
数量	225株	92株	45株	513株

1. 哪个展区的花卉最多?哪个展区的花卉最少?这两个展区的花卉相差多少?(8分)

2. 5月开园、9—11月开园和3—4月开园展区一共有多少株花卉?(8分)





参考答案

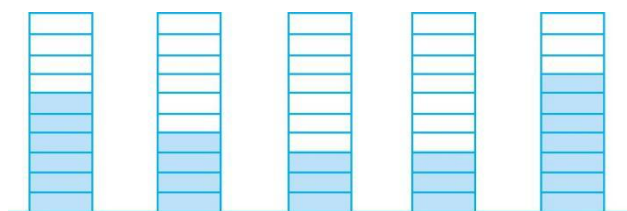
一、第一种分法:①③和②④;第二种分法:①②和③④;第三种分法:①④和②③。



三、
1.

兔子	正一
猴子	正
老虎	下
公鸡	下
小猫	正下

2. 23 6 4 3 3 7



3. 兔子 猴子 老虎 公鸡 小猫

四、1. 按照颜色分成两类:蓝色图形和红色图形。

2. 还可以按图形的形状分,分成三角形、正方形、圆和月牙形四类。

五、1. $513-45=468$ (株)

答:4—9月开园展区的花卉最多,3—4月开园展区的花卉最少,这两个展区的花卉相差468株。

2. $225+92+45$

$=317+45$

$=362$ (株)

答:5月开园、9—11月开园和3—4月开园展区一共有362株花卉。

