

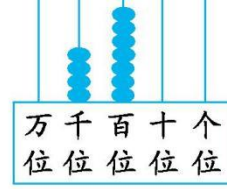
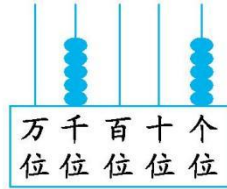
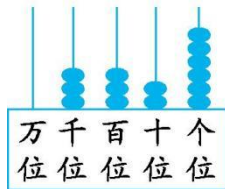


期中测试卷(2)

时间:60分钟 满分:100分 分数:_____

一、填空。(47分)

- 把23颗糖平均分给4个人,每人分到()颗,还剩()颗,至少添上()颗4人正好分完。
- 3245是一个()位数,它的最高位是()位,是由()个千,()个百,()个十和()个一组成的。(导学号 90692066)
- 90厘米=()分米 3千米=()米
- 4分米6厘米=()厘米 6厘米=()毫米
- 9米=()分米 24毫米=()厘米()毫米
- 写一些,读一读。



写

作: _____

读

作: _____

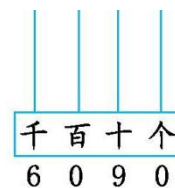
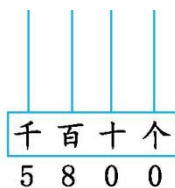
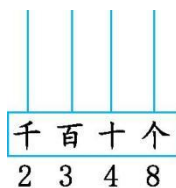
- 在()里填上合适的长度单位。(导学号 90692067)

飞机每小时飞行800()。 教学楼长100()。

数学课本厚约6()。 跳绳的长度是2()。

一张课桌高80()。 一根黄瓜长约2()。

- 在下面的计数器上画上珠子表示指定的数并读出这些数。



读作:()

读作:()

读作:()

- 2902的近似数是(),994的近似数是()。

- 按规律填数。(导学号 90692068)

300、500、700、()、()。

9000、8500、8000、()、()。

- 小红家的苹果树结了250千克苹果,卖出145千克,还剩()千克。

- 按从小到大的顺序填数。





670 1800 794 890 980 1080

() < () < () < () < () < ()

二、判断。(对的在括号里画“√”,错的画“×”)(4分)

1. 在有余数的除法中,余数是5,除数一定是6。()
2. 今天早上小明去距离他家35千米的植物园玩,晚上必须回家,他步行去和步行回来比较合适。()
3. 减法可以用加法来验算,也可以用减法来验算。()
4. 求比260多60的数是多少,列算式是 $260+60$ 。()

三、选择。(把正确答案的序号填在括号里)(5分)

1. 计算有余数的除法时,余数必须()。
A. 比除数大 B. 比除数小 C. 和除数一样大
2. 7个一、5个十和6个千组成的数是()。
A. 756 B. 657 C. 6057
3. 8、6、7、4这四个数字可以组成的最大的四位数是()。
A. 7864 B. 8647 C. 8764
4. 12米长的电线和12米长的绳子相比,()。
A. 绳子长 B. 电线长 C. 一样长
5. 一台VCD的原价是439元,现价是390元。现价比原价便宜()钱。
A. 131元 B. 49元 C. 149元

四连一连。(11分)

1. 小猫钓鱼。(估一估,连一连)(5分)



2. 送信。(6分)





$26 \div 8$

$73 \div 9$

$27 \div 4$

$30 \div 7$

$38 \div 6$

$40 \div 5$



五计算。(20分)

1. 口算。(4分)

$21+18=$

$560+140=$

$2100-900=$

$6000-1000=$

$300+800=$

$720-510=$

$245-125=$

$350+360=$

2. 估算。(6分)

$497+507 \approx$

$999-684 \approx$

$412+387 \approx$

$705-591 \approx$

$492+511 \approx$

$515-392 \approx$

3. 用竖式计算,带☆的要验算。(10分)

$58 \div 6 =$

$\star 626 - 472 =$

$\star 384 + 209 =$

六解决问题。(13分)

1. 有60枝百合花,做一个花篮用9枝,这些花可以做几个花篮?还剩几枝?(5分)

2. 买衣服。(8分)



258元



181元

(1)买一条裙子和一件上衣一共需要多少钱?(4分)

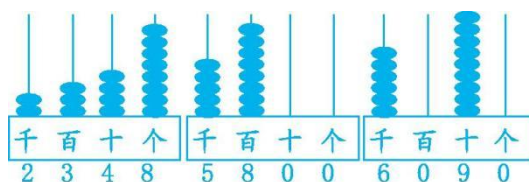
(2)一条裙子比一件上衣便宜多少钱?(4分)





答案

- 一、1. 5 3 1 2. 四 千 3 2 4 5 3. 9 3000 46 60 90
2 4 4. 3326 三千三百二十六 5005 五千零五 4700 四千七
百 5. 千米 米 毫米 米 厘米 分米
6. 画图如下:



两千三百四十八 五千八百 六千零九十 7. 3000 1000

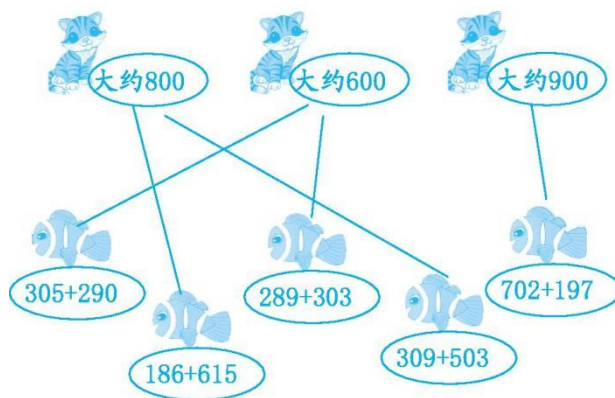
8. 900 1100 7500 7000 9. 105

10. 670 794 890 980 1080 1800

二、1. × 2. × 3. √ 4. √

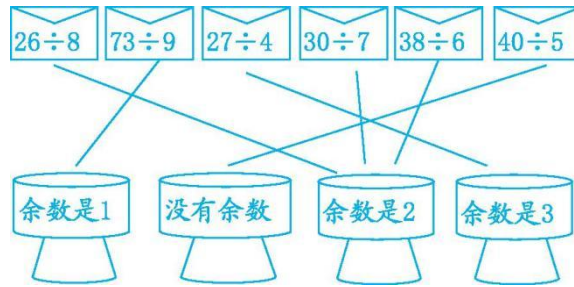
三、1. B 2. C 3. C 4. C 5. B

四、1. 连线如下:



2. 连线如下:





五、1. 39 700 1200 5000 1100 210 120 710

2. 1000 300 800 100 1000 100

3. $58 \div 6 = 9 \dots 4$ ☆ $626 - 472 = 154$

$$\begin{array}{r} 9 \\ 6 \overline{)58} \\ \underline{54} \\ 4 \end{array}$$

$$\begin{array}{r} 626 \\ - 472 \\ \hline 154 \end{array}$$

验算:

$$\begin{array}{r} 154 \\ + 472 \\ \hline 626 \end{array}$$

☆ $384 + 209 = 593$

$$\begin{array}{r} 384 \\ + 209 \\ \hline 593 \end{array}$$

验算:

$$\begin{array}{r} 593 \\ - 209 \\ \hline 384 \end{array}$$

六、1. $60 \div 9 = 6(\text{个}) \dots 6(\text{枝})$

答:这些花可以做 6 个花篮, 还剩 6 枝。

2. (1) $258 + 181 = 439(\text{元})$

答:买一条裙子和一件上衣一共需要 439 元钱。

(2) $258 - 181 = 77(\text{元})$

答:一条裙子比一件上衣便宜 77 元钱。

