



教材过关卷 (4) 测 量

一、填一填。(每空 2 分, 共 48 分)

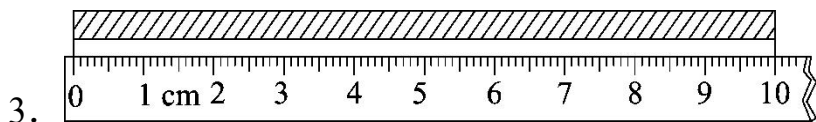
1. 我们学过的长度单位有()、()、()、()、(),
用字母表示分别是()、()、()、()、()。

2. 在()里填上合适的单位。

(1)电视机的宽度约 90()。

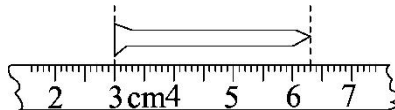
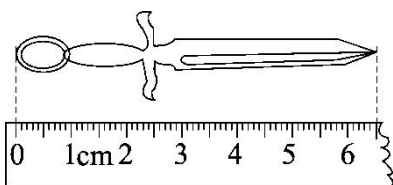
(2)10 张纸的厚度约 1()。

(3)这段公路长约 2()。



纸条长 1()。

4.



小刀长()厘米()毫米

铁钉长()厘米()毫米

5. 8 米=()分米

4 厘米=()毫米

70 分米=()米

9 千米=()米

3000 米=()千米

60 毫米=()厘米

二、选一选。(每题 3 分, 共 12 分)

1. 小华的书橱高()。

A. 10 米

B. 170 分米

C. 170 厘米









2. 如果小飞家离少年宫比 200 米要远得多, 小飞家离少年宫大约有
()。



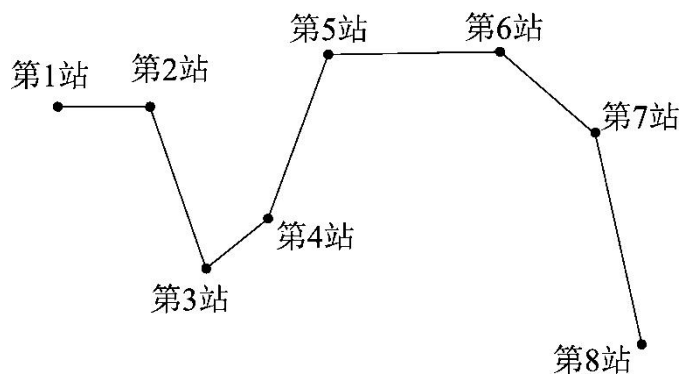


- A. 500 米 B. 4 千米 C. 400 米
3. 文具盒长约是()。
- A. 20 分米 B. 20 厘米 C. 20 毫米
4. 用一根 20 厘米长的直尺去量 1 米长的绳子需要量()次。
- A. 5 B. 3 C. 2

三、连一连。(12 分)

			
每小时步行	每小时行	每小时飞行	每小时行
			

四、下面是 1 路公交车 8 个站的示意图。(每空 2 分, 共 12 分)



在图上量一量。

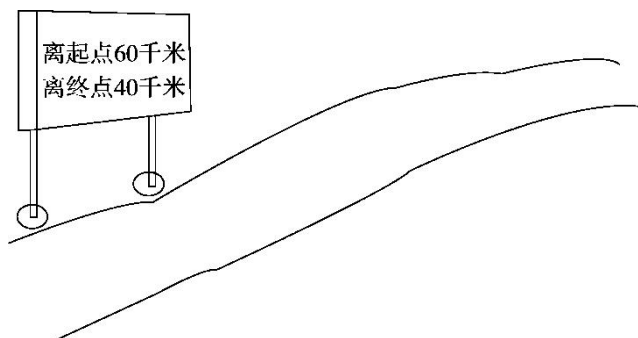
第 1 站到第 2 站是()厘米()毫米, 第 4 站到第 5 站是()
厘米()毫米, 第 7 站到第 8 站是()厘米()毫米。





五、解决问题。(每题 8 分，共 16 分)

1. 爸爸带王芳去外地旅游。汽车在公路上行驶了一段时间后，王芳看到了一个指示牌。这条公路有多长？



2. 小军的身高是 1 米 45 厘米，小强的身高是 1 米 65 厘米。小强比小军高多少厘米？合多少分米？





答案

一、1. 毫米 厘米 分米 米 千米 mm

cm dm m km

2. (1)cm (2)mm (3)km

3. dm 4. 6 5 3 3


5. 80 40 7 9000 3 6

二、1. C 2. B 3. B 4. A

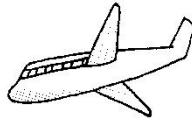
三、



每小时步行




每小时行



每小时飞行



每小时行



四、1 2 2 2 2 7

五、1. $60+40=100$ (千米)

答：这条公路有 100 千米长。

2. $1\text{米}65\text{厘米}-1\text{米}45\text{厘米}=20\text{厘米}$

$20\text{厘米}=2\text{分米}$

答：小强比小军高 20 厘米，合 2 分米。

