




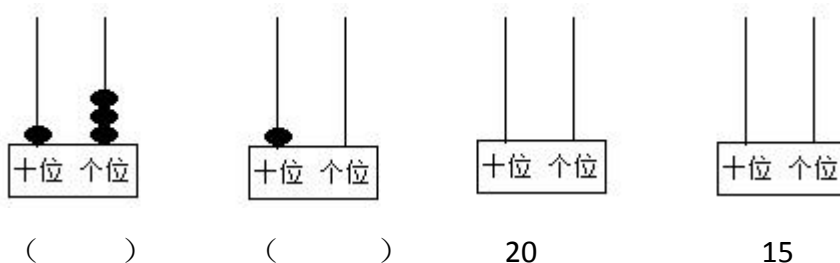
## 西师版一上数学期末测试卷 (3)

### 一、填空。



一共有 ( ) 个图形，从左数，第 7 个是 ( )；第 11 个是 ( )。 是第 ( ) 个，圆形比正方形多 ( ) 个。

3、看图写数，看数画珠子。



4、比 16 大，比 19 小的数是 ( ) 和 ( )。

5、18 里面有 ( ) 个十，( ) 个一。

6、12 前面的数是 ( )，17 后面的数是 ( )。

### 二、在○里填上“>”、“<”或“=”。

$15 \bigcirc 6+10$

$9 \bigcirc 13$

$16-6 \bigcirc 15$

$10 \bigcirc 3+7$

$11+2 \bigcirc 16$


$17-5 \bigcirc 12+5$

### 三、比一比，填一填。

1、在数量最多的下面画“√”。



( )



( )

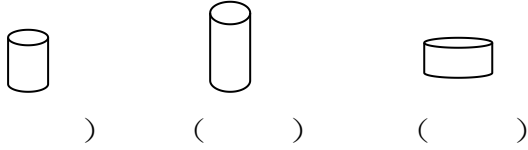


( )





2、在最短的下面画“△”。



四、算一算。

$9 + 6 - 10 =$

$8 + 3 + 5 =$

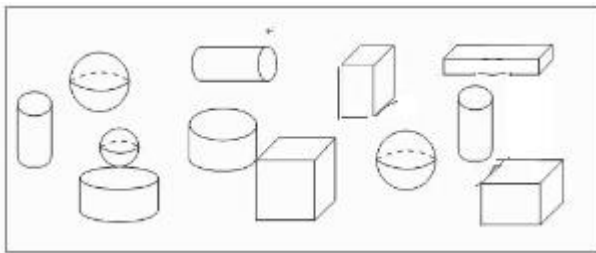
$8 + 8 + 4 =$

$10 - 4 - 3 =$

$2 + 7 + 8 =$

$9 - 7 + 4 =$

五、数一数，填一填。



正方体 ( ) 个，长方体 ( ) 个，  
圆柱体 ( ) 个，球 ( ) 个。

六、看图写算式。

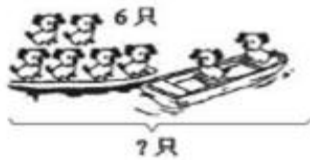
1、

$\square \bigcirc \square = \square$

2、

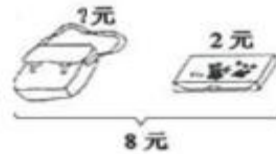
$\square \bigcirc \square = \square$

3、



$\square \bigcirc \square \bigcirc \square = \square$

4、

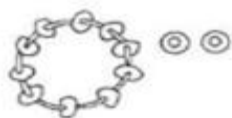


$\square \bigcirc \square \bigcirc \square = \square$

5、



$\square \bigcirc \square = \square$



6、




$\square \bigcirc \square \bigcirc \square = \square$





### 七、解决问题。

1、一共有多少只？



$$\square \bigcirc \square = \square \quad (\text{只})$$

口答：一共有（ ）只。

2、还剩多少只？



$$\square \bigcirc \square = \square \quad (\text{只})$$

口答：还剩（ ）只。

3、



$$\square \bigcirc \square = \square \quad (\text{只})$$

口答：还有（ ）只。

4、小明有 6 颗糖，比小军少 5 颗，两人一共有多少颗糖？

$$\square \bigcirc \square \bigcirc \square = \square \quad (\text{颗})$$

口答：两人一共有（ ）颗糖。

5、奶奶养了鸡、鸭、鹅共 15 只，鹅有 3 只，鸭有 4 只，鸡有多少只？

$$\square \bigcirc \square \bigcirc \square = \square \quad (\text{只})$$

口答：鸡有（ ）只。





八、想一想，填一填。

1、在你认为合适的数下画“√”。

我跳了9下。

我跳的比你多多了。

8      9      20

2、按规律在空格里填上适当的数。





## 附参考答案

一、填空。

1、11, 13, 14, 16, 17, 18, 2、12, 白三角形, 黑三角形, 6, 1; 3、13, 10,

十位上画 2 个, 十位画 1 个, 个位画 5 个。 4、17, 18 5、1, 8; 6、11, 18

二、比大小。 <, <, <, =, <, <;

三、比一比, 填一填。1、左起第 2 个 √, √、左起第 3 个 △。

四、计算。5, 16, 20, 3, 17, 6

五、数一数, 填一填。1, 3, 5, 3,

六、看图列式计算。

1、 $6+2=8$

2、 $8-2=6$

3、 $4+3+2=9$

3、 $10-3-4=3$

4、 $10-3-2=5$

七、解决问题。

1、 $5+7=12$  (只) 口答: 一共有 12 只。

2、 $9-3=6$  (只) 口答: 还剩 6 只。

3、6, 5,  $6-5=1$  (只) 口答: 还有 1 只。

4、 $6+5+6=17$  (颗) 口答: 两人一共有 17 颗糖。

5、 $15-3-4=8$  (只) 口答: 鸡有 8 只。

九、1, 20, 2、10, 12, 8, 10;

