




青岛六三制上学期一年级期中检测卷

班级: 姓名: 满分: 100 分 考试时间: 90 分钟

| 题序 | 第一题 | 第二题 | 第三题 | 第四题 | 第五题 | 第六题 | 第七题 | 第八题 | 总分 |
|----|-----|-----|-----|-----|-----|-----|-----|-----|----|
| 得分 | | | | | | | | | |


一、动物联欢会。(15 分)



1. 小动物们正在高兴地演奏着乐曲,参加表演的小动物分别有多少只呢?请数一数,写一写。(4 分)

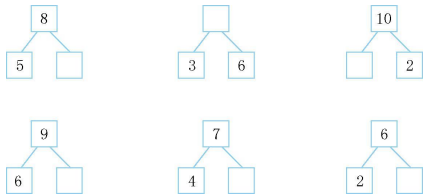


2. 会场布置得非常漂亮,数出下面物品的数量,写在下面,把用得最多的圈起来,最少的涂色。(8 分)




3. 看节目的小朋友一共有()人,从左边数小明排第(),从右边数小明排第()。(3 分)

二、想一想,填一填。(6 分)




三、考考你的眼力!(8 分)

1. 谁最高?画“√”。谁最矮?画“×”。 2. 哪支铅笔最长?在后面画“○”。



3. 谁先吃到萝卜?在后面画“○”。 4. 谁最重?画“√”。谁最轻?画“○”。



四、算一算。(15 分)

9-4= 0+10= 10-3= 3+5+1= 8-4-2=
7-0= 6-6= 4+6= 6-3+7= 0+6-5=
5+5= 8+2= 8-2= 9-9+4= 8+2-4=

五、在○里填上“>”“<”或“=”。(8 分)

8-7○0 4+5○8 6-4○2 9+1○10
8-8○1 7+2○6 3+5○5 3+0○2

六、在○里填上“+”或“-”。(10 分)

10○4=6 9○1=10 7○5=2 3○5=8
4○1=3 9○2=7 8○2○3=3 3○2○1=4



七、看图列式计算。(15 分)

1.

$\square \bigcirc \square = \square$ (只)

2.

$\square \bigcirc \square = \square$ (只)

3.

$\square \bigcirc \square = \square$ (只) $\square \bigcirc \square = \square$ (只)

$\square \bigcirc \square = \square$ (只) $\square \bigcirc \square = \square$ (只)

4.

$\square \bigcirc \square \bigcirc \square = \square$ (条)

5.

$\square \bigcirc \square \bigcirc \square = \square$ (根)

八、解决问题。(23 分)

1. 小军投掷得了 10 分,他可能投中了哪些物品?用算式表示出来。(6 分)

2分 3分 4分 5分

8分 6分

2. 每只小猴摘一个桃,树上还有几个桃?(6 分)

$\square \bigcirc \square = \square$ (个)

3. 小兔的生日。(11 分)

(1)演奏的小动物一共有多少只?

$\square \bigcirc \square \bigcirc \square = \square$ (只)

(2)篮子里还剩下几个萝卜?

$\square \bigcirc \square = \square$ (个)

(3)根据图中的信息,你还能提出什么数学问题?用算式表示出来。



○ …… 密 …… 封 …… 线 …… 内 …… 不 …… 要 …… 答 …… 题 …… ○

班级: _____

姓名: _____

准考证号: _____



试卷, 字帖, 图案, 模板下载打印
扫码下载, 即可获得更多优质资源

题

答

不

线

封

密

参考答案:

一、1. 3 3 3 1

2. 6 8 7 10 提示:圈花,给五角星涂色。

3. 8 4 5

二、3 9 8 3 3 4

三、1. (×) (√) ()

2. 从上到下:() () ()

3. 从上到下:() () ()

4. () (√) ()

四、5 10 7 9 2 7 0 10 10 1 10 10 6 4 6

五、> > = = < > > >

六、- + - + - - - - + -

七、1. 3+4=7 或 4+3=7

2. 10-3=7

3. 2+6=8 6+2=8 8-2=6 8-6=2

4. 3+4-2=5

5. 8-3-2=3

八、1. 2+8=10(分) 4+6=10(分)

2+3+5=10(分)

2. 9-7=2

3. (1)2+2+3=7 (2)8-4=4

(3)答案不唯一,如:一共送了多少朵花?

2+3+2=7(朵)

口袋网校---专注小学语数英同步辅导
扫码下载, 即可获得更多优质资源

