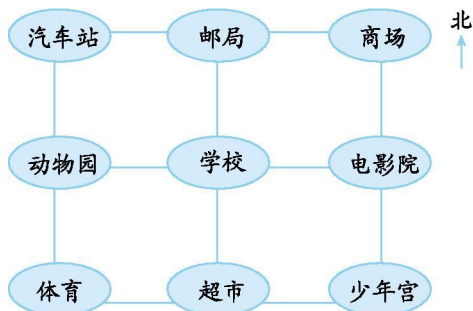




## 第四单元测试卷（一）

### 一、填空题。

- 晚上，当你面对北极星时，你的后面是（ ）面，你的左面是（ ）面，右面是（ ）面。
- 与东南方向相对的是（ ）方向，与东北方向相对的是（ ）方向。
- 



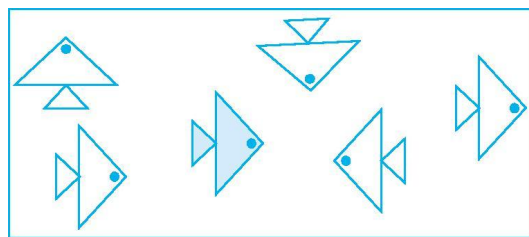
- 商场在学校的（ ）方向。
  - 学校的西面是（ ）。
  - 超市在电影院的（ ）方向。
  - 汽车站的东面有（ ）、（ ）。
4. 传送带的运动是（ ）现象，换气扇的运动是（ ）现象。

### 二、判断题。（对的画“√”，错的画“×”）

- 电梯门开关是旋转现象。（ ）
- 人推箱子是平移现象。（ ）
- 一架飞机正向东北方向行驶，按原飞行路线返回时，它该往东北方向飞行。（ ）
- 小强家在学校的东北面，学校在小强家的西南面。（ ）

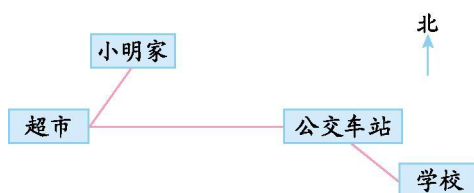
### 三、操作题。

下面哪些鱼可以通过平移与蓝色小鱼重合，把它们涂上颜色。



### 四、看图填空。

- 下面是小明每天上学的路线。

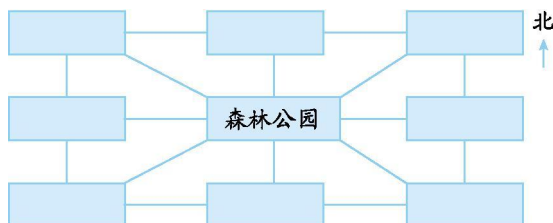




超市在小明家的( )方向, 公交车站在超市的( )方向, 学校在公交车站的( )方向。

2. 在图中写出小动物的家。

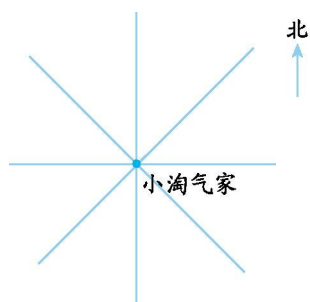
- (1) 熊猫住在森林公园的北面, 小鹿住在森林公园的南面。
- (2) 小羊住在森林公园的东面, 小牛住在森林公园的西面。
- (3) 森林公园的东北方向是小花猫家, 森林公园的西南方向是小狗家, 熊猫家的西边是小兔家, 小羊家的南面是小猪家。



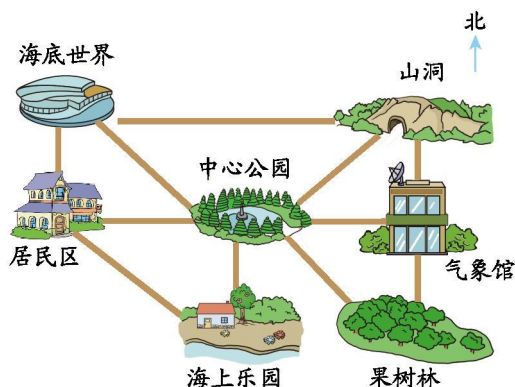
### 五、解决问题。

1. 小淘气收集了如下信息, 帮他完成下图。

- (1) 学校在小淘气家的东南方向, 用“△”标出来。
- (2) 医院在小淘气家的西南方向, 用“☆”标出来。
- (3) 小淘气家在儿童乐园的西南方向, 用“○”标出来。



2. 看图回答问题。

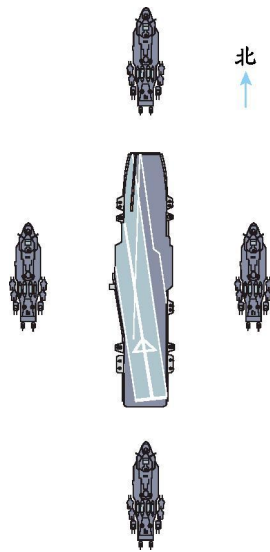


海底世界、海上乐园、居民区、果树林、山洞、气象馆分别在中心公园的什么方向?





3. 下图是我国某海军编队分布图。



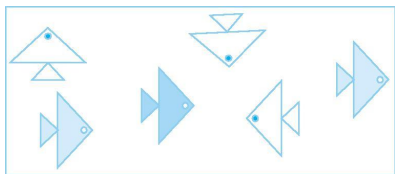
- (1) 已知“辽宁”号航空母舰的东面是“杭州”号导弹驱逐舰，西面是“宁波”号导弹驱逐舰，南面是“舟山”号导弹护卫舰，北面是“马鞍山”号导弹护卫舰。在四艘舰艇旁边标出它们的名称。
- (2) 要使“杭州”号导弹驱逐舰在“马鞍山”号导弹护卫舰的南面，“杭州”号导弹驱逐舰应该行驶到哪个位置？用“☆”标出来。
- (3) 要使“舟山”号导弹护卫舰在“宁波”号导弹驱逐舰的东面，“舟山”号导弹护卫舰应该行驶到哪个位置？用“○”标出来。





### 参考答案

- 一、1. 南 西 东  
2. 西北 西南  
3. (1) 东北 (2) 动物园 (3) 西南 (4) 邮局 商场  
4. 平移 旋转  
二、1. × 2. 3. × 4.



三、

- 四、1. 西南 正东 东南  
2. 小兔家 熊猫家 小花猫家  
小牛家 小羊家  
小狗家 小鹿家 小猪家  
五、1. 略

2. 海底世界在中心公园的西北方向；海上乐园在中心公园的正南方向；居民区在中心公园的正西方向；果树林在中心公园的东南方向；山洞在中心公园的东北方向；气象馆在中心公园的正东方向。

3. 略

