



## 第五单元过关检测卷

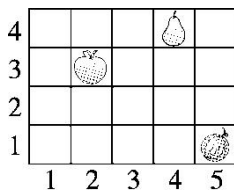
一、填一填, 画一画。(第 5 题 18 分, 其余每空 1 分, 共 30 分)

1. 小军从家出发, 向北走 100 米到商场, 再向东走 180 米到学校。

如果小军原路返回, 那么他要先向( )走( )米到商场,  
再向( )走( )米就到家了。

2. 小刚买了一张电影票, 座位是 4 排 5 号, 用数对表示为(4, 5)。

小红与小刚买了同一场的电影票, 她的座位号用数对表示为(7,  
6), 那么小红的座位是( )排( )号。



3. 如右图, 苹果的位置为(2, 3), 则梨的位置为( , ), 西瓜  
的位置为( , )。

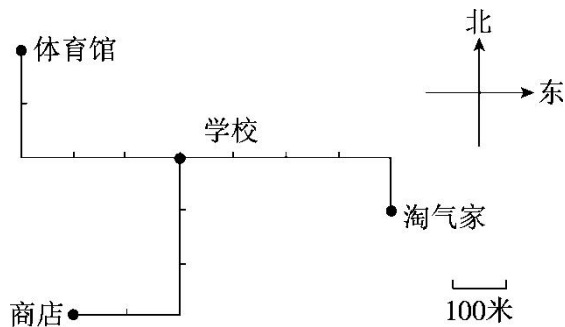
4. 学校组织同学们去电影院看电影, 聪聪的位置用数对表示为(4,

5), 坐在聪聪正前面的明明的位置是( , ), 坐在聪聪正后  
面的乐乐的位置是( , ), 坐在聪聪左面的笑笑的位置是

( , ), 坐在聪聪右面的淘气的位置是( , )。(列是从聪  
聪右面第 1 列开始数的)

5. 看图填一填, 画一画。



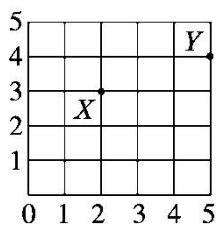


- (1)从体育馆向( )走( )米，再向( )走( )米到学校，再向( )走( )米，最后向( )走( )米到商店。
- (2)亮亮从学校向北走 300 米，再向西走 200 米才到家，用“○”标出亮亮家的位置。
- (3)军军从淘气家向南走 100 米，再向西走 800 米才到家，用“☆”标出军军家的位置。
- (4)军军从家向( )走( )米，再向( )走( )米，最后向( )走( )米到商店。
- (5)( ) (填“淘气”“军军”或“亮亮”)家离学校最远，是( )米。

二、选择。(将正确答案的字母填在括号里)(每题 3 分，共 12 分)(每题 2 分，共 12 分)

1. 如右图，如果点 X 的位置为(2, 3)，则点 Y 的位置为( )。

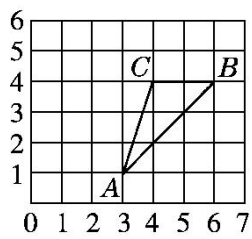
- A. (4, 4)    B. (4, 5)  
C. (5, 4)    D. (3, 3)





2. 如右图，若将三角形  $ABC$  向左平移 2 格得到三角形  $A'B'C'$ ，

则新图形中顶点  $A'$  (点  $A$  平移后对应的点)的位置用数对表示



为( )。

A. (5, 1) B. (1, 1) C. (7, 1) D. (3, 3)

3. 微机课上，笑笑坐在微机教室的第 4 列第 2 行，用数对(4, 2)

表示，明明坐在笑笑正后方的第一个位置上，明明的位置用数

对表示是( )。

A. (5, 2) B. (4, 3) C. (3, 2) D. (4, 1)

4. 小伟坐在教室的第 3 列第 6 行，用数对(3, 6)表示，如果用(x,

4)表示小强在教室里的位置，那么下列说法错误的是( )。

A. 小强的位置一定在第 4 列

B. 小强的位置一定在第 4 行

C. 小强的位置可能在第 4 列

D. 小强的位置不能确定

三、看图想一想，标一标。(每题 3 分，共 12 分)

1. 农贸市场在证券交易所的西北方向上，距离证券交易所 300 米，

标出农贸市场的位置。

2. 距离证券交易所 400 米的西南方向上有家电影院，标出电影院

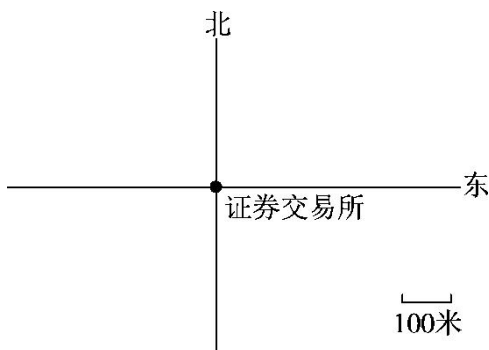
的位置。

3. 证券交易所南面 200 米处有家超市，标出超市的位置。

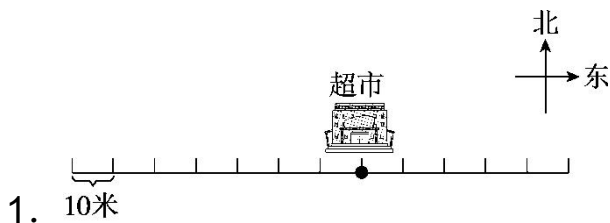




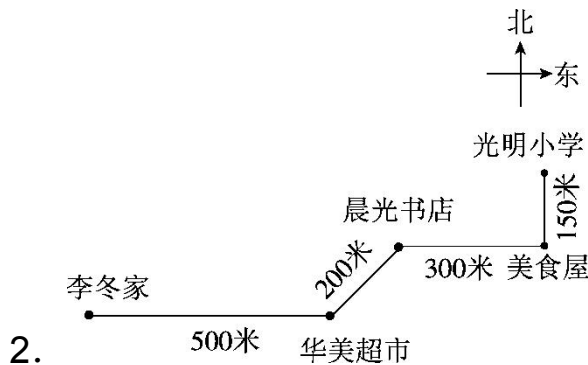
4. 证券交易所在公园的西南方向上，距离是 500 米，标出公园的位置。



四、看图画一画，写一写。(1 题 9 分，2 题 18 分，共 27 分)



- (1)超市西面 50 米处有一家书店，请用“◆”标出书店的位置。
- (2)书店北面 30 米处有一所学校，请用“☆”标出学校的位置。
- (3)超市东面 40 米处有一座图书馆，请用“□”标出图书馆的位置。



(1)描述出李冬上学和放学所走的路线。

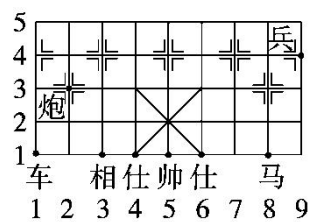




(2)王大亮的家在晨光书店北面 150 米处，在图中用“△”标出王大亮家的位置。他家到光明小学的直线距离是多少米？

五、下图是中国象棋棋盘的一部分。

(1 题 9 分，2 题 10 分，共 19 分)



1. 用数对分别表示出棋盘中棋子“炮”“帅”“兵”的位置。

2. 用数对表示出棋盘中棋子“马”“相”走一步后的位置。





## 答案

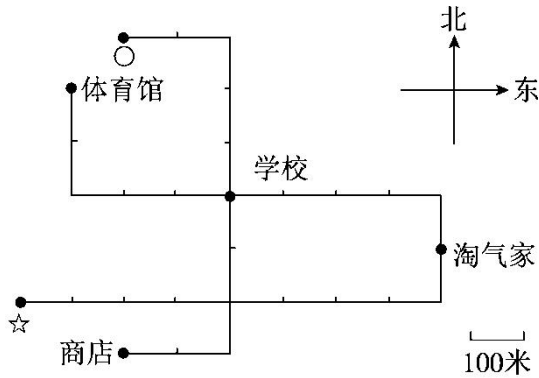
一、1. 西 180 南 100 2. 7 6

3. 4 4 5 1

4. 3 5 5 5 4 6 4 4

5. (1)南 200 东 300 南 300 西 200

(2)(3)如图。

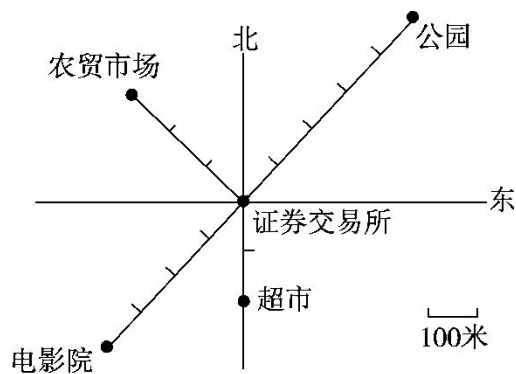


(4)东 400 南 100 西 200

(5)军军 600

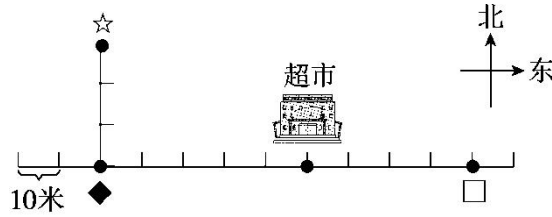
二、1. C 2. B 3. B 4. A

三、如图。



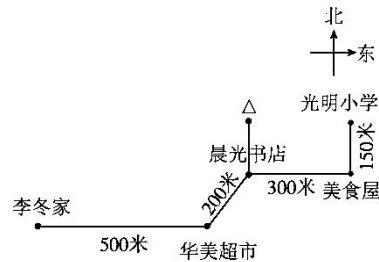
四、1. 如图。





2. (1)上学时，李冬从家出发，先向东走 500 米到华美超市，再向东北方向走 200 米到晨光书店，接着向东走 300 米到美食屋，最后向北走 150 米到光明小学。放学后，李冬从光明小学出发，先向南走 150 米到美食屋，再向西走 300 米到晨光书店，接着向西南方向走 200 米到华美超市，最后向西走 500 米回到家。

(2)



他家到光明小学的直线距离是 300 米。

五、1. 炮(2, 3) 帅(5, 1) 兵(9, 4)

2. “马”走一步后的位置：(7, 3), (9, 3)或(6, 2)。

“相”走一步后的位置：(1, 3)或(5, 3)。

