



2019-2020 学年二年级上学期期末检测卷(A)

班级： 姓名： 满分：100分 考试时间：90分钟

题序	第一题	第二题	第三题	第四题	第五题	第六题	总分
得分							

一、细心算一算。(24分)

1.直接写得数。(8分)

$$\begin{array}{cccc} 9 \times 3 = & 72 \div 8 = & 2 \times 4 = & 8 \times 9 = \\ 6 \times 5 = & 8 \div 2 = & 4 \div 4 = & 36 \div 9 = \end{array}$$

2.按顺序计算。(8分)

$$3 \times 3 \times 9 = \quad 64 \div 8 \div 4 = \quad 8 \times 3 \div 4 = \quad 28 \div 7 \times 5 =$$

3.用竖式计算。(8分)

$$\begin{array}{r} 6 \\ \times 8 \\ \hline \end{array}$$

$$\begin{array}{r} 3 \\ \times 7 \\ \hline \end{array}$$

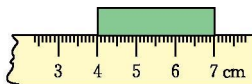
$$9 \overline{) 63}$$

$$5 \overline{) 45}$$

二、想一想,填一填。(22分)



1. 这支铅笔长()厘米



这张纸条长()厘米





$2+2+2+2+2+2=\square\times\square$

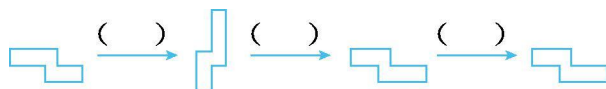
$5+5+5+5=\square\times\square$

3.把口诀补充完整。

三九() 四()二十八 ()五十六

4.8的6倍是();56是8的()倍。

5.观察下图,判断从前面到后面每次发生了怎样的变化,填上“平移”或“旋转”。



6.在括号里填上合适的数。

$()\times 7=42$

$63\div()=7$

$5\times()=40$

$32\div()=8$

$()\times 3=18$

$14\div()=2$

7.24个苹果,平均分给4个小朋友,每个小朋友可分得()个;如果每人分3个苹果,可以分给()人。

三、哪些是平移现象?画“○”。哪些是旋转现象?画“-”。(8分)



杠铃举起()



汽车方向盘转动()



移动的扶梯()



拨算珠()

四、看图列式计算。(9分)

1.




$\square\bigcirc\square=\square$

$\square\bigcirc\square=\square$


$\square\bigcirc\square=\square$

$\square\bigcirc\square=\square$






$$\square \bigcirc \square \bigcirc \square = \square (\text{个})$$



$$\square \bigcirc \square \bigcirc \square = \square (\text{个})$$

五、看图算一算,填一填。(12分)


1.



这些扣子可以钉()件这样的衣服。

$$\square \bigcirc \square = \square ()$$

2.



平均每只刺猬运()个果子。

$$\square \bigcirc \square = \square ()$$

3.





(1)一共有()个篮球。

$$\square \bigcirc \square = \square \quad (\quad)$$

(2)平均每队分 3 个篮球,可以分给()队。


$$\square \bigcirc \square = \square \quad (\quad)$$

(3)把这些篮球平均分给 6 队,每个队分()个。

$$\square \bigcirc \square = \square \quad (\quad)$$

六、解决问题。(25分)

1.小刺猬背果子。(7分)



2.电脑小组有 18 人。(6分)

(1)需要几台电脑?





(2)如果现在有 9 台电脑,平均每台电脑可安排几人合用?



(1)女同学平均每人植树多少棵?

(2)男同学平均每人植树多少棵?



(1)茶壶的价钱是水杯的几倍?

(2)你还能提出什么问题?解答出来。





参考答案

- 一、1.27 9 8 72 30 4 1 4
2.81 2 6 20 3.48 21 7 9
- 二、1.6 3 2.2 6 5 4
3.二十七 七 七八 4.48 7
5.旋转 旋转 平移 6.6 9 8 4 6 7
7.6 8
- 三、(○) (一) (○) (○)
- 四、 $1.3 \times 4 = 12$ $4 \times 3 = 12$ $12 \div 3 = 4$ $12 \div 4 = 3$
 $2.3 \times 4 + 2 = 14$ (个)或 $5 \times 3 - 1 = 14$ (个)
 $3.3 \times 5 - 1 = 14$ (个)或 $4 \times 3 + 2 = 14$ (个)
- 五、1.2 $10 \div 5 = 2$ (件) 2.3 $12 \div 4 = 3$ (个)
3.(1)24 $6 \times 4 = 24$ (个)或 $4 \times 6 = 24$ (个)
(2)8 $24 \div 3 = 8$ (队) (3)4 $24 \div 6 = 4$ (个)
- 六、1. $36 \div 6 = 6$ (次) $36 \div 9 = 4$ (个)
2.(1) $18 \div 3 = 6$ (台) (2) $18 \div 9 = 2$ (人)
3.(1) $32 \div 8 = 4$ (棵) (2) $4 \times 2 = 8$ (棵)
4.(1) $32 \div 4 = 8$ (2)答案不唯一, 如:茶壶的价钱是剪刀的几倍?
 $32 \div 8 = 4$

