







第九单元测试卷（2）

时间:60分钟 满分:100分 分数:_____


一、分一分。(12分)

 ①	 ②	 ③	 ④
8岁	9岁	8岁	9岁
一(1)班	二(2)班	一(2)班	二(1)班
学习委员	班长	班长	学习委员



第一种分法:()
第二种分法:()
第三种分法:()

二、精挑细选。(28分)



蔬菜

动物

交通工具

三、动物乐园。(32分)



1. 画一画。(用“正”字画)(10分)

斑马	
猴子	
老虎	
公鸡	
小猫	

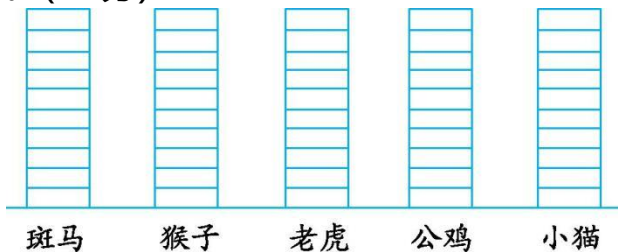





2. 填一填。(12分)

合计	斑马	猴子	老虎	公鸡	小猫
()只	()只	()只	()只	()只	()只
()只					

3. 涂一涂。(10分)



四、摆一摆, 说一说。(12分)



1. 请把图中的图形分成两类, 说说你是怎么分的。(8分)

2. 自己选择一个标准, 说说还可以怎么分。(4分)

五、根据下表回答问题。(16分)

展区	牡丹园	菊花园	桃花园	月季园
数量	225株	92株	45株	513株

1. 哪个展区的植物最多? 哪个展区的植物最少? 这两个展区的植物相差多少?(8分)

2. 牡丹园、菊花园和桃花园一共有多少株植物?(8分)







答案

一、第一种分法:①③和②④;第二种分法:①②和③④;第三种分法:①④和②③。


二、



蔬菜



动物



交通工具

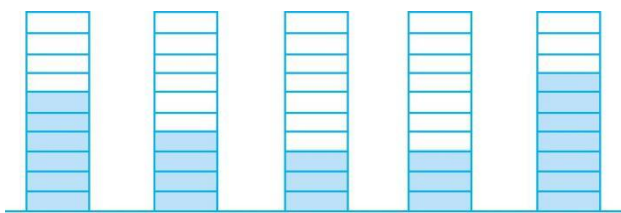
⑪⑬

①③④⑦

三、1.

斑马	正一
猴子	正
老虎	下
公鸡	下
小猫	正下

2. 23 6 4 3 3 7



3. 斑马 猴子 老虎 公鸡 小猫

四、1. 按照颜色分成两类:蓝色图形和红色图形。

2. 还可以按图形的形状分,分成三角形、正方形、圆和月牙形四大类。

五、1. $513-45=468$ (株)

答:月季园展区的植物最多,桃花园展区的植物最少,这两个展区的植物相差 468 株。

2. $225+92+45$

$=317+45$

$=362$ (株)





答:牡丹园、菊花园和桃花园一共有 362 株植物。

