



二年级上学期期中检测卷 (A)

班级: _____ 姓名: _____ 满分: 100 分 考试时间: 90 分钟

题序	第一题	第二题	第三题	第四题	第五题	第六题	第七题	第八题	第九题	第十题	总分
得分											

一、算一算。(12分)

$6 \times 6 =$	$3 \times 5 =$	$4 \times 6 =$	$2 \times 6 =$
$4 \times 4 =$	$5 \times 6 =$	$5 \times 4 =$	$6 \times 3 =$
$7 \times 4 - 5 =$	$5 \times 6 + 6 =$	$7 \times 4 - 6 =$	$6 \times 3 - 3 =$

二、填一填。(12分)

- 角是由一个()和两条()组成的。
- $3+3+3+3+3+3 = () \times 5 + 5 = () \times ()$
- 两个因数都是 5, 积是(); 两个加数都是 4, 和是()。
- 把 $6+6+6+6+6-10$ 改写成乘减算式是()。
- 计算 3×6 和 6×3 时, 都用口诀()。
- 一只手 5 根手指, 2 只手()根手指, 2 双手()根手指。

三、把口诀补充完整。(12分)

二三() 四()二十四 三()十八
()得四 五五() ()四得八

四、竖式计算。(8分)

$$\begin{array}{r} 3 \\ \times 2 \\ \hline \end{array}$$

$$\begin{array}{r} 4 \\ \times 5 \\ \hline \end{array}$$

$$\begin{array}{r} 7 \\ \times 7 \\ \hline \end{array}$$

$$\begin{array}{r} 2 \\ \times 7 \\ \hline \end{array}$$

$$\begin{array}{r} 5 \\ \times 8 \\ \hline \end{array}$$

$$\begin{array}{r} 7 \\ \times 6 \\ \hline \end{array}$$

$$\begin{array}{r} 4 \\ \times 3 \\ \hline \end{array}$$

$$\begin{array}{r} 3 \\ \times 9 \\ \hline \end{array}$$

五、在○里填上“>”“<”或“=”。(6分)

$26+42$ ○ 8×8 7×7 ○ 49 $18-9$ ○ 2×6
 3×9 ○ 4×9 7×8 ○ 6×9 $37-2$ ○ 5×7

六、选一选。(8分)



角有(), 直角有(), 锐角有(), 钝角有()。

七、画一画。(6分)

- 以下面的点为顶点, 借助三角板画一个直角。

•

- 在下图中画一条线段, 使它增加两个直角。



班级: _____

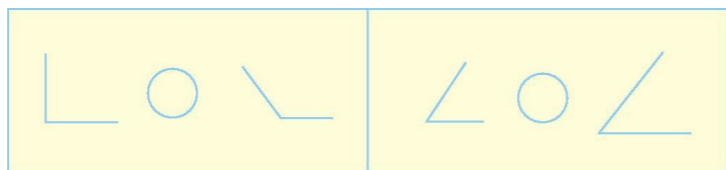
姓名: _____

准考证号: _____





3. 在○里填上“>”“<”或“=”。



八、做一做。(6分)

1. 每堆画两个,画4堆。

乘法算式: () × () = () 或 () × () = ()


2. 画○的个数是△的2倍。



乘法算式: () × () = () 或 () × () = ()

九、看图列式计算。(9分)


1.



() ○ () = () (根) () ○ () = () (根)

口诀: _____

2.



() ○ () = () (个) () ○ () = () (个)

口诀: _____

3.




() × () ○ () = () (个)

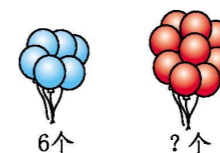
或 () × () ○ () = () (个)

十、解决问题。(21分)

1. 跳绳的有8组,一共有多少人?(4分)



2. 红气球的个数是蓝气球的5倍。红气球有多少个?(5分)



3. (12分)



(1)爸爸每周工作5天,共工作多少小时?

(2)小丽一周在学校学习多少小时?

(3)你还能提出哪些数学问题?试着解答出来。



○ : : : : : 密 : : : : : 封 : : : : : 线 : : : : : 内 : : : : : 不 : : : : : 要 : : : : : 答 : : : : : 题 : : : : :



二年级上学期期中检测卷 (A)

参考答案

一、 36 15 24 12 16 30 20 18 23 36 22 15

二、 1. 顶点 边 2. 3(6) 6(3) 5(2) 2(5)

3. 25 8 4. $5 \times 6 - 10$ 或 $6 \times 5 - 10$

5. 三六十八 6. 10 20

三、 得六 六 六 二二(一四) 二十五 二

四、 6 20 49 14 40 42 12 27

五、 $> = < < > =$

六、 ①③④⑤⑥ ④ ①⑥ ③⑤

七、 1. 略 2. 略 3. $< =$

八、 画图略。

1. $2 \times 4 = 8$ $4 \times 2 = 8$

2. $3 \times 2 = 6$ $2 \times 3 = 6$

九、 1. $2 \times 3 = 6$ (根) $3 \times 2 = 6$ (根) 二三得六

2. $3 \times 4 = 12$ (个) $4 \times 3 = 12$ (个)

三四十二

3. $4 \times 4 + 3 = 19$ (个) $4 \times 5 - 1 = 19$ (个)

十、 1. $3 \times 8 = 24$ (人)

2. $6 \times 5 = 30$ (个)

3. (1) $8 \times 5 = 40$ (时)

(2) $6 \times 5 = 30$ (时)

(3) 答案不唯一, 如: 妈妈每周工作 6 天, 一周工作多少小时? $6 \times 7 = 42$ (时)

班级: _____

姓名: _____

准考证号: _____

