



第2单元跟踪检测卷

一、填一填。(1题4分, 其余每空1分, 共25分)

1. 想一想, 算一算。

$$\begin{array}{c} 45 + 28 = \square \\ \begin{array}{c} \diagup \quad \diagdown \\ \square \quad \square \\ \diagdown \quad \diagup \\ \square \end{array} \end{array}$$

$$\begin{array}{c} 93 - 47 = \square \\ \begin{array}{c} \diagup \quad \diagdown \\ \square \quad \square \\ \diagdown \quad \diagup \\ \square \end{array} \end{array}$$

2. 66比32多(), 比58少23的数是(),
()比45多30。

3. 快乐碰碰车。



4. 一个加数是250, 另一个加数是640, 和是()。

一个数减去180后是160, 这个数是()。

$$21 \xrightarrow{+46} \square \xrightarrow{-32} \square \xrightarrow{+57} \square \xrightarrow{-63} \square$$

$$420 \xrightarrow{+200} \square \xrightarrow{-130} \square \xrightarrow{+360} \square \xrightarrow{-580} \square$$

6. 商场搞促销, 微波炉原价650元, 现价570元, 便宜了()元。

7. 一本故事书共698页, 小丽看了201页, 她大约看了()页,
大约还剩()页。

8. 从甲地到乙地, 坐飞机需要553元, 坐动车需要379元。从甲地
到乙地, 坐动车比坐飞机大约便宜()元。

二、辨一辨。(对的画“√”, 错的画“×”)(每题1分, 共5分)

1. 口算 $39+65$ 时, 可以先算 $39+60=99$, 再算 $99+5=106$ 。()





2. 两位数加两位数, 和可能是四位数。 ()

3. $99 - 5\square$ 的差的十位一定是 4。 ()

4. 估算 $497 + 179$ 时, 把 497 估成 500, 179 估成 180, 估算的结果比实际的结果要大。 ()

5. 在 306、495、345、299、310 中, 最接近 300 的是 306。 ()

三、选一选。(把正确答案的序号填在括号里)(每题 2 分, 共 10 分)

1. $520 - 370$ 的结果的百位上是()。

- A. 1 B. 2 C. 8

2. 得数最接近 700 的算式是()。

- A. $589 + 217$ B. $618 + 89$ C. $962 - 390$

3. 丽丽做一道减法题, 把减数 34 看成了 43, 结果算出的差比正确的差()。

- A. 多 9 B. 少 9 C. 无法比较

4. 面粉厂生产了 960 袋面粉, 第一天运走 180 袋, 第二天运走 250 袋, 现在, 面粉比原来少了()袋。



共 960 袋

- A. 530 B. 430 C. 330

5. 芸芸和芳芳各有 36 张邮票, 芸芸送给芳芳 11 张邮票后, 芸芸比芳芳少()张邮票。





A. 11

B. 25

C. 22

四、计算挑战。(共 30 分)

1. 口算。(每题 1 分，共 12 分)

$67-25=$

$83-33=$

$800-400=$

$100+250=$

$600+500=$

$170-80=$

$35+65=$

$54-18=$

$30+200=$

$560-300=$

$470-160=$

$200+420=$

2. 用竖式计算。(每题 3 分，共 18 分)

$430+260=$

$980-460=$

$820-230=$

$550-190=$

$370+380=$

$600-340=$

五、解决问题。(每题 6 分，共 30 分)

1. 勤劳的人民。





(1)两天一共用电线多少米？

(2)第一天比第二天少用了多少米？

2.风雨无阻的快递员：他这两周大约共送了多少件？

	第一周	第二周
数量	489 件	508 件





3. 文具店的积分。




(1) 小雨积了多少分？

(2) 小虎和小龙一共积了多少分？

4. 近年来我国北方冬季大雾天气较多。下面是 2017 年冬季我国两个城市 11、12 月份大雾天气天数。

甲市	乙市
11月份：16天	11月份：18天
12月份：21天	12月份：16天



(1) 这两个月乙市有多少天是大雾天气？

(2) 请你提一个用加法计算的问题，并解决。





5. 小明、小红、小刚的家都住在幸福路上(笔直的)。小明家离小红家 540 米，小红家与小刚家相距 380 米。小明家和小刚家相距多少米？

你能想到几种情况？先画一画，再列式计算。

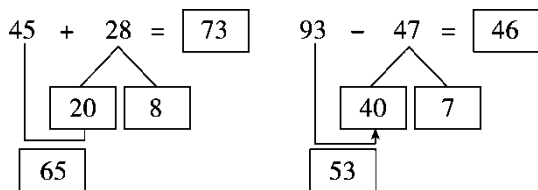


田老师





答案



一、1.

2. 34 35 75 3. 61 35 88 34

4. 890 340 [点拨] 求这个数, 用加法。

5. 67 35 92 29 620 490 850 270

6. 80

7. 200 500 [点拨] 看清题中“大约”这个重要词汇。

8. 170

二、1. × 2. × 3. √ 4. √ 5. ×

三、1. A 2. B 3. B

4. B [点拨] 不要看到问题中有“少”字, 就用减法 $960 - 180 - 250$, 这样求的是还剩多少袋。

5. C

四、1. 42 50 400 350 1100 90

100 36 230 260 310 620

2. 690 520 590 360 750 260

五、1. (1) $420 + 430 = 850$ (米)

答: 两天一共用电线 850 米。

(2) $430 - 420 = 10$ (米)

答: 第一天比第二天少用了 10 米。

2. 把 489 看成 490, 把 508 看成 510。





$$490 + 510 = 1000(\text{件})$$

答: 他这两周大约共送了 1000 件。

3. (1) $46 + 14 = 60(\text{分})$ 答: 小雨积了 60 分。

(2) $33 + 46 = 79(\text{分})$

答: 小虎和小龙一共积了 79 分。

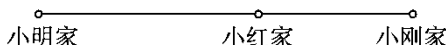
4. (1) $18 + 16 = 34(\text{天})$

答: 这两个月乙市有 34 天是大雾天气。

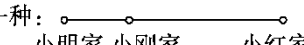
(2)(答案不唯一)这两个月甲市有多少天是大雾天气?

$$16 + 21 = 37(\text{天})$$

答: 这两个月甲市有 37 天是大雾天气。

5. 一种: 

$$540 + 380 = 920(\text{米})$$

另一种: 

$$540 - 380 = 160(\text{米})$$

答: 小明家和小刚家相距 920 米或 160 米。

[点拨] 题目没有具体说明三家的具体位置关系, 因此要考虑全面。一种是小明家、小刚家在小红家的两侧; 另一种是小明家、小刚家在小红家的同一侧。

