



## 第九单元测试卷（1）

（时间:60分钟 分数:\_\_\_\_\_）

一、选一选。（把正确答案的序号填在括号里）（12分）

二年级学生喜欢的图书人数调查

连环画	故事书	科技书	其他
18人	12人	8人	4人

1. 喜欢( )的人数最多。

- ①连环画          ②故事书          ③科技书          ④其他

2. 喜欢( )的人数最少。

- ①连环画          ②故事书          ③科技书          ④其他

3. 喜欢故事书的人数比喜欢连环画的少( )人。

- ①10                  ②6                  ③4                  ④8

4. 喜欢连环画的和喜欢科技书的一共有( )人。

- ①30                  ②20                  ③26                  ④12

二、填表。（16分）

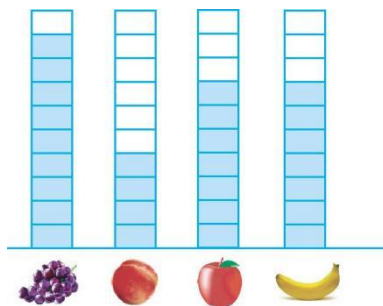
1. 小丽统计她所在班最喜欢的动画片的人数情况。（8分）

《喜羊羊与灰太狼》	《猫和老鼠》	《西游记》	《七龙珠》
正正正正	正正	正	正

把喜欢各种动画片的人数填入下表。

合计	《喜羊羊与灰太狼》	《猫和老鼠》	《西游记》	《七龙珠》
( )人	( )人	( )人	( )人	( )人

2. 李明调查了全班学生最喜欢吃的水果情况。（8分）






根据左图画“正”字整理。

葡萄	桃	苹果	香蕉

三、数气球。(12分)



1. 用合适的方法统计左面的各种气球。

红色      黄色      蓝色      绿色

2. 黄色的气球比红色的少(    )个,绿色的气球比红色的少(    )个。
3. 红色的气球和蓝色的气球一共有(    )个。

四、小军的储蓄罐。(18分)



1. 用画“正”字的方法统计。

1元	5角	1角

2. 算一算一共有多少钱。





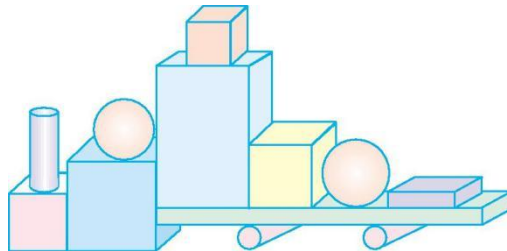
3. 小军想买 1 本 10 元钱的书, 够吗? 如果不够, 还差多少钱?

五、二年级同学的生日在 4 个季节的人数统计如下。(12 分)





春	夏	秋	冬
正正正正	正正	正正正正正	正正正

1. 从上表中可以看出, 共调查了( )名同学。
2. ( )季过生日的人数最多, ( )季过生日的人数最少。
3. 春季和冬季过生日的共有( )人。
4. 你还能提出什么数学问题? 试着解答出来。

六、数图形并回答问题。(12 分)



1. 完成下面的统计表。

			
( ) 个	( ) 个	( ) 个	( ) 个





2. 正方体比球多( )个,圆柱比正方体少( )个。
3. 你还能提出什么数学问题?试着解答出来。

七、整理全班一星期阅读课外读物的册数。(18分)

少儿文艺	连环画	故事书
正	✓✓✓	△△
正	✓✓✓	△△△
正	✓✓✓	△△△
	✓✓	△

1. 把上面整理的结果填入下表。

合计	少儿文艺	连环画	故事书
( )册	( )册	( )册	( )册

2. 阅读连环画的册数比故事书多多少册?

3. 同学们最喜欢看的课外读物是什么?

4. 全班共读了多少册课外读物?





### 参考答案

一、1. ① 2. ④ 3. ② 4. ③

二、1. 32 17 7 5 3

2. 正 F F 正 T 正 T

三、1. 提示:可以画“ ”,也可以画“○”,画图略。

2. 4 5 3. 13

四、1. 1元:正 T 5角:F 1角:正 T 2. 9元2角

3. 不够  $10\text{元}-9\text{元}2\text{角}=8\text{角}$

五、1. 66 2. 秋 夏 3. 33 4. 答案不唯一,如:在秋季出生的和在冬季出生的一共有多少人? $23+16=39(\text{人})$

六、1. 4 3 3 2 2. 2 1 3. 答案不唯一,如:一共有多少个图形?12个

七、1. 45 16 17 12 2.  $17-12=5(\text{册})$  3. 连环画

4.  $16+17+12=45(\text{册})$

