



周测培优卷 6

一、我会填。(6题8分, 其余每题3分, 共23分)

1. 计算 $18-25\div5$ 时, 要先算()法, 再算()法, 结果是()。
2. 计算 $6\times4\div8$ 时, 要先算()法, 再算()法, 结果是()。
3. $8\times9-4$ 的结果是(), 如果要改变运算顺序, 添上括号后的算式是()。
4. $18+63\div9$ 与 $(18+63)\div9$ 的运算结果(), 运算顺序()。
(填“相同”或“不同”)
5. 6个9是(), 再加上18, 和是()。
6. 在○里填上“>”“<”或“=”。
 $10-2\times4$ ○ $(10-2)\times4$ $32\div4\div2$ ○ $32\div8$
 $20+15\div5$ ○ $(20+15)\div5$ $58-24\div3$ ○ 6×8

二、计算挑战。(共52分)

1. 计算下面各题。(每题3分, 共18分)

$6\times7+24$

$64\div8+57$

$45\div(29-20)$

$(14-9)\times8$

$6\times(2\times4)$

$(28-8)\div5$



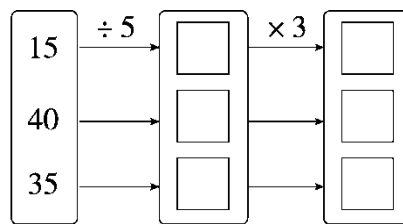
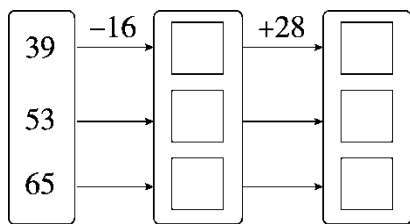


2. 下面的计算对吗？对的画“√”，错的画“×”，并改正过来。(每题 5 分，共 10 分)

$$\begin{aligned} &75-18+12 \\ &=75-30 \\ &=45 \quad (\quad) \end{aligned}$$

$$\begin{aligned} &6 \times 4 \div 3 \\ &=24 \\ &=8 \quad (\quad) \end{aligned}$$

3. 我会仔细算。(每空 2 分，共 24 分)



三、走进生活，解决问题。(1 题 9 分，其余每题 8 分，共 25 分)

1. 快递员叔叔今天一共要送 220 件快递，上午送了 120 件，下午送了 80 件，还剩多少件没送？(用两种方法解答)

2.



3. 平均每间兔舍住几只兔子？







答案

一、1.除 减 13 2.乘 除 3

3. 68 $8 \times (9 - 4)$ [点拨] 如果要改变运算顺序□说明要先算减法。

4. 不同 不同 5. 54 72

6. $< = > >$

二、1.

$6 \times 7 + 24$	$64 \div 8 + 57$
$= 42 + 24$	$= 8 + 57$
$= 66$	$= 65$
$45 \div (29 - 20)$	$(14 - 9) \times 8$
$= 45 \div 9$	$= 5 \times 8$
$= 5$	$= 40$
$6 \times (2 \times 4)$	$(28 - 8) \div 5$
$= 6 \times 8$	$= 20 \div 5$
$= 48$	$= 4$

2.

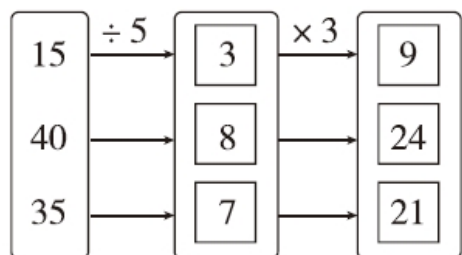
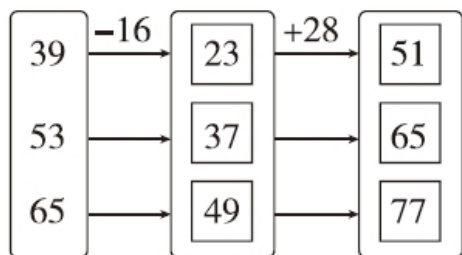
$$\begin{aligned} & \times \quad 75 - 18 + 12 \\ & \\ & = 57 + 12 \\ & \\ & = 69 \end{aligned}$$

$$\begin{aligned} & \times \quad 6 \times 4 \div 3 \\ & \\ & = 24 \div 3 \\ & \\ & = 8 \end{aligned}$$





3.



三、1.方法一： $220-120-80$

$$=100-80$$

$$=20(\text{件})$$

方法二： $220-(120+80)$

$$=220-200$$

$$=20(\text{件})$$

口答：还剩 20 件没送。

2. $7 \times 8 - 27 = 29(\text{盆})$

口答：还剩 29 盆没浇。

3. $(20+12) \div 4 = 8(\text{只})$

口答：平均每间兔舍住 8 只兔子。

[点拨] 先求出白兔和灰兔一共有多少只。

