



第六单元测试卷

一、填空题。

1. 如果一个图形对折后,两侧的部分能够完全重合,这样的图形就叫()图形。
2. 旋转时,物体的()和()发生变化。
3. 行驶中的汽车车轮的运动是()现象,电梯的上下移动是()现象。
4. 写出三个是轴对称图形的数字或汉字,例如,()、()、()。

二、判断题。(正确的画“√”,错误的画“×”)

1. 平移必须是在水平方向上移动。 ()
2. 旋转就是以一点或一个轴为中心而做的圆周运动。 ()
3. 当五星红旗在奥运赛场上冉冉升起时,五星红旗的运动是平移。 ()
4. 观察一个图形的平移过程,只需观察该图形上任意一点的平移过程。 ()
5. 电梯门开关是旋转现象。 ()
6. 人推箱子是平移现象。 ()

三、选择题。(把正确答案的序号填在括号里)

1. 下列图形是轴对称图形的是()。



A B C D

2. 下面是平移现象的是()。

- A. 开推拉门 B. 拧水龙头
C. 电风扇的转动 D. 风车的转动

3. 下面是旋转现象的是()。

- A. 把书从书包里拿出来
B. 转动汽车的方向盘





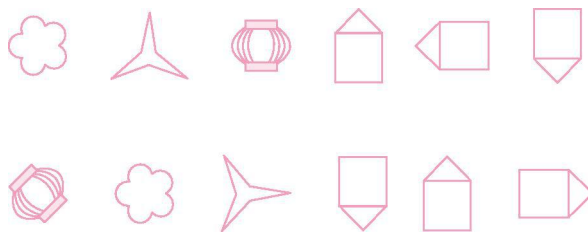
C. 擦玻璃

D. 火车在铁轨上行驶

四、在轴对称图形下面画“√”。



五、第一行的图形通过平移能得到第二行的图形吗?连一连。



六、用“旋转”和“平移”填空。


1.

商场的门



()

拨动算珠



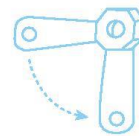
()

拉开抽屉



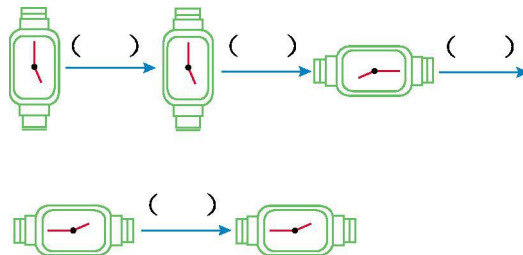
()

搬动阀门手柄




()

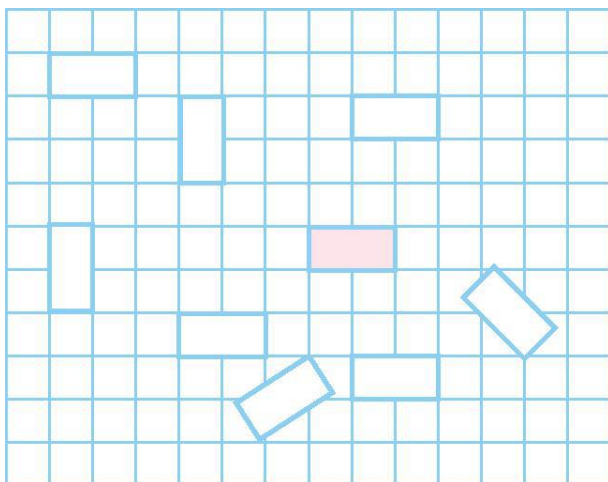
2.



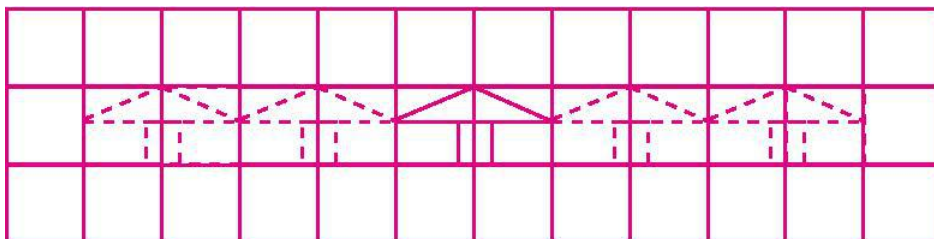


七、按要求涂一涂。


1. 把可以平移到与  同一位置的长方形涂上颜色。



2. 把小房子向左移动 2 格的涂红色,向右移动 4 格的涂黄色。



3. 小青蛙怎样绕过赖皮蛇回池塘?





第六单元测试卷答案

一、1. 轴对称

2. 方向 位置

3. 旋转 平移

4. 8 中 0(答案不唯一)

二、1. × 2. √ 3. √ 4. √ 5. × 6. √

三、1. A 2. A 3. B

四、略

五、略

六、1. 旋转 平移 平移 旋转

2. 平移 旋转 旋转 平移

七、略

