




第5单元跟踪检测卷

一、填一填。(8题6分, 其余每题2分, 共20分)

1. 算式里有括号的, 要先算()的。
2. 计算 $100-25+15$ 时, 要先算()法, 再算()法。
3. 计算 $6+3\times 5$ 时, 要先算()法, 再算()法, 结果是()。
4. 35 与 28 的和除以 7, 商是()。
5. 在○中填入“>”“<”或“=”。
 $2\times 6\div 3$ ○5 $5+4\times 3$ ○17 $58-24\div 6$ ○24
6. 文具店有 90 支钢笔, 上午卖了 27 支, 下午卖了 32 支, 还剩()支。
7. 停车场停了 3 排小汽车, 每排有 6 辆, 大客车共停了 9 辆。小汽车比大客车多停了()辆。

8. 

小兔子兄弟去采蘑菇, 如果每篮装 9 个, 这些蘑菇一共可以装几篮? 先算(), 再算(), 列综合算式是()。

二、辨一辨。(对的画“√”, 错的画“×”)(每题1分, 共5分)

1. 在计算混合运算时, 一定先算乘法, 再算除法。 ()
2. $3\times 6+2=24$ 。 ()





3. $8 \times 3 \div 6$ 和 $38 + 27 - 16$ 的运算顺序是一样的。 ()

4. 要想改变一道混合运算题目的运算顺序, 可以请小括号来帮忙。
()

5. 要使 $7 \times (\square - 3) = 56$, \square 里应填 11。 ()

三、选一选。(把正确答案的序号填在括号里)(每题 2 分, 共 10 分)

1. 下面题目, 用横线画出先算的, 不正确的是()。

- ① $12 \div 6 \times 2$ ② $3 + 5 \times 2$ ③ $56 - (20 + 5)$

2. 下面的算式中, 先算减法的是()。

- ① $20 - 7 \times 2$ ② $27 \div (9 - 6)$ ③ $54 \div 6 - 4$

3. $73 - 46 - 14$ 与()的计算结果相同。

- ① $73 - (46 - 14)$ ② $73 - (46 + 14)$ ③ $73 - 46 + 14$

4. 下面算式中与 $12 \div 3 \div 2$ 结果一样的算式是()。

- ① $12 \div 3 \times 2$ ② $16 + 4$ ③ $12 \div (3 \times 2)$

5. 程老师本来计划为图书角买 6 本《故事书》, 你认为他应该买() 本。



每本 8 元,
购买 8 本及以上
每本优惠 2 元。

- ① 6 ② 7 ③ 8

四、计算挑战。(共 26 分)

1. 计算下面各题。(每题 3 分, 共 18 分)





$$5+3 \times 8$$

$$36-24 \div 6$$

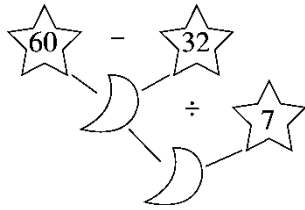
$$42-18+12$$

$$5 \times (28 \div 7)$$

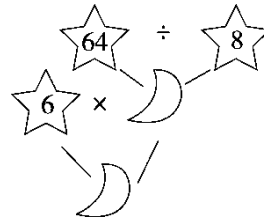
$$4 \times 6 \div 3$$

$$54 - (62 - 57)$$

2. 先填空, 再列综合算式。(每题 4 分, 共 8 分)



综合算式: _____



综合算式: _____

五、看图列式计算。(每题 4.5 分, 共 9 分)

1. 42元/只 6元/只
? 元

2. 吃了24个 剩下的每袋装8个, 可以装几袋?

一共买了56个蛋糕

六、走进生活, 解决问题。(1~3 题每题 6 分, 4 题 12 分, 共 30 分)

1. 二年级两个班的同学参加仪仗队表演。

班级	一班	二班
人数	27 人	29 人





这些同学站成8行,
平均每行多少人?




2. 母亲节到了, 同学们买花送给母亲。小丽比小林多花多少钱?



小林

我买了8枝
玫瑰。

我买了8枝
百合。



小丽



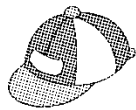
玫瑰
每枝6元




百合
每枝8元

3. 丽丽和爸爸、妈妈一起逛公园, 买门票一共花了 24 元。

4. 逛商场。



9元



29元



7元



24元

(1) 东东带了 50 元钱, 买了一架玩具摩托车后还可以买几双袜子?





(2)文文买 3 顶帽子和一个木马，共花多少钱？

(3)你能再提一个两步解决的问题并解答吗？





答案

一、1.括号里 2.减 加

3. 乘 加 21 [点拨]加法在前、乘法在后, 有的同学往往先算加法, 是错误的。

4. 9 5.< = > 6.31 7.9

8. 小兔子兄弟一共采了多少个蘑菇($42+30$) 一共可以装几篮($72\div 9$)
 $(42+30)\div 9=8$ (篮)

二、1. \times 2. \times 3. \surd 4. \surd 5. \surd

三、1.② 2.② 3.② 4.③

5. ③ [点拨]如果只买6本书, 不能优惠, 列式是 $6\times 8=48$ (元); 如果买8本书, 可以优惠, 每本 $8-2=6$ (元), $6\times 8=48$ (元)。用同样多的钱, 肯定买8本更实惠。

四、1.

$$\begin{aligned} 5+3\times 8 \\ =5+24 \\ =29 \end{aligned}$$

$$\begin{aligned} 5\times (28\div 7) \\ =5\times 4 \\ =20 \end{aligned}$$

$$\begin{aligned} 36-24\div 6 \\ =36-4 \\ =32 \end{aligned}$$

$$\begin{aligned} 4\times 6\div 3 \\ =24\div 3 \\ =8 \end{aligned}$$

$$\begin{aligned} 42-18+12 \\ =24+12 \\ =36 \end{aligned}$$

$$\begin{aligned} 54-(62-57) \\ =54-5 \\ =49 \end{aligned}$$

2. 28 4 $(60-32)\div 7=4$ 8 48 $6\times(64\div 8)=48$

五、1. $42+4\times 6=66$ (元)

2. $(56-24)\div 8=4$ (袋)

六、1. $(27+29)\div 8=7$ (人)

口答: 平均每行7人。

2. $8\times(8-6)=16$ (元)





口答：小丽比小林多花 16 元钱。

[点拨]另一种方法是 $8 \times 8 - 8 \times 6$ ，但 $8 \times (8 - 6)$ 这种方法要简便和灵活些。

3. $(24 - 6) \div 2 = 9(\text{元})$

口答：成人票一张 9 元钱。

4. (1) $(50 - 29) \div 7 = 3(\text{双})$

口答：买了一架玩具摩托车后还可以买 3 双袜子。

(2) $3 \times 9 + 24 = 51(\text{元})$

口答：一共花了 51 元钱。

(3) 买 5 双袜子和一顶帽子共花多少钱？

$5 \times 7 + 9 = 44(\text{元})$

口答：买 5 双袜子和一顶帽子共花 44 元钱。

[点拨]第(3)问答案不唯一。

