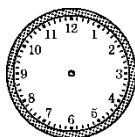




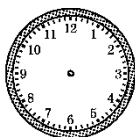
第一单元过关检测卷

一、填空题。(1题4分, 其余每空1分, 共36分)

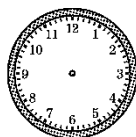
1. 根据下面的时间, 画出时针和分针的位置。



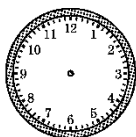
7时35分



9时



4时30分



10时40分

2. 钟面上走得最快的是()针, 走得最慢的是()针;

秒针走一圈是()秒, 这时分针走()。

3. 分针从数字2走到数字6, 这时秒针走了()圈。秒针从数字2走到数字6, 经过了()秒。

4. 在括号里填上合适的单位名称。

(1)眨一下眼用了1()。

(2)王刚完成数学家庭作业用时30()。

(3)刘谦跳绳50下大约用了1()。

(4)小朋友每天睡觉至少要10()。

(5)叠被子大约用了1()。

(6)做一次深呼吸要4()。

5. 2时=()分 60秒=()分 1时20分=()分

3分5秒=()秒

150分=()时()分





6. 如右图, 再过()分钟是 3: 10; 倒退()分钟是 2: 30。
7. 小明从下午 5: 35 开始做作业, 刚好花了 25 分钟, 完成作业时的时刻是下午()。
8. 现在是 9: 20, 文艺汇演已经开始了半个小时, 那么这场文艺汇演是()开始的。
9. 小亮 7: 55 从家出发去上学, 8: 20 到达学校。他在路上一共花了()分钟。
10. 一场电影从下午 2: 05 开始, 到下午 4: 00 结束, 电影播放了()小时()分钟。
11. 在 \bigcirc 里填上“>”“<”或“=”。
2 分 \bigcirc 100 秒 5 时 \bigcirc 500 分
240 秒 \bigcirc 4 分 250 分 \bigcirc 5 时
130 分 \bigcirc 1 时 30 分 1 分 \bigcirc 90 秒
2 分 30 秒 \bigcirc 150 秒

二、判断题。(对的画“√”, 错的画“×”)(每题 1 分, 共 5 分)

1. 秒针走一圈所用的时间和分针走一小格所用的时间相等。
()
2. 百米赛跑是用秒做单位来计时的。()
3. 明明早晨刷牙用了 2 分钟。()
4. 钟面上, 分针走半圈是半小时。()





5. 从 9: 30 到 12: 30, 中间经过了 4 小时。()

三、选择题。(选择正确答案的字母填在括号里)(每题 2 分, 共 12 分)

1. 秒针从钟面上的一个数走到下一个数, 经过的时间是()。

A. 5 分 B. 5 秒 C. 1 小时 D. 1 秒

2. 一场电影大约要播放()。

A. 90 分 B. 90 秒 C. 90 小时 D. 9 时

3. 小红、小兰和小军做一样的作业, 小红用了 1 小时, 小军用了 70 分钟, 小兰用了 50 分钟。则()。

A. 小红做得最快 B. 小军做得最快
C. 小兰做得最快 D. 他们做得一样快

4. 从 5: 25 起, 再过()是 6: 10。

A. 35 分钟 B. 25 分钟
C. 45 分钟 D. 15 分钟

5. 奶奶下午从 5: 00 开始做饭, 到下午 6: 00 结束。奶奶做饭用了()。

A. 60 分钟 B. 70 分钟
C. 30 分钟 D. 10 分钟

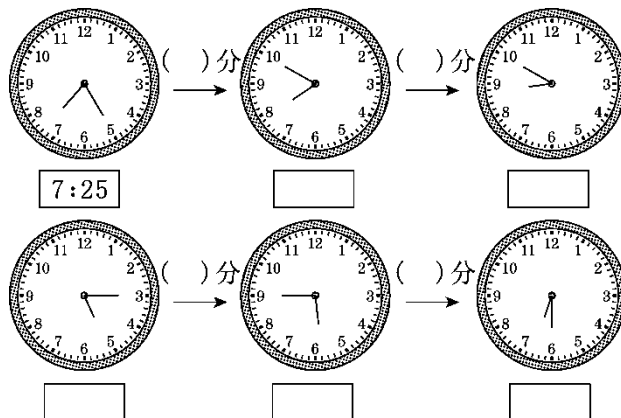
6. 下面说法正确的是()。

A. 小红写一个字大约需要 3 分钟
B. 1 分 12 秒 = 112 秒
C. 因为 1 时 = 60 分, 所以分针走一圈, 时针走一大格
D. 因为 1 分 = 60 秒, 所以秒针走一圈, 分针走一大格

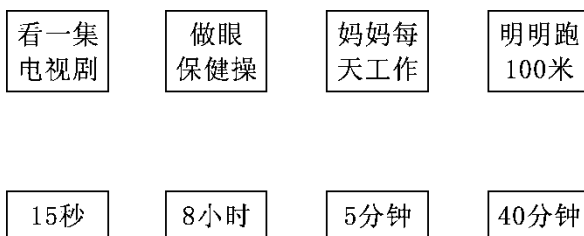




四、看一看，填一填。(9分)

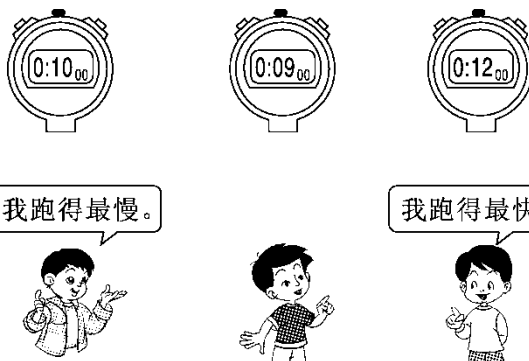


五、想一想，连一连。(4分)



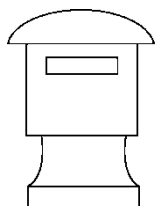
六、下面是三个同学进行50米赛跑的成绩，他们的成绩各是多少？

你能用线连一连吗？(3分)



七、解决问题。(1、2题各5分，3题6分，4题15分，共31分)

1. 第二次取信到第三次取信间隔多长时间？



取信时间	
第一次:	上午8:40
第二次:	下午2:30
第三次:	下午6:30





2. 王宁的爸爸从北京到青岛出差，想坐上午 11:05 的汽车。从家到汽车站要用 25 分钟，他最晚什么时候从家里出发？(不考虑进站上车的时间)

3. 下面是某地周末下午停电通知。

停电通知	
云盘小区	下午 3:05—3:45
云林小区	下午 3:10—3:55

(1)哪个小区停电时间长？长多长时间？

(2)明明下午 3:40 回到家，发现家里停电。他在家等了 15 分钟后才恢复了供电，你知道他住在哪个小区吗？

4. 回答问题。

胜利小学作息时间表(上午)	
8:00—8:20	早自习
8:30—9:10	第一节 课



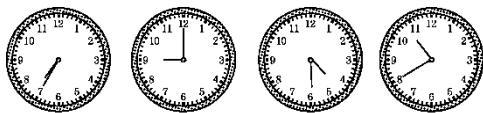


9: 20—10: 00	第二节 课
10: 00—10: 20	课间操
10: 30—11: 10	第三节 课
	第四节 课

- (1)上午第一节课有多长时间？
- (2)10: 10 同学们正在做什么？
- (3)你能发现上课时间的规律吗？请你填出第四节课的上课时间和结束时间。
- (4)胜利小学的学生上午在校的时间有多长？

答案





1. 7时35分 9时 4时30分 10时40分

2. 秒 时 60 1小格 3.20 20

4. (1)秒 (2)分 (3)分 (4)时 (5)分 (6)秒

5. 120 1 80 185 2 30 6.15 25 7.6: 00

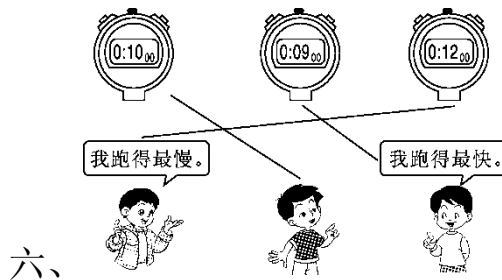
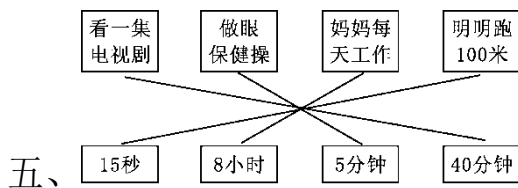
8. 8: 50 9.25 10.1 55

11. > < = < > < =

二、1.√ 2.√ 3.√ 4.√ 5.×

三、1.B 2.A 3.C 4.C 5.A 6.C

四、25 7: 50 60 8: 50 5: 15 30 5: 45 45 6: 30



七、1.6: 30-2: 30=4(小时)

2. 11: 05-25分=10: 40

3. (1)云盘小区: 3: 45-3: 05=40(分)

云林小区: 3: 55-3: 10=45(分) 45-40=5(分) 云林小区停电时间长, 长5分钟。

(2)明明住在云林小区。





4. (1) $9:10 - 8:30 = 40$ (分)

(2) 同学们在做课间操

(3) $11:20 - 12:00$

(4) $12:00 - 8:00 = 4$ (小时)

