

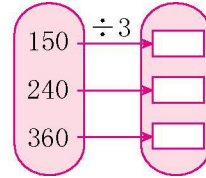
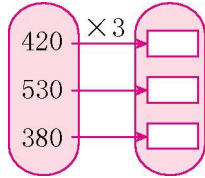


第五单元测试卷

一、直接写出得数。

$$\begin{array}{lll}
 60 \times 5 = & 700 \times 6 = & 400 \times 8 = \\
 56 \div 7 = & 34 + 8 = & 92 - 6 = \\
 250 \times 4 = & 420 \div 7 = & 360 \div 6 =
 \end{array}$$

二、算一算。



三、列竖式计算。

$135 \times 5 =$

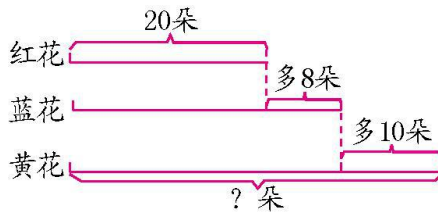
$206 \times 8 =$

$402 \div 8 =$

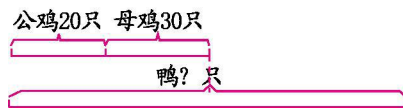
$356 \div 7 =$

四、看图列式计算。

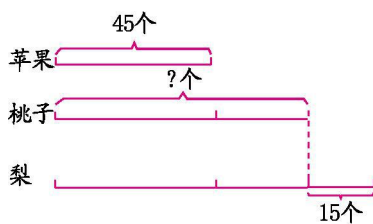
1.



2.

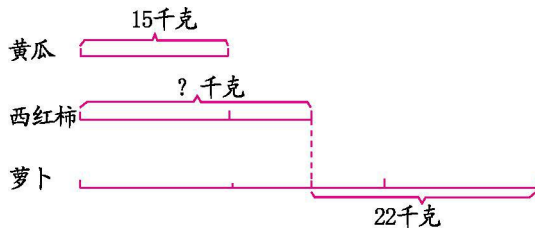


3.



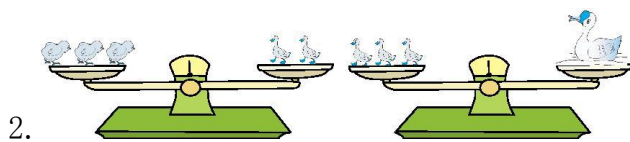


4.



五、根据已知条件，提出问题并解答。

1. 有 3 个方阵，每个方阵有 20 名学生，其中男生有 40 名。



一只鸡 2 千克。 _____

3. 杨树有 42 棵，柳树有 36 棵，松树比它们棵数和的一半多 3 棵。

六、解决问题。

1. 小华、小丽和小强三人跳绳比赛，小丽跳了 26 下，小华跳了 18 下，小强跳的比他们俩跳的总和的 2 倍少 54 下。小强跳了多少下？





2. 张老师买 8 支钢笔用了 96 元,1 本字典的价格比 1 支钢笔少 3 元。1 本字典多少钱?

3. 甲、乙两桶油共重 118 千克,甲桶倒出 2 千克油后和乙桶油同样重。甲桶油重多少千克?

4. 张大爷的果园今年收了 25 筐梨,收的苹果的筐数比梨的 3 倍少 10 筐。张大爷今年收苹果多少筐?

5. 一袋奶糖 12 元,一袋水果糖 10 元,一袋巧克力糖的价钱比一袋奶糖和一袋水果糖价钱和的 2 倍少 2 元。一袋巧克力糖多少钱?

6. 一袋 800 克的糖,第一次拿出一半,第二次拿出剩下的一半,第三次加入 50 克。现在这袋糖有多重?

7. 三(1)班有 45 人,其中 25 人喜欢看《熊出没》,35 人喜欢看《西游记》,如果每人至少选一个,有多少人两个动画片都喜欢看?





第五单元测试卷答案

一、300 4200 3200 8 42 86 1000 60 60

二、1260 1590 1140 50 80 120

三、675 1648 50.....2 50.....6

四、1. $20+8=28$ (朵) $28+10=38$ (朵)

2. $20+30=50$ (只) $50\times 2=100$ (只)

3. $45\times 2=90$ (个) $90-15=75$ (个)

4. $15\times 3=45$ (千克) $45-22=23$ (千克)

五、1. 答案不唯一 女生有多少名?

$20\times 3=60$ (名) $60-40=20$ (名)

2. 答案不唯一 一只鹅多少千克?

$2\times 3=6$ (千克) $6\div 2=3$ (千克) $3\times 3=9$ (千克)

3. 答案不唯一 松树有多少棵? $42+36=78$ (棵)

$78\div 2=39$ (棵) $39+3=42$ (棵)

六、1. $18+26=44$ (下) $44\times 2=88$ (下)

$88-54=34$ (下)

2. $96\div 8=12$ (元) $12-3=9$ (元)

3. $118-2=116$ (千克) $116\div 2=58$ (千克) $58+2=60$ (千克)

4. $25\times 3=75$ (筐) $75-10=65$ (筐)

5. $12+10=22$ (元) $22\times 2-2=42$ (元)

6. $800\div 2=400$ (克) $400\div 2=200$ (克) $200+50=250$ (克)

7. $25+35=60$ (人) $60-45=15$ (人)

