



期中检测卷

一、填一填。(每空 1 分, 共 29 分)

1. 厘米是测量()的单位, 用字母()表示。
2. 直尺上从 0 到 6 是()厘米, 从 8 到 12 是()厘米。
3. 一个四位数的最高位是()位, 678 是()位数。
4. 由 5 个百和 3 个十组成的数是()。
5. 计数器上百位的右边是()位, 左边是()位。
6. $28 \div 5 = () \cdots ()$, 读作: ()。
7. 14 里面最多有()个 6。
8. 一个数除以 7, 余数可能是()。
9. 长方形的对边(), 正方形()边都相等。
10. 平行四边形的()组对边相等。
11. 在括号里填上合适的单位。




一座楼高约
10 ()



一片树叶
长约 5 ()



一个鸡蛋
约重 60 ()



一个文具盒
长约 2 ()



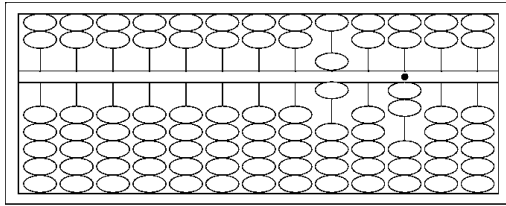
一只狗
重 10 ()



美美身高 1 ()
20 ()
体重 24 ()

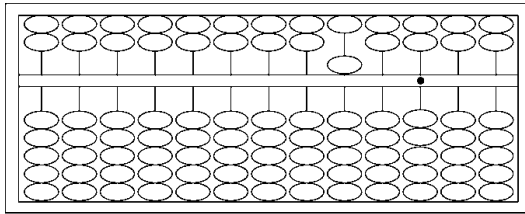
12. 写出算盘上表示的数, 并读出来。





写作：_____

读作：_____



写作：_____

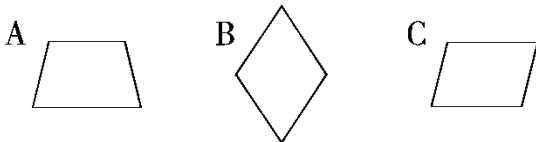
读作：_____

二、判断。(每题 2 分，共 10 分)

1. 一条裤子长 7 米。 ()
2. 在一道除法算式中，商不能和余数相等。 ()
3. 四位数一定比三位数大。 ()
4. 1 千克报纸比 1 千克石头轻。 ()
5. 由四条边围成的图形不是长方形就是正方形。 ()

三、选一选。(每题 2 分，共 10 分)

1. 商和余数都相等的算式是()。
A. $24 \div 7$ B. $17 \div 5$ C. $16 \div 6$
2. 大约 6 分米长的是()。
A. 橡皮的长 B. 小华的一拃长 C. 课桌的高
3. 下面的三位数中最大的是()。
A. 100 B. 909 C. 990
4. 用天平测量物品的质量时，低的一端的物品()。
A. 重 B. 轻 C. 不确定
5. 下列图形不是平行四边形的是()。



四、在○里填上“>”“<”或“=”。(6 分)

1 米○30 厘米

2 米○200 厘米

1 分米○12 厘米

6 千克○500 克





9000 克 ○ 9 千克

8 千克 ○ 70 克 + 70 克

五、我会按要求排一排。(每题 4 分, 共 12 分)

1. 从大到小排列。

1000 360 630 589 985

() > () > () > () > ()

2. 从短到长排列。

30 分米 39 厘米 4 米 3 米 2 分米 100 厘米

() < () < () < () < ()

3. 从重到轻排列。

2 千克 150 克 900 克 1 千克 500 克

() > () > () > ()

六、列竖式计算。(12 分)

$$38 \div 8 =$$

$$65 \div 7 =$$


$$56 \div 9 =$$

$$23 \div 5 =$$

七、画一画。(每题 3 分, 共 6 分)

1. 画一条比 4 厘米短 1 厘米的线段。

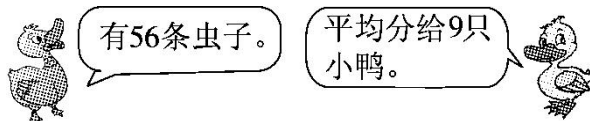
2. 在方格纸上画一个平行四边形。





八、解决问题。(每题 5 分，共 15 分)

1. 每只小鸭分几条虫子？还剩几条虫子？



2. 兔妈妈买回 32 棵白菜，送给山羊伯伯 8 棵，剩下的平均分给 8 只小兔，每只小兔分几棵？

3. 一个三位数是由三个连续的数字组成的，各个数位上的数字和是 15，这个三位数可能是多少？





答案

- 一、1. 长度 cm 2. 6 4
3. 千 三 4. 530 5. 十 千
6. 5 3 28 除以 5 商 5 余 3
7. 2 8. 1、2、3、4、5、6
9. 相等 4 条 10. 2
11. 米 厘米 克 分米 千克 米 厘米 千克
12. 602 六百零二 500 五百

二、1. × 2. × 3. √ 4. × 5. ×

三、1. A 2. C 3. C 4. A 5. A

四、> = < > = >

- 五、1. $1000 > 985 > 630 > 589 > 360$
2. 39 厘米 < 100 厘米 < 30 分米 < 3 米 2 分米 < 4 米
3. 2 千克 > 1 千克 500 克 > 900 克 > 150 克

六、 $38 \div 8 = 4 \cdots 6$

$$\begin{array}{r} 4 \\ 8 \overline{) 38} \\ \underline{32} \\ 6 \end{array}$$

$65 \div 7 = 9 \cdots 2$

$$\begin{array}{r} 9 \\ 7 \overline{) 65} \\ \underline{63} \\ 2 \end{array}$$

$56 \div 9 = 6 \cdots 2$

$$\begin{array}{r} 6 \\ 9 \overline{) 56} \\ \underline{54} \\ 2 \end{array}$$

$23 \div 5 = 4 \cdots 3$

$$\begin{array}{r} 4 \\ 5 \overline{) 23} \\ \underline{20} \\ 3 \end{array}$$

七、略

八、1. $56 \div 9 = 6(\text{条}) \cdots 2(\text{条})$

每只小鸭分 6 条虫子, 还剩 2 条虫子。

2. $32 - 8 = 24(\text{棵})$ $24 \div 8 = 3(\text{棵})$

3. 456, 564, 465, 546, 645, 654

