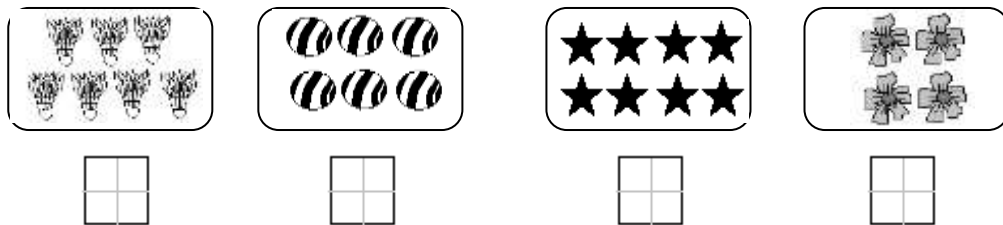




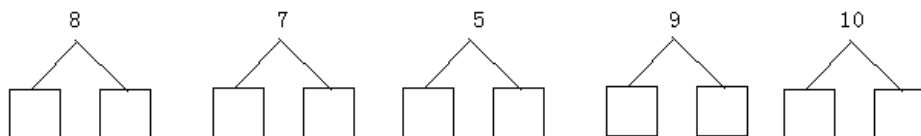
西师大版一上数学期中测试卷 (1)

一、填一填。(18分)

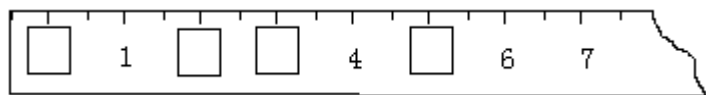
1、看图写数。



2、





3、



二、涂一涂，填一填。(12分)



- (1) 一共有 () 只动物。
- (2) 从左数， 排第 ()。从右数， 排第 ()。
- (3) 从左数，给第 5 只小动物涂上颜色。
- (4) 请把右边的 5 只小动物圈起来。

三、计算。(14分)

1、在括号里填上合适的数。

() - 3 = 1 5 - () = 4 () + 4 = 7 6 + () = 6

2、在○里填上“>”、“<”或“=”。

4 - 3 ○ 4 5 + 0 ○ 5 - 0 2 + 7 ○ 7 + 3 9 - 4 ○ 10 - 5

3、按顺序填数。

10		8	7			4			1	
----	--	---	---	--	--	---	--	--	---	--





4、算一算。(12分)

$9 - 4 =$ $7 + 2 =$ $5 + 0 =$ $10 - 2 =$
 $3 - 0 =$ $8 - 2 =$ $6 - 2 =$ $3 + 4 =$
 $7 + 3 =$ $3 + 5 =$ $4 + 6 =$ $9 - 3 =$

四、画一画，填一填。(9分)

○ ○ ○

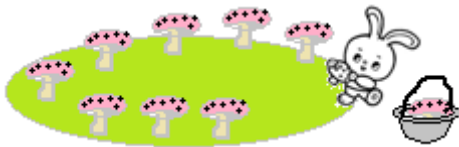
- 画△比○多4个：_____
- 画△比○少2个：_____
- 画△和○同样多：_____

五、看图写出两道加法式两道减法算式。(8分)

$\square \bigcirc \square = \square$ $\square \bigcirc \square = \square$
 $\square \bigcirc \square = \square$ $\square \bigcirc \square = \square$

六、看图写算式，并计算。(27分)

1、



- 原来有()个
- 小兔搬走()个。
- 还剩()个。

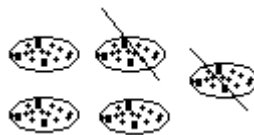
$\square \bigcirc \square = \square$ (个)

2、



$\square \bigcirc \square = \square$

3、



$\square \bigcirc \square = \square$

4、



$5 - \square = \square$

5、



$\square - \square = \square$



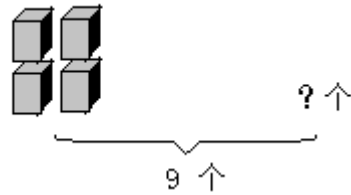


6、



$$\square \bigcirc \square = \square$$

7、



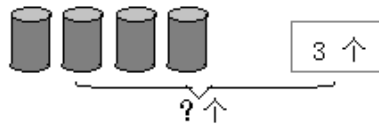
$$\square \bigcirc \square = \square$$

8、



$$9 \bigcirc \square \bigcirc \square = \square$$

9、



$$\square \bigcirc \square = \square$$

七、解决问题。(12分)

1、同学们排队做操，小明前面有5人，后面有2人，这一队一共多少人？

$$\square \bigcirc \square \bigcirc \square = \square \quad (\text{人})$$

2、妈妈买回10个苹果，第一天吃了3个，第二天吃了4个，还剩多少个？

$$\square \bigcirc \square \bigcirc \square = \square \quad (\text{个})$$

3、小明8元去商店购物。铅笔6元钱一支，文具盒4元钱一个，小明要买这两样物品，他带的钱够不够？（先计算，再在正确答案的□里答“√”）

$$\square \bigcirc \square = \square \quad \text{够} \square \quad \text{不够} \square$$





参考答案

一、填一填。

1、看图写数。7, 6, 8, 4;

2、6, 2; 3, 4; 2, 3; 4, 5; 5, 5;

3、0, 2, 3, 5;

二、涂一涂，填一填。(1) 7, (2) 3, 5; (3) 略, (4) 略

三、计算。

1、4, 1, 3, 0;

2、<, =, <, =;

3、9, 6, 5, 3, 2, 0;

4、5, 9, 5, 8, 3, 6, 4, 7, 10, 8, 10, 7;

四、画一画，填一填。1、 $\triangle\triangle\triangle\triangle\triangle$; 2、 \triangle ; 3、 $\triangle\triangle\triangle$;

五、看图写算式。

1、10, 2, 8, $10 - 2 = 8$ (个) 2、 $3+1=4$, 3、 $5 - 2=3$

4、 $5 - 1 = 4$, 5、 $8 - 5 = 3$, 6、 $2+2=4$, 7、 $9 - 4 = 5$

8、 $9 - 3 - 4 = 2$, 9、 $4 + 3 = 7$

六、解决问题。

1、 $5+2 + 1=8$ (人)

2、 $10 - 3 - 4 = 3$ (个)

3、 $6+4=10$ (元) 8元<10元。不够√。

