




### 第4单元跟踪检测卷

一、填一填。(每空1分, 共23分)

1. 被除数和除数都是8, 商是( ), 算式是( )。

2. 64 里面有( )个8, ( )里面有3个9。

3.



刺猬想6次运完, 那么它平均每次运( )个。



36个车轮, 可以装( )辆车。

4.  $72 \div 9 = ( )$ , 用的口诀是( ), 同样用这句口诀的另一道除法算式是( )。

5. 右图中一共有( )架飞机, 列式计算是( ); 每6架飞机一组, 可分成( )组, 列式计算是( )。



6. 一个星期有7天, ( )个星期有56天, 49天是( )个星期。

7. 63个珠子, 穿成7串, 平均每串穿( )个; 如果每串穿7个珠子, 可以穿成( )串。

8. 在○里填上“>”“<”或“=”。

$40 \div 5 \bigcirc 28 \div 7$

$18 \div 9 \bigcirc 12 \div 3$

$42 - 7 \bigcirc 42 + 7$

$36 \div 4 \bigcirc 35 \div 7$

$48 \div 6 \bigcirc 63 \div 7$

$50 - 15 \bigcirc 5 \times 7$

二、辨一辨。(对的画“√”, 错的画“×”)(每题1分, 共5分)





1. 8 个 4 是多少, 列式为  $8 \div 4 = 2$ 。 ( )
2. “ $54 \div 6 = 9$ ”读作 54 除以 9 等于 6。 ( )
3.  $54 \div 6 = 9$  和  $54 \div 9 = 6$  表示的意义是一样的。 ( )
4. 在除法算式中, 被除数是最大的。 ( )
5. 40 里面有 5 个 8, 也有 8 个 5。 ( )


三、选一选。(把正确答案的序号填在括号里)(每题 2 分, 共 10 分)

1. 下列算式中, 商最大的算式是( )。  
①  $16 \div 2$                       ②  $30 \div 5$                       ③  $81 \div 9$
2. 得数不是 9 的算式是( )。  
①  $9 \times 1$                       ②  $9 + 1$                       ③  $9 \div 1$
3. 根据“九九八十一”这句口诀可以写( )道除法算式。  
① 2                              ② 4                              ③ 1
4. 除数和商都是 9, 被除数是( )。  
① 1                              ② 18                              ③ 81
5. 32 个苹果平均分给( )个小朋友, 刚好可以分完。  
① 8                              ② 5                              ③ 6

四、计算挑战。(共 33 分)

1. 看谁算得又对又快。(每题 1 分, 共 12 分)

$72 \div 8 =$	$6 \times 8 =$	$45 - 5 =$	$64 + 8 =$
$56 \div 7 =$	$54 \div 6 =$	$70 - 15 =$	$7 + 5 =$
$48 - 8 =$	$63 \div 7 =$	$8 \times 2 =$	$49 \div 7 =$

2.  遮住的数是几? (每题 2 分, 共 8 分)





$7 \times \text{☁} = 28$

$\text{☁} \div 9 = 9$

$\text{☁} \div \text{☁} = 7$

$45 \div \text{☁} = 9$

3. 在○里填上“+”“-”“×”或“÷”。(每题 1 分, 共 8 分)

$27 \bigcirc 3 = 24$

$42 = 6 \bigcirc 7$

$8 \bigcirc 8 = 1$

$40 \bigcirc 5 = 45$

$27 \bigcirc 9 = 3$


$36 = 6 \bigcirc 6$


$56 \bigcirc 7 = 8$

$4 \bigcirc 8 = 12$


4. 将下列算式填在合适的( )里。(5 分)

  
 $42 \div 7$

  
 $36 \div 4$

  
 $45 \div 9$

  
 $72 \div 9$


  
 $35 \div 5$

( ) > ( ) > ( ) > ( ) > ( )

五、走进生活，解决问题。(3 题 5 分, 其余每题 6 分, 共 29 分)

1. 36 人玩老鹰捉小鸡的游戏。

(1) 按右图所示分组，可以分成几组？



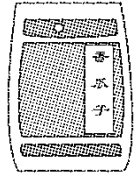
(2) 如果平均分成 6 组，每组有几人？

2. 国庆节，超市开展了促销活动。香瓜子现在每袋多少元？现在每袋比原来便宜多少元？






香瓜子原来10元一袋，现在优惠啦！  
4袋36元。



3. 做一件花标本需要6朵花，做一件树叶标本需要8片树叶。



42朵

这些花能做几件标本？



56片

这些树叶能做几件标本？

4.



A套餐6元  
B套餐8元

(1) 妈妈买了4份A套餐，一共花了多少钱？

(2) 如果用这些钱买B套餐，能买几份？





5. 逛超市。



6元



? 元



? 元



36元

(1) 买一件上衣的钱可以买 8 条围巾，一件上衣多少钱？

(2) 买一双鞋的钱可以买 9 支牙膏，一支牙膏多少钱？

(3) 你还能提出其他用乘法或除法解决的问题并解答吗？





## 答案

一、1. 1  $8 \div 8 = 1$  2.8 27 3.8 9

4. 8 八九七十二  $72 \div 8 = 9$

5. 36  $9 \times 4 = 36$ (架)

6  $36 \div 6 = 6$ (组) [点拨]注意带上单位。

6. 8 7 7.9 9

8.  $>$   $<$   $<$   $>$   $<$   $=$

二、1. $\times$  2. $\times$  3. $\times$  4. $\times$  5. $\sqrt$

三、1.③ 2.② 3.③ 4.③ 5.①

四、1.9 48 40 72 8 9 55 12 40 9 16 7

2. 4 81 14 2 5(第3道题答案不唯一)

3.  $-$   $\times$   $\div$   $+$   $\div$   $\times$   $\div$   $+$

4.  $36 \div 4$   $72 \div 9$   $35 \div 5$   $42 \div 7$   $45 \div 9$

五、1.(1) $36 \div 9 = 4$ (组)

口答: 可以分成4组。

(2) $36 \div 6 = 6$ (人)

口答: 每组有6人。

2.  $36 \div 4 = 9$ (元)  $10 - 9 = 1$ (元)

口答: 香瓜子现在每袋9元, 现在每袋比原来便宜1元。

3.  $42 \div 6 = 7$ (件)  $56 \div 8 = 7$ (件)

口答: 这些花能做7件标本, 这些树叶能做7件标本。

4. (1) $4 \times 6 = 24$ (元)





口答：一共花了 24 元钱。

$$(2) 24 \div 8 = 3(\text{份})$$

口答：能买 3 份。

5. (1)  $6 \times 8 = 48(\text{元})$

口答：一件上衣 48 元钱。

$$(2) 36 \div 9 = 4(\text{元})$$

口答：一支牙膏 4 元钱。

(3) 买一双鞋的钱可以买多少条围巾？

$$36 \div 6 = 6(\text{条})$$

口答：可以买 6 条围巾。

[点拨]题目是要求提出用乘法或除法解决的问题，而不能提出用加法或减法解决的问题。此问答案不唯一。

