



教材过关卷 (5)加与减

一、填一填。(5题5分, 其余每空2分, 共37分)

1. 笔算加减法时, 要把()对齐, 从()算起。
2. 加法可以用()法或()法来验算。
3. 两个三位数相加, 它们的和可能是()位数, 也可能是()位数。
4. 甲数是487, 乙数是136, 甲乙两数的和是(); 甲数减少()就和乙数同样大。
5. 画一画, 填一填。

$479+99=$ <input type="text"/>	$543-169=$ <input type="text"/>
$\begin{array}{r} 479 \\ \hline \end{array}$	$\begin{array}{r} 543 \\ \hline \end{array}$

6. 不计算, 在 里填上“>”“<”或“=”。
 $532-156$ $532-165$ $135+678$ $153+678$
 $800-589$ $860-589$ $257+671$ $671+257$
7. 把这些算式按得数的大小, 从大到小排成一行。

$400+333$ $245+255$ $917-356$ $236+666$

_____ > _____ > _____ > _____

二、算一算。(1题12分, 2题15分, 共27分)

1. 计算并验算。

$256+388=$

$900-327=$





2. 小蜻蜓找家。



三、解决问题。(每题 12 分，共 36 分)


1. 天乐水果店二月份进了 108 箱苹果，根据每年的经验，三月份要比二月份少进 19 箱苹果。

(1)三月份要进多少箱苹果？

(2)两个月一共进多少箱苹果？

2. 实验小学一、二年级的学生去参观博物馆。一年级来了 379 人，二年级来了 305 人。

(1)估一估，能全部进入馆内吗？

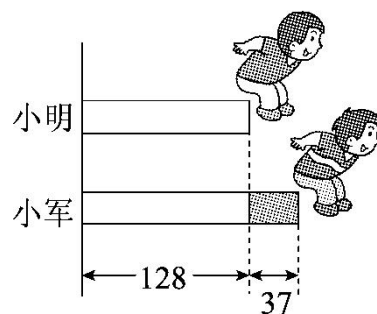


(2)算一算，去参观博物馆的学生一共有多少人？





3. 下图是小明和小军立定跳远的成绩。看图，提出问题并解答。(单位：厘米)



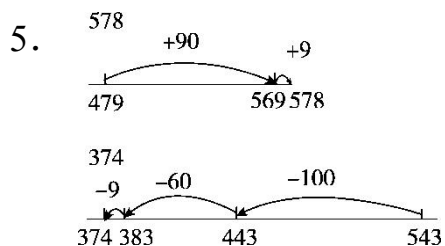


答案

一、1. 相同数位 个位

2. 加 减 3. 三 四

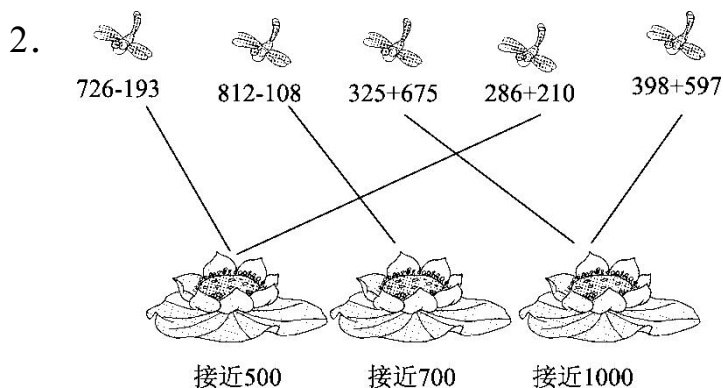
4. 623 351



6. > < < =

7. $236+666>400+333>917-356>245+255$

二、1. 644 573 验算略。



三、1. (1) $108-19=89$ (箱)

答：三月份要进 89 箱苹果。

(2) $108+89=197$ (箱)

答：两个月一共要进 197 箱苹果。

2. (1)把 379 看成 380，把 305 看成 310

$$380+310=690(\text{人}) \quad 690<700$$

答：能全部进入馆内。





$$(2)379+305=684(\text{人})$$

答：一共有 684 名学生去参观博物馆。

3. 小军跳了多少厘米？

$$128+37=165(\text{厘米})$$

答：小军跳了 165 厘米。

(答案不唯一)

