



第一单元过关检测卷

一、算一算。(共 39 分)

1. 直接写出结果。(9 分)

$35+6=$

$30+56=$

$78-7=$

$23+25=$

$54+18=$

$90-39=$

$48+20-7=$

$29-20+7=$

$6+30+34=$

2. 连一连。(4 分)



$17+64-50$



$56-9-15$



$47-20-15$



$5+55+30$



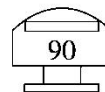
32



12

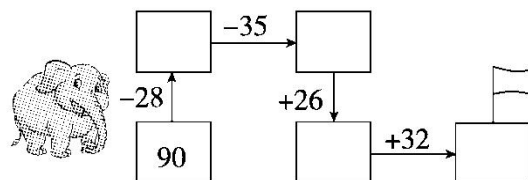
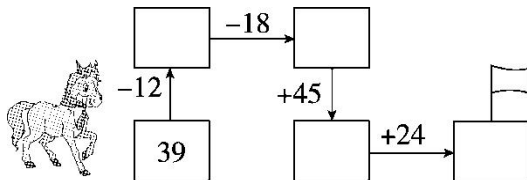


31



90

3. 夺小旗。(8 分)



4. 用竖式计算。(18 分)

$45+28+27=$

$80-28-34=$

$96-47+29=$

$68+28-57=$

$93-27-35=$

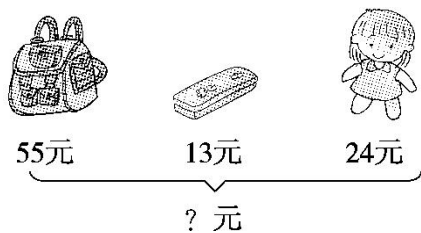
$6+78-48=$





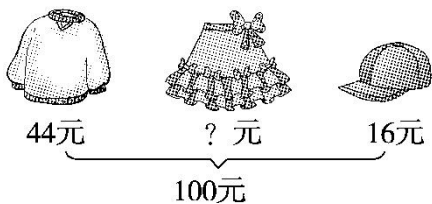
二、看图列式计算。(每题3分，共6分)

1.



$$\square \bigcirc \square \bigcirc \square = \square \quad (\quad)$$

2.




$$\square \bigcirc \square \bigcirc \square = \square \quad (\quad)$$

三、填一填。(每空3分，共9分)

	原有	上午卖出	下午卖出	还剩
	50个	18个	23个	()个
	()个	24个	22个	8个
	64个	29个	()个	16个

四、解决问题。(第1题5分，第3题9分，第4题8分，第6题12分，其余每题6分，共46分)

1. 体育室还剩多少个篮球?





2.

我有52张画片。



明明

我的画片比明明少13张。



红红

我的画片比红红多18张。



军军


(1)红红有多少张画片？

(2)军军有多少张画片？

3. 用 100 元购物。



15元



18元



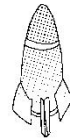
50元



35元



53元







29元

(1)你想买上面哪两样物品？还剩多少元？

(2)买哪几样物品的钱正好是 100 元？


(3)买哪两样物品剩下的钱最多？剩下多少元？

4. 摘苹果。

			
33 个	22 个	45 个	? 个






(1) 、和一共摘了多少个苹果？

(2) 摘的苹果比和摘苹果的总数少 20 个。摘了多少个苹果？

5. 英才小学二年级学生参加部分体育活动的人数如下。

游泳	跳绳	跑步	合计
36 人	24 人		86 人

(1)参加跑步的有多少人？

(2)参加跳高的人数比参加游泳和跳绳的总人数少 18 人。参加跳高的有多少人？





6.

姓名	第一次	第二次	第三次	总成绩
小明	38 下	34 下		98 下
小红	25 下	36 下		92 下
小云	28 下	39 下		



小明



小红



小云

(1)小明第三次踢了多少下？

(2)小红第三次踢了多少下？

(3)小云是第二名，她的总成绩可能是多少下？她第三次可能踢了多少下？

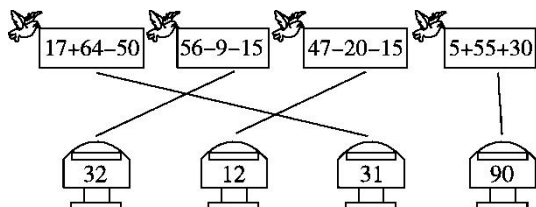




答案

一、1.41 86 71 48 72 51 61 16 70

2.



3.27 9 54 78 62 27 53 85

4.

$$45+28+27=100$$

$$\begin{array}{r} 45 \\ 28 \\ + 27 \\ \hline 100 \end{array}$$

$$80-28-34=18$$

$$\begin{array}{r} 80 \\ - 28 \\ \hline 52 \\ - 34 \\ \hline 18 \end{array}$$

$$96-47+29=78$$

$$\begin{array}{r} 96 \\ - 47 \\ \hline 49 \\ + 29 \\ \hline 78 \end{array}$$

$$68+28-57=39$$

$$\begin{array}{r} 68 \\ + 28 \\ \hline 96 \\ - 57 \\ \hline 39 \end{array}$$

$$93-27-35=31$$

$$\begin{array}{r} 93 \\ - 27 \\ \hline 66 \\ - 35 \\ \hline 31 \end{array}$$

$$6+78-48=36$$

$$\begin{array}{r} 6 \\ + 78 \\ \hline 84 \\ - 48 \\ \hline 36 \end{array}$$

二、1.55+13+24=92(元)

2.100-44-16=40(元)

三、9 54 19

四、1.80-12-18=50(个)

2.(1)52-13=39(张) (2)39+18=57(张)





3.(1)(答案不唯一)

我想买巧克力和玩具熊。 $18+53=71$ (元)

$$100-71=29$$
(元)

(2)(答案不唯一) $15+50+35=100$ (元)

买皮球、玩具汽车、玩具飞机的钱正好是 100 元。

(3) $15+18=33$ (元) $100-33=67$ (元)

买皮球和巧克力剩下的钱最多; 剩下 67 元。

4.(1) $33+22+45=100$ (个)

(2) $33+45-20=58$ (个)

5.(1) $86-36-24=26$ (人)

(2) $36+24-18=42$ (人)

6.(1) $98-38-34=26$ (下)

(2) $92-25-36=31$ (下)

(3)略

