



### 无锡市名校期末测试卷

#### 一、填一填。(每空 1 分, 共 23 分)

1. ( )个十和( )个一组成 78, 8 个十和( )个十合起来是一百。

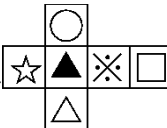
2. 66 是( )位数, 左边的 6 表示( )个( )。

3. 25 连续加 8, 写出每次的和。

25 33 ( ) ( ) ( )

4. 8 元=( )角                      99 角=( )元( )角

6 角=( )分                      7 元 8 角+2 角=( )元

5. 把  折成一个正方体,  $\triangle$  的对面是( )。

6. 把 9 角、50 元、9 元、1 元、50 角按从大到小的顺序排列是:

( ) > ( ) > ( ) > ( ) > ( )

7. 在 5、47、100 和 59 中, 和 50 最接近的是( ), ( )

比 50 小得多, ( )比 50 大得多。



#### 二、辨一辨。(对的画“√”, 错的画“×”)(每题 1 分, 共 5 分)

1. 最大的两位数比最小的三位数少 1。 ( )

2. 26 比 62 少得多, 54 比 50 多一些。 ( )

3. 减数一定比被减数小。 ( )

4. 一个一个地数, 从 43 数到 50, 一共数了 7 个数。 ( )

5. 一张  可以换 4 张 。 ( )





三、选一选。(把正确答案的序号填在括号里)(每题 2 分, 共 10 分)

1. 下面的物品中, ( ) 最贵。



2. 46 50 54 58 □ 66 70, □ 里应填( )。

- ① 60                      ② 62                      ③ 64

3. 下面的图形能拼成正方形的是( )。



4. 用 3 个● 在：

十位	个位

中能摆( )个不同的数。

- ① 3                      ② 4                      ③ 5

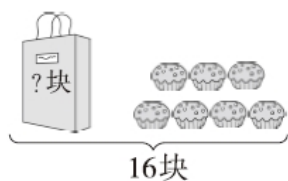
5. 下面各数中, 与 90 最接近的是( )。

- ① 86                      ② 89                      ③ 92

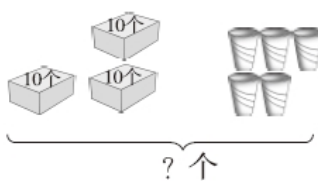
四、计算挑战, 看谁算得又对又快。(每题 1 分, 共 12 分)

$40 + 30 =$	$26 + 50 =$	$58 - 8 + 45 =$
$85 - 50 =$	$98 - 6 =$	$34 + (19 - 9) =$
$41 - 7 =$	$5 + 60 =$	$80 - (46 - 6) =$
$53 - 9 =$	$92 + 8 =$	$57 + 8 - 6 =$

五、看图列式计算。(每题 3 分, 共 6 分)



$\square \bigcirc \square = \square$  ( )







$\square \bigcirc \square = \square$  ( )





六、我会分析表格。(每空 2 分，共 8 分)

				
原有	42 辆	( ) 艘	65 架	( ) 只
卖出	20 辆	45 艘	( ) 架	25 只
剩下	( ) 辆	8 艘	10 架	20 只

七、走进生活，解决问题。(5 题 12 分，其余每题 6 分，共 36 分)

1. 兰兰和她的两个好朋友一起去植物园，门票 6 元一张。她们买门票要花多少钱？

2.



- (1) 小明和小刚一共买了多少瓶？

- (2) 小芳比小明少买了多少瓶？

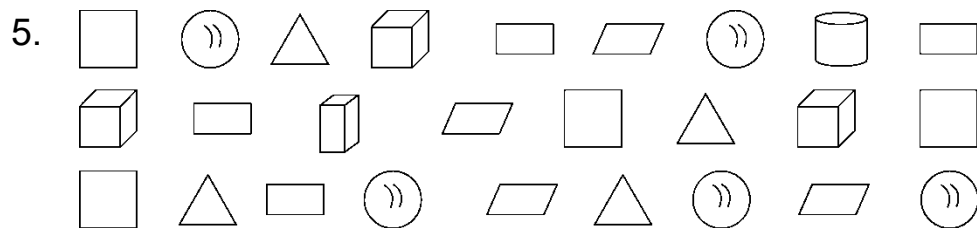




(3) 再提一个数学问题并解答。
































































3. 学校体育室有 26 个足球和 18 个篮球，分给二年级 9 个足球。体育室还有多少个足球？

4. 两个房间一共铺了 45 块红色瓷砖，小房间铺了 20 块。大房间铺了几块？





(1) 按形状分一分，涂一涂，再填一填每种图形各有几个。

									□ ( ) 个
									△ ( ) 个
									□ ( ) 个
									▱ ( ) 个
									◻ ( ) 个
									◻ ( ) 个
									⊙ ( ) 个

(2) 如果把这些图形分成两组，可以怎样分？把分组的结果表示出来。

个数		

(3) 请你提出一个数学问题并解答。





## 答案

一、1. 7 8 2

2. 两 6 十

3. 41 49 57

4. 80 9 9 60 8

5. ○

6. 50元 9元 50角 1元 9角

7. 47 5 100

二、1.√ 2.√ 3.× 4.× 5.√

三、1.② 2.② 3.③ 4.② 5.②

四、70 76 95 35 92 44 34 65 40 44 100 59

五、 $16-7=9$ (块)  $30+5=35$ (个)

六、22 53 55 45

七、1.  $6+6+6=18$ (元)

口答: 她们买门票要花 18 元钱。

[点拨] “兰兰和她的两个好朋友”一共是三人。

2. (1)  $21+13=34$ (瓶)

口答: 小明和小刚一共买了 34 瓶。

(2)  $13-9=4$ (瓶)

口答: 小芳比小明少买了 4 瓶。

(3) 三人一共买了多少瓶?

$9+13+21=43$ (瓶)





口答：三人一共买了 43 瓶。

[点拨] 答案不唯一。

3.  $26 - 9 = 17$ (个)

口答：体育室还有 17 个足球。

4.  $45 - 20 = 25$ (块)

口答：大房间铺了 25 块。

5. (1)

4   4   4   4   3   1   1   5

(2)

	平面图形	立体图形
个数	16	10

(3) 正方形和长方形一共有多少个？

$4 + 4 = 8$ (个)

口答：正方形和长方形一共有 8 个。(答案不唯一)

[点拨] 数图形时千万别数错。

