



### 期末测试卷

#### 一、填一填。(每空 1 分，共 25 分)

1. 按规律填数。

(1) 

31		35	37	
----	--	----	----	--

48		44		40
----	--	----	--	----

(2) 

	20	
13		7

	52	
46		6

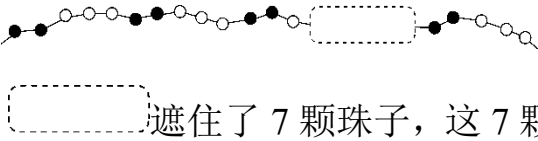
32		8

	51	
		9

2. 53 里面有( )个十和( )个一；4 个一和 6 个十组成( )。
3. 一个正方形对折 1 次可以剪成( )个同样的三角形，或剪成( )个同样的长方形。
4. 最大的两位数是( )，最小的三位数是( )，它们相差( )。
5. 99 前面一个数是( )，后面一个数是( )。
6. 一个两位数，十位是 5，个位是 9，这个数是( )，读作( )。

7. 一张  可以换( )张  和( )张 .

8. 7 元 6 角 = ( ) 角      68 分 = ( ) 角 ( ) 分

9.  遮住了 7 颗珠子，这 7 颗珠子中有( )颗●，( )颗○。

#### 二、辨一辨。(对的画“√”，错的画“×”)(每题 2 分，共 10 分)

1. 分类的标准不同，分类的结果可能不同。( )
2. 从 60 开始往后数第 4 个数是 64。( )
3. 两个三角形一定能拼成一个平行四边形。( )
4. 人民币单位之间的进率都是 10。( )





5.  $35-7-8$  与  $35-(7+8)$  的结果相等。 ( )


三、选一选。(把正确答案的序号填在括号里)(每题 2 分，共 10 分)

1. 和 79 相邻的两个数是( )。


- ① 80 和 81                      ② 78 和 79                      ③ 78 和 80



2. 下面各数中，与 60 最接近的数是( )。

- ① 58                                  ② 65                                  ③ 70

3.  46 元，想买一个 ，可以带( )。

- ① 3 张       ② 5 张       ③ 2 张 


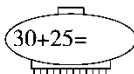
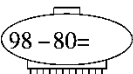
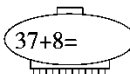
4.  的底面是( )。

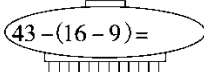
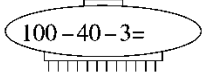
- ①                       ②                       ③ 


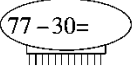
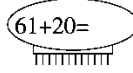
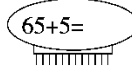
5. 下面的算式中，得数最小的是( )。

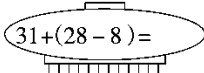
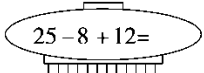
- ①  $12-9$                               ②  $15-7$                               ③  $79-70$

四、计算挑战。(每题 1 分，共 10 分)

   $30+25=$                         $98-80=$                         $37+8=$

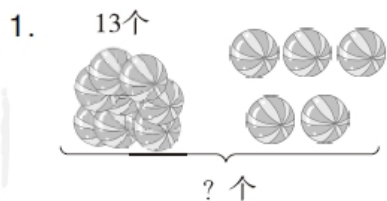
  $43-(16-9)=$                         $100-40-3=$

   $77-30=$                         $61+20=$                         $65+5=$

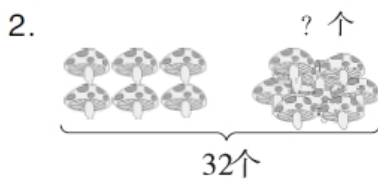
  $31+(28-8)=$                         $25-8+12=$

五、看图列式计算。(每题 3 分，共 6 分)



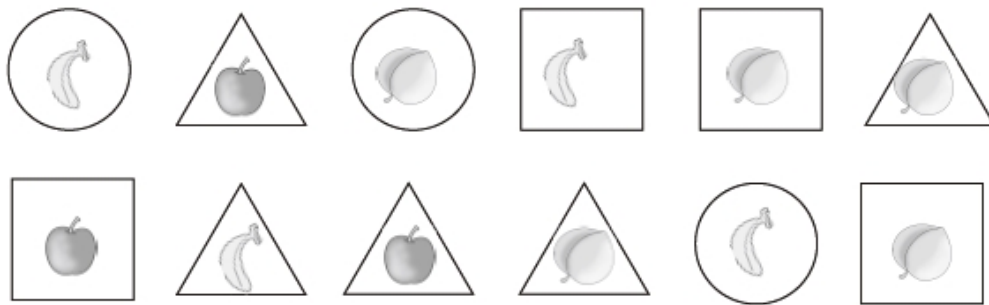


$$\square \bigcirc \square = \square \quad (\quad)$$



$$\square \bigcirc \square = \square \quad (\quad)$$

六、我会分类与整理。(每题 5 分, 共 10 分)



1. 按卡片的形状来分。

	正方形	三角形	圆
张数			

2. 按水果的种类来分。

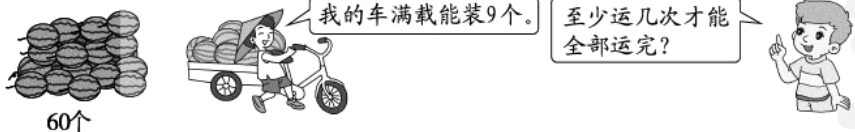
	苹果	桃	香蕉
个数			

七、走进生活, 解决问题。(1 题 5 分, 其余每题 6 分, 共 29 分)

1. 借走了多少本书?



2.





3. 妈妈有 17 个网球，3 个筒够装吗？



4.



(1) 红红和冬冬一共跳了多少下？

(2) 文文比冬冬多跳了多少下？

5.



面包2元



蛋糕4元5角



汉堡8元



鸡腿6元

(1)  比  便宜( )元( )角。

(2) 买两样东西，至少要花( )元( )角。

(3) 兰兰用 10 元钱正好买了两样东西，她买了( )和





( )。

(4) 你还能提出什么问题？并解答。





## 答案

一、1.(1) 33 39 46 42 (2) 40 42

2. 5 3 64

3. 2 2

4. 99 100 1

5. 98 100

6. 59 五十九

7. 2 2 [点拨] 还可以换 1 张 20 元和 6 张 5 元。

8. 76 6 8

9. 2 5

二、1.  $\checkmark$  2.  $\times$  3.  $\times$  4.  $\times$  5.  $\checkmark$

三、1. ③ 2. ① 3. ② 4. ③ 5. ①

四、55 18 45 36 57 47 81 70 51 29

五、1.  $13+5=18$ (个)

2.  $32-6=26$ (个)

六、1.

	正方形	三角形	圆
张数	4	5	3

2.

	苹果	桃	香蕉
个数	3	5	4





七、1.  $86-40=46$ (本)

口答: 借走了 46 本书。

2.  $60-9-9-9-9-9-9-9=6$ (个)

$6+1=7$ (次)

口答: 至少运 7 次才能全部运完。

3.  $5+5+5=15$ (个)

$15 < 17$

口答: 3 个筒不够装。

[点拨] 每筒装 5 个网球, 3 个筒就是 3 个 5 相加。

4. (1)  $20+9=29$ (下)

口答: 红红和冬冬一共跳了 29 下。

(2)  $30-9=21$ (下)

口答: 文文比冬冬多跳了 21 下。

5. (1) 2 5 (2) 6 5

(3) 面包 汉堡

(4) 用 15 元购买一个汉堡和一个鸡腿, 够吗?

$8\text{元}+6\text{元}=14\text{元}$   $14\text{元} < 15\text{元}$

口答: 够。

[点拨] 答案不唯一。

