



第2单元过关检测卷

一、 填空。(每空1分, 共15分)

1. 用三六十八这句口诀计算的除法算式有()和()。
2. 30里面有()个5, ()里面有4个3。
3. 把24朵花每6朵插一个花瓶, 可以插()个花瓶, 列算式是(), 读作()。
4. 计算 $20 \div 5$ 时想口诀(), 商是()。
5. 15个●, 每3个一份, 可以分成()份。
6. 20个■, 平均分成5份, 每份()个。
7. 从12里连续减()个3, 结果是0。
8. 一共()个苹果, 每()个一份, 可以分()份。



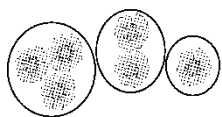
二、 我是小法官。(对的画“√”, 错的画“×”)(每题1分, 共5分)

1. 16块饼干装4袋, 每袋装4块。 ()
2. $8 \div 2 = 4$ 被除数是8, 除数是4, 商是2。 ()
3. 12颗糖, 每人分3颗, 可以分给4个人。 ()
4. 计算 2×6 和 $12 \div 3$ 用的是同一句口诀。 ()
5. 商一定比被除数小。 ()

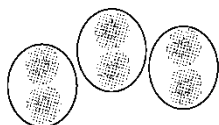
三、 选一选。(每题2分, 共10分)

1. 把6朵花平均分给3个小朋友。哪种分法对? ()。

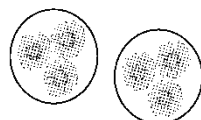




A



B



C

2. 12 里面有 6 个()。
- A. 4 B. 3 C. 2
3. 下面的算式中商是 1 的是()。
- A. $8 \div 2$ B. $4 \div 4$ C. $9 \div 3$
4. 下列算式中商最大的是()。
- A. $10 \div 5$ B. $36 \div 6$ C. $9 \div 3$
5. 用六六三十六这句口诀计算的除法算式是()。
- A. 6×6 B. $18 \div 6$ C. $36 \div 6$

四、我会算。(26 分)

1. 直接写得数。(每题 0.5 分, 共 6 分)

$12 \div 3 =$ $4 \times 5 =$ $30 \div 6 =$ $15 \div 5 =$

$30 + 5 =$ $56 - 7 =$ $6 \times 2 =$ $8 \div 4 =$

$25 - 5 =$ $5 \times 7 =$ $5 \times 6 =$ $5 \div 5 =$

2. 在 \bigcirc 里填上“ $>$ ”“ $<$ ”或“ $=$ ”。(每题 1 分, 共 8 分)

$24 \div 6 \bigcirc 5$ $10 \bigcirc 18 \div 3$ $3 \times 4 \bigcirc 12$ $9 \div 9 \bigcirc 1 \times 1$

$15 \div 3 \bigcirc 4$ $8 \bigcirc 12 \div 4$ $6 \div 6 \bigcirc 2$ $20 \div 5 \bigcirc 16 \div 4$

3. 在 \bigcirc 里填上适当的运算符号。(每题 1 分, 共 6 分)

$4 \bigcirc 4 = 16$ $4 \bigcirc 2 = 6$ $9 \bigcirc 3 = 3$

$15 \bigcirc 3 = 5$ $25 \bigcirc 5 = 30$ $10 \bigcirc 5 = 5$





4. 里应填几？(每题 1 分，共 6 分)

$18 \div \square = 6$

$\square \times 5 = 20$

$\square \div 6 = 1$





$30 \div \square = 6$

$4 \times \square = 16$

$\square \div 2 = 5$

五、看图列式。(每题 3 分，共 9 分)

1.

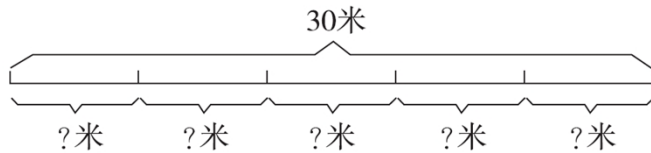


$\square \times \square = \square$

$\square \div \square = \square$








$\square \div \square = \square$

2.



$\square \bigcirc \square = \square \text{ (米)}$

3.



$\square \bigcirc \square = \square$

六、列式计算。(每题 2 分，共 8 分)

1. 被除数是 10，除数是 5，商是多少？





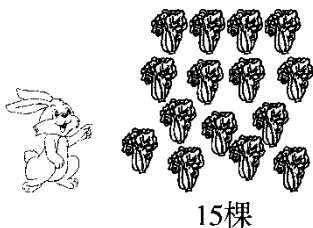
2. 把 12 平均分成 6 份，每份是多少？

3. 18 里面有几个 3？

4.5 个 6 是多少？

七、 解决问题。(1 题 6 分，2 题 4 分，3 题 9 分，4 题 8 分，共 27 分)

1. 小白兔收白菜。



(1)每个筐放 5 棵白菜，需要几个筐？

(2)小白兔要把这些白菜放到 3 个筐里，平均每个筐放几棵白菜？





2. 李老师把 12 支笔分给王芳和李明，王芳分了 2 支，李明分了多少支？

3.

		
6元	8元	?元



(1) 东东买了 3 个小灰灰，一共要多少钱？

(2) 涛涛用 24 元钱，能买几个玩具小狗？

(3) 买一个小灰灰的钱刚好可以买 2 个喜羊羊。每个喜羊羊多少钱？





4. 新星小学买回了 16 个  和 24 个 。

(1) 如果把这些足球平均分给三年级 4 个班，每班分几个？

(2) 把这些篮球全部分给二年级各班，如果二年级每个班分了 4 个篮球，二年级有几个班？





答案

一、1. $18 \div 6 = 3$ $18 \div 3 = 6$ 2.6 12

3. 4 $24 \div 6 = 4$ 24 除以 6 等于 4 4.四五二十 4

5. 5 6.4 7.4 8.12 3 4

二、1. \times 2. \times 3. $\sqrt{\quad}$ 4. \times 5. \times

三、1.B 2.C 3.B 4.B 5.C

四、1.4 20 5 3 35 49 12 2 20 35 30 1

2. $<$ $>$ $=$ $=$ $>$ $>$ $<$ $=$

3. \times $+$ \div \div $+$ $-$

4. 3 4 6 5 4 10

五、1. $3 \times 4 = 12$ $12 \div 3 = 4$ $12 \div 4 = 3$

2. $30 \div 5 = 6$ (米) 3. $16 \div 4 = 4$

六、1. $10 \div 5 = 2$ 2. $12 \div 6 = 2$

3. $18 \div 3 = 6$ $4.5 \times 6 = 30$

七、1.(1) $15 \div 5 = 3$ (个) (2) $15 \div 3 = 5$ (棵)

2. $12 - 2 = 10$ (支)

3. (1) $3 \times 8 = 24$ (元) (2) $24 \div 6 = 4$ (个) (3) $8 \div 2 = 4$ (元)

4. (1) $16 \div 4 = 4$ (个) (2) $24 \div 4 = 6$ (个)

