



## 第五单元达标测试卷

一、填一填。(每空 1 分, 共 19 分)

- 15 个百加上( )个百是 23 个百, 是( )。  
百位上的 5 比千位上的 5 少( )。
- 一个数减去 396 得 128, 这个数是( )。
- 比最大的三位数少 222 的数是( )。
- 用 4, 9, 5 三个数字组成的三位数中, 最大的是( ), 最小的是( ), 它们的差是( )。
- 在一道减法算式中, 减数和差相加得 346, 被减数是( )。

6. 在○里填上“>”“<”或“=”。

$$25 + 78 \bigcirc 100$$

$$638 + 215 \bigcirc 800$$

$$842 - 718 \bigcirc 200$$

$$525 + 275 \bigcirc 800$$

$$659 - 281 \bigcirc 400$$

$$895 - 389 \bigcirc 500$$

7.  $607 = 599 + \square$

$$405 = 399 + \square$$

$$\square + 80 = 320$$

$$560 - \square = 350$$

二、选一选。(每题 2 分, 共 10 分)

- 下面的算式中, 比  $724 - 445$  得数大的是( )。  
A.  $724 - 455$       B.  $724 - 245$       C.  $724 - 545$
- ( )加上 359, 和是 1000。  
A. 741      B. 541      C. 641
- 不能验算  $712 - 257 = 455$  的算式是( )。  
A.  $455 + 257$       B.  $712 - 455$       C.  $455 - 257$





4. 两个数的和是 583, 如果一个加数增加 90, 另一个加数减少 70, 那么和( )。

- A. 不变                  B. 增加 20                  C. 减少 20

5.  $574+384$  的和是多少? 下面说法正确的是( )。

- A. 它们的和比 1000 大                  B. 它们的和比 800 小一些  
C. 574 不到 600, 384 不到 400, 它们的和肯定不到 1000


三、森林医生。(对的打“√”, 错的打“×”, 并改正)(每题 3 分, 共 6 分)

1.



改正:

2.



改正:

四、算一算。(1 题 9 分, 2 题 12 分, 共 21 分)

1. 直接写得数。

$760-160=$                    $830+60=$                    $1500+500=$

$290+100=$                    $700+200=$                    $2400-400=$

$700-320=$                    $900-300=$                    $1400-300=$

2. 用竖式计算, 带\*的题目要验算。

$485-189=$                    $524+457=$                    $*708-499=$





$486+202=$

$875-598=$

$*678+199=$

五、连一连。(6分)

$362+282$

$420-98$

$103+396$

得数比500大

得数比500小

$986-488$

$329+299$

$768-399$

六、按要求完成下面各题。(1题2分, 2题9分, 共11分)

1. 小马虎在做一道减法题时, 把被减数968错看成了698, 结果得327, 正确的结果是( )。

2. 在方框里填合适的数字。

$$\begin{array}{r} \square 7 \square \\ + 4 \square 3 \\ \hline 9 0 1 \end{array}$$

$$\begin{array}{r} 9 \square 0 \\ - \square 3 \square \\ \hline 1 4 7 \end{array}$$

$$\begin{array}{r} \square 0 \square \\ - 2 \square 5 \\ \hline 1 8 8 \end{array}$$


七、解决问题。(1题4分, 5题5分, 其余每题6分, 共27分)

1. 有一袋糖果, 第一次分掉了158块, 第二次分掉了245块。现在袋子里的糖果比原来少了多少块?





2. 运动会上，小动物们进行 800 米长跑比赛。



(1) 小熊再跑多少米就到终点？小兔呢？

(2) 小狗已经跑了多少米？

3. 森林公园上午来了游客 358 人，下午来的游客比上午少 169 人。

(1) 下午来了游客多少人？

(2) 一天共来游客多少人？





4. (变式题)



年级	二	三	四	五
人数/人	198	270	201	281

5. 明明家距离学校 524 米，他今天上学从家向学校走出 189 米后，发现忘记带作业本了，回家取完作业本后又走到学校，他今天上学一共走了多少米？





## 答案

一、1. 8 2300 4500 2. 524 3. 777

4. 954 459 495 5. 346

6. > > < = < >

7. 8 6 240 210

二、1. B 2. C 3. C 4. B 5. C

三、1. × 改正

$$\begin{array}{r} 49 \\ + 472 \\ \hline 521 \end{array}$$

2. × 改正:

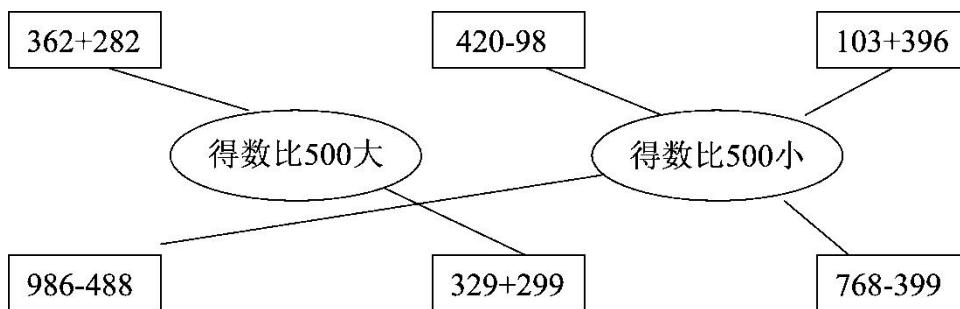
$$\begin{array}{r} 901 \\ - 372 \\ \hline 529 \end{array}$$

四、1. 600 890 2000 390 900 2000 380

600 1100

2. 296 981 209 688 277 877 验算略。

五、



六、1. 597

[点拨]可以这样思考，把968看成698少算了270，那么结果也少了270，正确结果是： $968 - 698 + 327 = 597$ 。

$$\begin{array}{r} \boxed{4} \ \boxed{7} \ \boxed{8} \\ + \ 4 \ \boxed{2} \ 3 \\ \hline 9 \ 0 \ 1 \end{array} \quad \begin{array}{r} 9 \ \boxed{8} \ 0 \\ - \ \boxed{8} \ 3 \ \boxed{3} \\ \hline 1 \ 4 \ 7 \end{array} \quad \begin{array}{r} \boxed{4} \ 0 \ \boxed{3} \\ - \ 2 \ \boxed{1} \ 5 \\ \hline 1 \ 8 \ 8 \end{array}$$

2.





[点拨]算这几小题得遵循加减法的计算法则, 从个位算起。每  
题都是从个位入手, 并且要注意进位或退位。

七、1.  $158+245=403$ (块)

答: 现在袋子里的糖果比原来少了 403 块。

2. (1) $800-381=419$ (米)

$800-243=557$ (米)

答: 小熊再跑 419 米, 小兔再跑 557 米就到终点。

(2) $800-154=646$ (米)

答: 小狗已经跑了 646 米。

3. (1) $358-169=189$ (人)

答: 下午来了游客 189 人。

(2) $358+189=547$ (人)

答: 一天共来游客 547 人。

4.  $198+270=468$ (人)

$201+281=482$ (人)

$468<500$   $482<500$

答: 二、三年级安排在一起, 四、五年级安排在一起比较合  
适, 需要安排两场。(答案不唯一)

5.  $189+189+524=902$ (米)

答: 他今天上学一共走了 902 米。

