



第二单元达标测试卷

一、填一填。(每空 1 分, 共 12 分)

1. 在算式 $12 \div 3 = ()$ 中, $()$ 是被除数, 3 是 $()$, 商是 $()$ 。



想口诀 $()$ 可以求出商。


2. 用五六三十这句口诀可以写的除法算式是 $()$ 和 $()$ 。

3. 一共有 8 块饼干, 平均分成了 4 份, 每份是 $()$ 块。

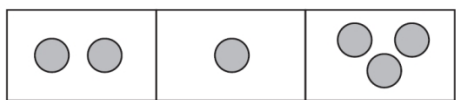
4. 20 里面有 $()$ 个 5, $()$ 里面有 3 个 4。

5.



右图能拼成 $()$ 个 , 算式是 $()$ 。

二、判断。(每题 1 分, 共 5 分)



1. 左图中的分法是平均分。 $()$

2. 计算 $3 \times 6 = 18$ 和 $18 \div 6 = 3$ 所用的口诀是一样的。 $()$

3. 被除数和除数都是 6, 商是 36。 $()$

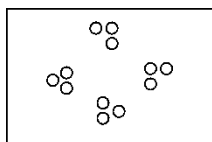
4. $\boxed{\triangle \triangle \triangle} \triangle \triangle \triangle \triangle \triangle \triangle$, 列式为 $6 \div 3 = 2$ 。 $()$

5. 把 16 个苹果分给 4 个小朋友, 每个小朋友一定分 4 个。 $()$

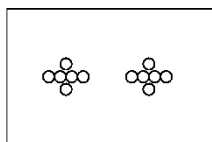
三、选一选。(每题 1 分, 共 5 分)

1. 把 12 个 \circ 平均分成 3 份, 哪种分法对? 你的选择是 $()$ 。

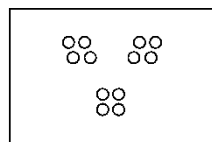




①




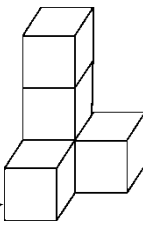
②



③

2.除数是3的除法算式是()。

- ① $6 \div 3 = 2$ ② $12 \div 4 = 3$ ③ $2 \times 3 = 6$

3.有 20 个 , 能摆成几个  ? 列式正确的是()。

- ① $20 \div 4 = 5$ (个) ② $20 \div 5 = 4$ (个) ③ $4 \times 5 = 20$ (个)

4.下面的算式中,商不是1的算式是()。

- ① $5 \div 5$ ② $2 \div 2$ ③ $2 \div 1$

5.结果可以用 $8 \div 2$ 表示的是()。

- ①把8分成2份 ②8里面有几个2 ③把8平均分成4份

四、计算。(1题12分,2题8分,共20分)





1.直接写出结果。

$6 \times 2 =$ $36 \div 6 =$ $18 - 9 =$ $10 \div 5 =$

$16 \div 4 =$ $30 + 5 =$ $9 \div 3 =$ $18 \div 6 =$

$20 - 5 =$ $6 \div 6 =$ $5 \div 5 =$ $15 \div 3 =$

2.小树叶落在哪儿好呢?

			
$14 \bigcirc 7 = 7$	$3 \bigcirc 2 = 5$	$2 \bigcirc 2 = 1$	$6 \bigcirc 6 = 0$
$1 \bigcirc 5 = 5$	$36 \bigcirc 6 = 30$	$4 = 12 \bigcirc 3$	$18 = 9 \bigcirc 9$





五、 遮住的数是几？(8分)

$16 \div \text{apple} = 4$

$\text{apple} \div 4 = 2$

$20 \div \text{apple} = 5$

$\text{apple} \times 3 = 12$

$\text{apple} \div 5 = 5$

$\text{apple} \div 1 = 1$

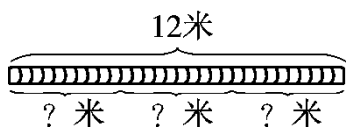
$6 \times \text{apple} = 24$

$\text{apple} \times 6 = 36$

六、一根丝带长 24 厘米，对折再对折，然后沿着折痕剪开，每段长多少厘米？(6分)

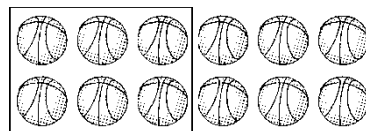
七、看图列式。(1、2 题每题 3 分，3 题 4 分，共 10 分)

1.



$\square \bigcirc \square = \square \text{ (米)}$

2.



$\square \bigcirc \square = \square \text{ (份)}$

3.



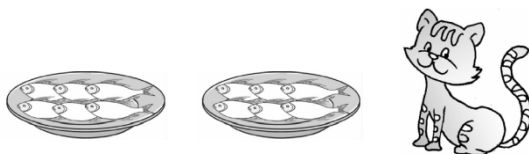
$\square \bigcirc \square = \square \text{ (个)} \quad \square \bigcirc \square = \square \text{ (个)}$

$\square \bigcirc \square = \square \text{ (个)} \quad \square \bigcirc \square = \square \text{ (份)}$

八、解决问题。(1 题 6 分，2 题 12 分，其余每题 8 分，共 34 分)

1. 李阿姨将 6 个面包装一盒，18 个面包可以装几盒？

2. 小猫吃鱼。



(1) 每盘装 6 条，2 盘一共多少条鱼？






(2)如果把这些鱼平均分给 3 只小猫，每只小猫分得几条鱼？

(3)如果每只小猫分 4 条鱼，这些鱼可以分给几只小猫？

3.(变式题)春节之际，家家挂灯笼。



(1)10 个灯笼，每个大门挂 2 个，一共可以挂几个大门？

(2)10 个灯笼，用去 2 个，还剩几个？

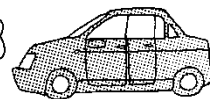
4.4 个家庭共 24 人租车出去旅行。



限坐6人。

面包车

限坐4人。



小汽车

(1)若都坐面包车，需要租几辆？

(2)若都坐小汽车，需要租几辆？





答案

一、1.4 12 除数 4 三四十二 $2.30\div 6=5$ $30\div 5=6$

3. 2 4.4 12 5.3 $15\div 5=3$

二、1.× 2.√ 3.× 4.× 5.×

三、1.③ 2.① 3.② 4.③ 5.②

四、1.12 6 9 2 4 35 3 3 15 1 1 5

2. - + ÷ - × - ÷ +

五、4 8 4 4 25 1 4 6 易错点拨：先判断用哪个口诀，再计算。

六、 $24\div 4=6$ (厘米)

易错点拨：易因弄不清对折再对折共折成几段而出错。

七、1. $12\div 3=4$ 2. $12\div 6=2$

3. $3\times 4=12$ $4\times 3=12$ $12\div 3=4$ $12\div 4=3$

八、1. $18\div 6=3$ (盒)

2. (1) $6\times 2=12$ (条) (2) $12\div 3=4$ (条)

(3) $12\div 4=3$ (只)

3. (1) $10\div 2=5$ (个) (2) $10-2=8$ (个)

4. (1) $24\div 6=4$ (辆) (2) $24\div 4=6$ (辆)

