



### 一年级第二学期数学期中测试卷(二)

一、我会填。(8、10 题每题 2 分, 其余每空 1 分, 共 26 分)



1. 4 个十和 7 个一组成( ), 52 里面有( )个一和( )个十。

2. 100 是( )位数, 它是由( )个十组成的。

3. 长方形的( )边相等, 正方形的( )边相等。

4. 计数器上, 从右边起, 第一位是( )位, 第三位是( )位。

5. 魔方的左右面是( )形, 一元硬币的面是( )形。

6. 用   既可以拼成一个正方形, 也可以拼成一个( )形或( )形。

7. 8 比 15 少( ), 比 3 多 9 的数是( ), 14 比 6 多( )。

8. 比 48 大比 52 小的数有( )。

9. 按规律填数。

91			88	
----	--	--	----	--

	72		76	
--	----	--	----	--

10. 一个两位数的个位和十位上的数字和是 5, 这个两位数可能是( )。

二、我会选。(每题 1 分, 共 5 分)

1. “65”这个数中的“6”表示( )。

A. 6 个一

B. 6 个十

C. 6 个百

2. 下面的图形是平行四边形的是( )。





3. 青蛙吃了 56 只害虫，啄木鸟吃的害虫比青蛙吃的多一些，啄木鸟可能吃了( )只。

- A. 48                      B. 62                      C. 83

4. 下面不是体育用品的是( )。



5. 个位上的数字比十位上的数字大的是( )。

- A. 29                      B. 83                      C. 95

三、算一算，比一比。(1 题 12 分，2 题 6 分，3 题 5 分，共 23 分)

1. 算一算。

$18-9=$                        $7+9=$                        $56-6=$                        $18-4+3=$

$14-8=$                        $8+60=$                        $76-6=$                        $12-5+4=$

$30+7=$                        $5+3+7=$                        $16-2-5=$                        $18-3+3=$

2. 在( )里填上合适的数。

$12-( )=5$                        $( )-6=20$                        $( )+60=65$

$90+( )=99$                        $( )-5=70$                        $( )+8=14$

3. 把下列算式按得数的大小从大到小排列。

$12-5$                        $30+9$                        $9+8$                        $48-40$                        $73-3$

$( ) > ( ) > ( ) > ( ) > ( )$

四、把下面的百数表填完整。(11 分)

	75	
	85	


	27	

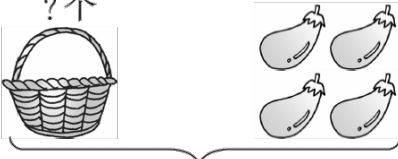
		70






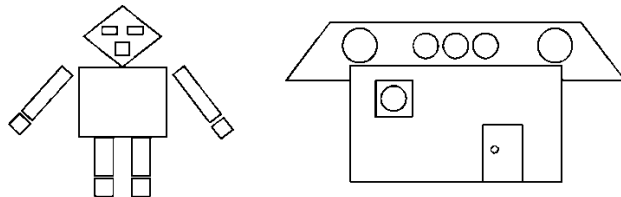
五、看图列式。(1题4分，其余每题2分，共8分)




1.   $\square \bigcirc \square = \square$  (个)  
 $\square \bigcirc \square = \square$  (个)  
 $\square \bigcirc \square = \square$  (个)  
 $\square \bigcirc \square = \square$  (个)

2.   
 11个  
 $\square \bigcirc \square = \square$  (个)

3.   
 ?元  
 $\square \bigcirc \square = \square$  (元)

六、看图数一数。(6分)



			
个数			

七、解决问题。(1题3分，2、3题每题4分，其余每题5分，共21分)

1. 小红跳了42下，猜一猜他们可能各跳了多少下。(在正确答案的下面画“√”)

我跳的比小红少一些。



小力

我跳的比小红多得多。



小云

我跳的比小红多一些。



小飞





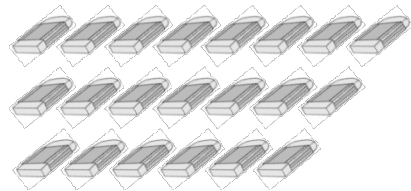
	35 下	18 下	50 下	81 下
小力				
小云				
小飞				

2. 希望小学捐书，一(1)班捐了 68 本，一(2)班再捐 8 本就和一(1)班同样多，一(2)班捐了多少本？

3. 花瓶里要插 13 枝花，还差几枝？




4. 每个学生分 4 块，可以分给多少个学生？



5. 小亮比小青少几本故事书？

我有8本故事书，4本连环画。



小亮

我有28本故事书。



小青

### 答案





一、1. 47 2 5 2. 三 10 3. 对 4 条

4. 个 百 5. 正方 圆

6. 三角 平行四边

7. 7 12 8 8. 49, 50, 51

9. 90 89 87 70 74 78

10. 14, 23, 32, 41, 50

二、1. B 2. B 3. B 4. B 5. A

三、1. 9 16 50 17 6 68 70 11 37 15 9 18

2. 7 26 5 9 75 6

3.  $73-3 > 30+9 > 9+8 > 48-40 > 12-5$

四、

74	75	
	85	86
		96

	27	
36	37	38
	47	

68	69	70
	79	
	89	

五、1.  $50+4=54$   $4+50=54$

$54-4=50$   $54-50=4$

2.  $11-4=7$   $3.8+20=28$

六、

	○	□	▭
个数	7	6	9

七、1.

	35下	18下	50下	81下
小力	√			
小云				√
小飞			√	

2.  $68-8=60$ (本)





3.  $13-4=9$ (枝)
4. 可以分给 5 个学生。
5.  $28-8=20$ (本)

