



周测培优卷 1

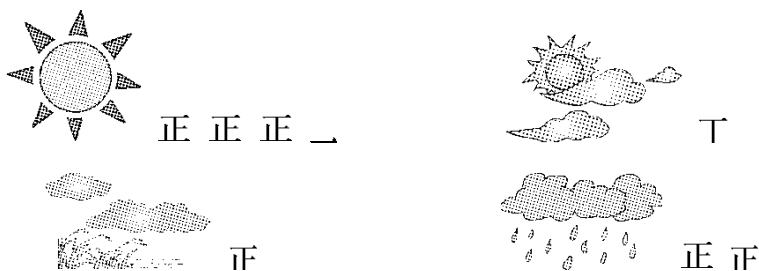
一、我会填。(1 题 12 分, 2 题 24 分, 共 36 分)

1. 下面是二(1)班同学最喜欢看的动画片情况统计表。

动画片	《熊出没》	《米奇妙妙屋》	《猫和老鼠》	《魔豆传奇》
人数	28 人	8 人	11 人	9 人

- 最喜欢看()的人最多, 最喜欢看()的人最少。
- 最喜欢看《猫和老鼠》和《魔豆传奇》的一共有()人。
- 二(1)班一共有()人。

2. 下面是某地区一个月的天气情况。



- 这个月()的天数最多, 共有()天。
- 这个月多云有()天, 比晴天少()天。
- 这个月阴天有()天, 比多云多()天。
- 这个月共有()天。如果知道这个月的气温比较高, 人们感到很炎热, 你认为这个月属于()季。

二、走进生活, 解决问题。(1 题 20 分, 2 题 18 分, 3 题 26 分, 共 64 分)

1. 阳光小学倡导每位同学争做环保小卫士。小青、小聪、小雨、小方分别将他们家一周内使用塑料袋的情况统计如下:





小青家：×××××××

小雨家：√√√√√√√√

小聪家：○○○

小方家：△△△△

(1) 把记录的结果填在下表中。





家庭	小青家	小雨家	小聪家	小方家
个数				

(2) 谁家这一周内使用塑料袋最多？谁家这一周内使用塑料袋最少？

(3) 塑料垃圾被称为“白色污染”。你对小雨家有什么好的建议吗？

2. 二(1)班新学期选举正、副班长，从下面四名候选人中选出两名。

下面是同学们投票的情况(每人投 1 票)。

 小杰	 小丽	 小笑	 小伟
正正下	正一	正正正	正

(1) 小杰比小伟多得多少票？

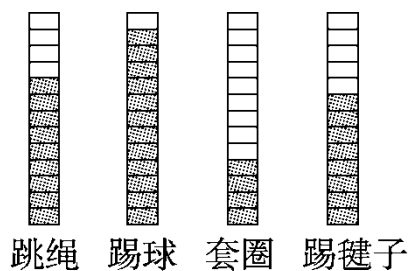







(2) 二(1)班一共有多少人参加了投票?

(3) 根据投票结果, 你认为谁当正班长? 谁当副班长?

3. 下面是二(2)班同学体育课上参加体育活动的情况。



- (1) 如果一个  表示 1 人, 套圈的比踢毽子的少()人。
- (2) 如果一个  表示 2 人, 那么跳绳的有()人, 踢球的有()人, 套圈的有()人, 踢毽子的有()人。
- (3) 这个班有两名同学缺勤(一个  表示 1 人), 如果他俩都来上体育课, 参加人数最多的活动会改变吗?





答案

一、1.(1)《熊出没》 《米奇妙妙屋》 (2)20 (3)56

2. (1)晴天 16 (2)2 14 (3)4 2 (4)31 夏

二、1.(1)7 8 3 4

(2)小雨家这一周内使用塑料袋最多, 小聪家这一周内使用塑料袋最少。

(3)用布袋代替塑料袋□或者重复使用塑料袋。

[点拨])第(3)题答案不唯一。

2. (1) $13-4=9$ (票)

(2) $13+6+15+4=38$ (人)

(3)小笑当正班长□小杰当副班长。

3. (1)4

(2)18 24 8 16

(3)不会改变。

